


ACTIVIDADES: LEER E INTERPRETAR DATOS DESDE TABLAS Y PICTOGRAMAS

Actividad 1: Diego realiza una encuesta a sus amigos y les pregunta por sus animales preferidos.



a) ¿A cuántos niños le preguntó?.....

b) ¿Cuántos prefieren al perro?.....




c) ¿Cuántos prefieren al gato?.....

d) ¿Cuántos prefieren a la paloma?.....

e) ¿Cuántos prefieren al caballo?.....

f) ¿Cuántos prefieren al pollo?.....

Actividad 2: Rocío pregunta a sus amigos por el sabor de helado que más les gusta. Cuenta las marcas para saber la cantidad. Escribe el número total de preferencias.

HELADO	CONTEO	TOTAL
 CHOCOLATE		
 VAINILLA		
 FRUTILLA		
TOTAL		

Elaborado por: Programa de Educación Rural División de Educación General; Ministerio de Educación
Módulo didáctico para la enseñanza y el aprendizaje de la asignatura de Matemática en escuelas rurales multigrado.