







PAUTA ACTIVIDADES: COMPARAR LONGITUDES

1. Marque con un  qué cinta es **más corta**.



2. Encierre cuál de los siguientes árboles es el más pequeño



3. Pinte el objeto más largo



4. Ordene con los números 1, 2 y 3 los siguientes objetos desde el más corto al más largo.



1

3

2