

ACTIVIDADES
Interpretar información

1. Observe la imagen y responda:



a) Cuente los adultos, las niñas, los niños y las guaguas y anótelos en la siguiente tabla:

Edad	Número de personas
Guaguas	
Niñas	
Niños	
Adultos	


Según la tabla, responda:





b) ¿Cuántas personas hay?

c) ¿Hay más niños o niñas?

d) ¿Hay más guaguas o niños?

2. Una encuesta realizada en segundo básico sobre la fruta que más les gusta, arrojó los siguientes resultados: **5** niños prefieren la frutilla, a **4** de ellos les gusta la manzana, **7** el plátano y **2** la cereza.

De acuerdo a esa información, complete el siguiente pictograma pintando cada  según la fruta que prefieren.

Fruta que prefieren	Número de niños
	<input type="checkbox"/> <input type="checkbox"/> <input type="checkbox"/> <input type="checkbox"/> <input type="checkbox"/> <input type="checkbox"/> <input type="checkbox"/> <input type="checkbox"/> <input type="checkbox"/> <input type="checkbox"/>
	<input type="checkbox"/> <input type="checkbox"/> <input type="checkbox"/> <input type="checkbox"/> <input type="checkbox"/> <input type="checkbox"/> <input type="checkbox"/> <input type="checkbox"/> <input type="checkbox"/> <input type="checkbox"/>
	<input type="checkbox"/> <input type="checkbox"/> <input type="checkbox"/> <input type="checkbox"/> <input type="checkbox"/> <input type="checkbox"/> <input type="checkbox"/> <input type="checkbox"/> <input type="checkbox"/> <input type="checkbox"/>
	<input type="checkbox"/> <input type="checkbox"/> <input type="checkbox"/> <input type="checkbox"/> <input type="checkbox"/> <input type="checkbox"/> <input type="checkbox"/> <input type="checkbox"/> <input type="checkbox"/> <input type="checkbox"/>

Observando el pictograma que completó, responda:

a) ¿Cuántos niños contestaron la encuesta?

b) ¿Cuál es la fruta que más les gusta?

c) ¿A cuántos niños más les gusta el plátano que la frutilla?