

nombre

curso

fecha

PAUTA - ACTIVIDADES: ADICIONES Y SUSTRACCIONES CON NÚMEROS MENORES A 20 D

1. Resuelva los siguientes problemas, completando la frase y dibujando los elementos que faltan. Píntelos a su gusto:

a) Juan tiene un tren con 5 carritos y le regalaron 6 carritos más. ¿cuántos carritos tiene ahora?



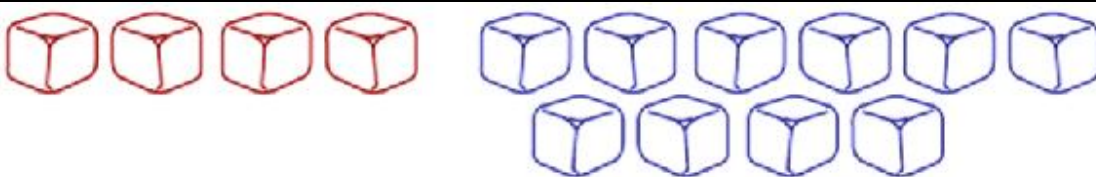
Tiene 11 carritos ahora.

b) Martina plantó en su jardín 11 plantas, su mamá le dio 9 más. ¿cuántas plantas tiene ahora en su jardín?



Tiene 20 plantas ahora en su jardín.

c) Carlos juega a armar figuras con unos cubos, al principio solo tiene 4 cubos y su hermano Pedro le pasó 10 más. ¿Cuántos cubos tiene ahora Carlos?



Carlos tiene 14 cubos ahora.

d) Tomás cosechó 8 manzanas el día lunes y 11 el día martes. ¿cuántas manzanas cosechó en total?



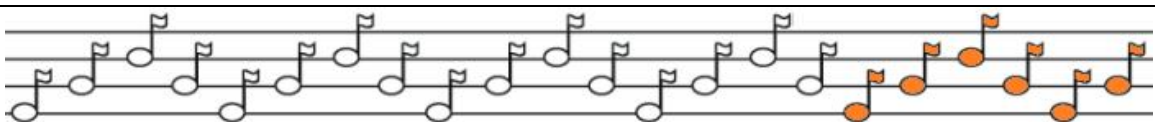
Cosechó 19 manzanas en total.

- e) Claudia ha recogido 12 hojas para su trabajo de artes y su padre le regaló 5 más. ¿Cuántas hojas tiene en total?




Claudia tiene 17 hojas en total

- f) Josefina ha creado una canción con 16 notas musicales, le faltan 6 más, ¿cuántas notas musicales tendrá la canción?



Tendrá 22 notas musicales

2. Francisco invitó a 10 de sus amigos a su casa y quiere darles a cada uno de ellos una fruta.



a) Les dará una manzana y una naranja a cada uno, ¿cuántas frutas necesitará?

$$10 + 10 = 20$$

Necesitará 20 frutas en total.

b) Si no asisten dos de sus amigos, ¿cuántas frutas repartirá?

$$20 - 2 = 18$$

Repartirá 18 frutas en total.