



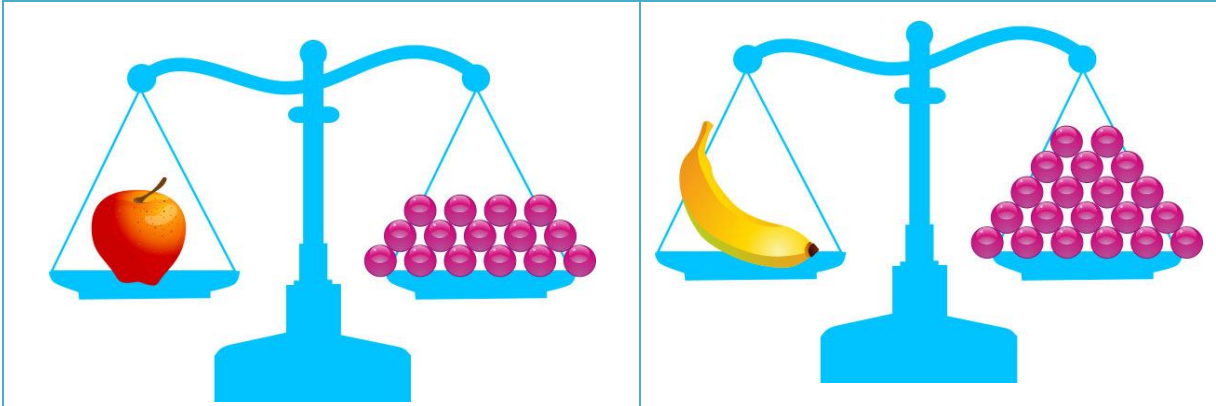


PAUTA ACTIVIDADES: IGUALDADES CON BALANZAS

1. Si cada  = 1 unidad, complete en el recuadro la cantidad de unidades que equivale un tomate y una zanahoria respectivamente:


Un tomate equivale a <u> 7 </u> unidades

Una zanahoria equivale a <u> 6 </u> unidades

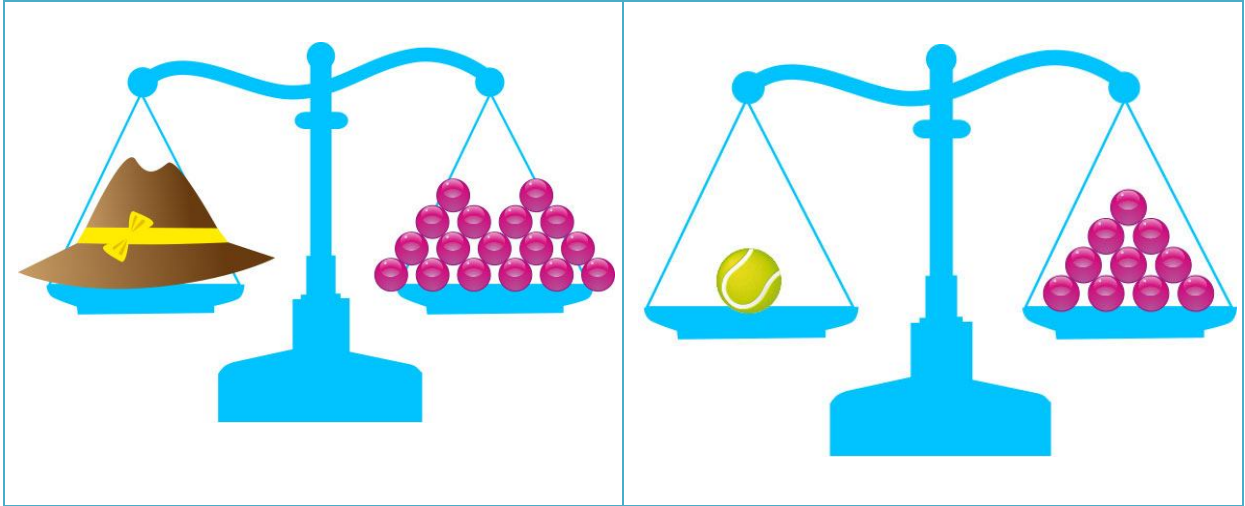
2. Observe los dibujos y luego complete cada oración.



- a) Una manzana equivale a 15 bolitas.
- b) Un plátano equivale a 20 bolitas.
- c) 12 bolitas equivalen a una naranja.
- d) Una manzana pesa ¹ 3 bolitas más que una naranja.
- e) Una naranja pesa 8 bolitas menos que un plátano.

¹ Aunque lo correcto hablar de "masa" se ha optado por escribir "peso" de acuerdo a las Bases Curriculares y Programas de Estudio del sector de Ciencias Naturales.

3. Observe los dibujos y luego complete cada oración.



- a) Una pelota equivale a 10 bolitas.
- b) Un sombrero equivale a 17 bolitas.
- c) 6 bolitas equivalen a una flor.
- d) Un sombrero pesa 7 bolitas más que una pelota.
- e) Una flor pesa 4 bolitas menos que una pelota.