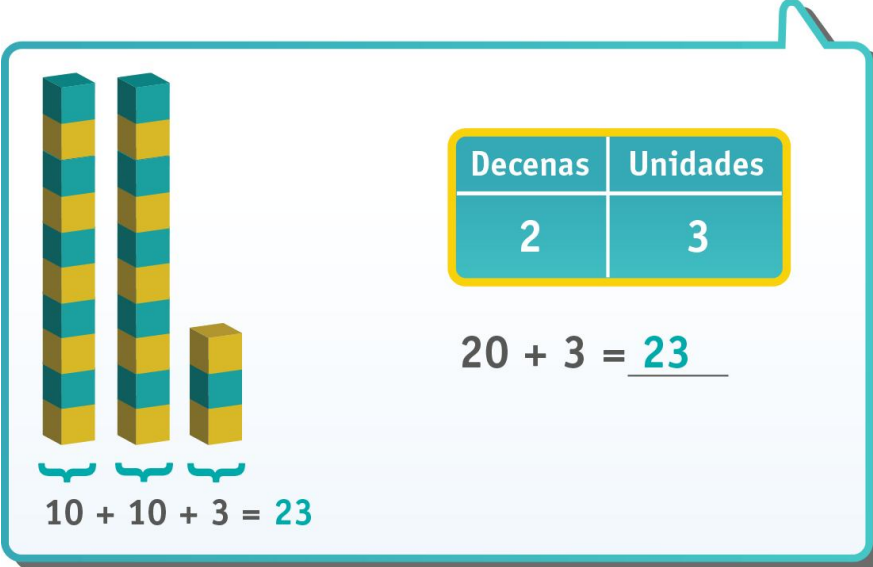


## PAUTA ACTIVIDADES: UNIDADES Y DECENAS

- I. **Indique** cada número asociado al total de cubos en la imagen. Luego **identifique** las unidades y decenas. Guíese por el ejemplo.

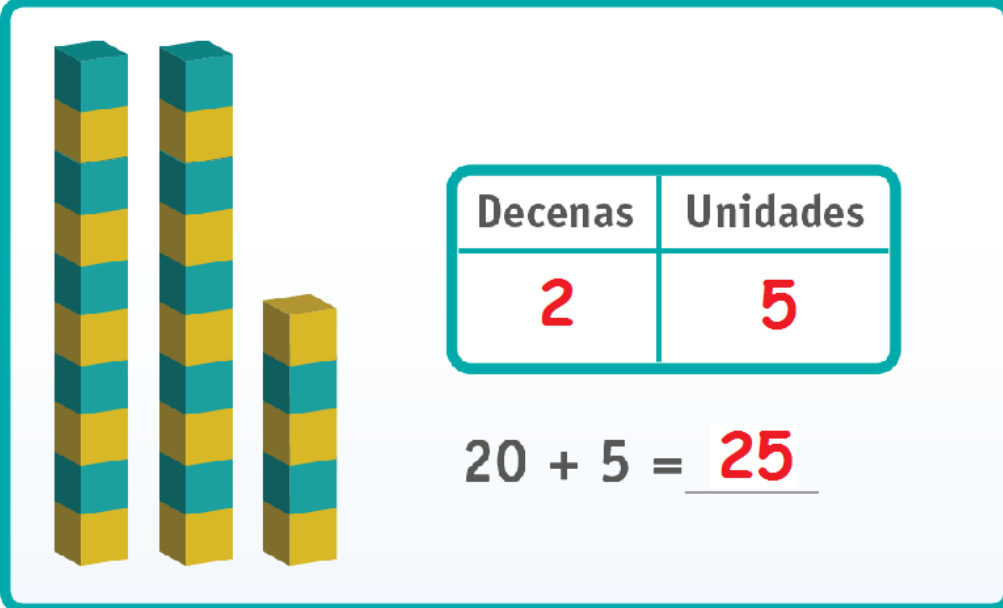


Decenas	Unidades
2	3

$20 + 3 = \underline{23}$

$10 + 10 + 3 = 23$


a)



Decenas	Unidades
2	5

$20 + 5 = \underline{25}$


b)



Decenas	Unidades
3	6

$30 + 6 = \underline{36}$

c)



Decenas	Unidades
4	0

$40 + 0 = \underline{40}$

II. Elija la alternativa correcta y enciérrela con una línea de color.

1. El valor que representa el dígito 8 en el número 89

a) 8

b) 9

c) 80

d) 90

2. El valor que representa el dígito 2 en el número 72

a) 2

b) 7

c) 20

d) 22

3. ¿Qué lugar ocupa el 6 en el número 68?

a) Unidad

b) Decena

c) Centena

4. ¿Qué lugar ocupa el 4 en el número 54?

a) Unidad

b) Decena

c) Centena

**Elaborado por:** Fabiola Sotelo A.