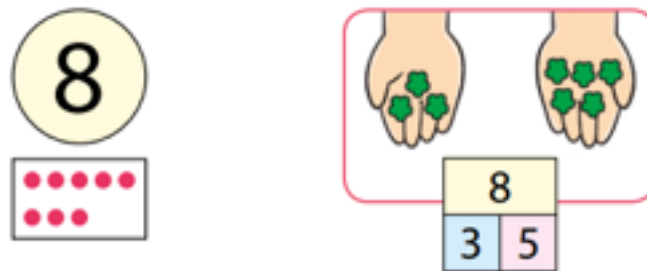


1. Laura repartió 8 hojitas en sus manos.

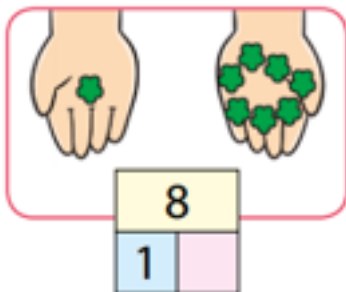


En una de sus manos tiene 3 hojitas y en la otra tiene 5.

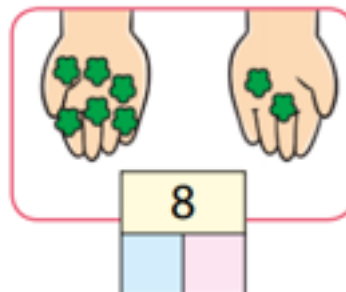


En cada reparto, indica la cantidad de hojitas que puso Laura en cada una de sus manos.

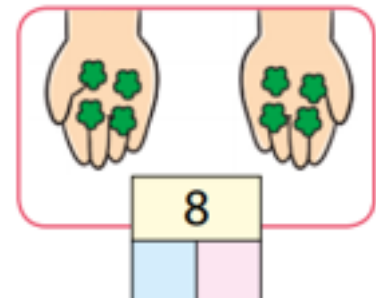
a)



b)



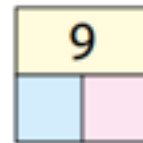

c)



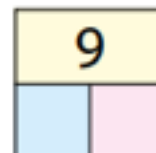
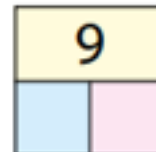
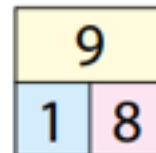
2. Observa a José cómo compuso el número 9.




Completa:



3. Observa las flores y completa los esquemas.



4. Marca el reparto de 8 manzanas.



5. Marca la descomposición del número 9.

a) 

9	
7	2

b) 

9	
5	5

c) 

9	
5	3