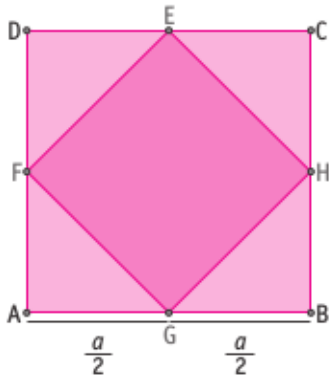
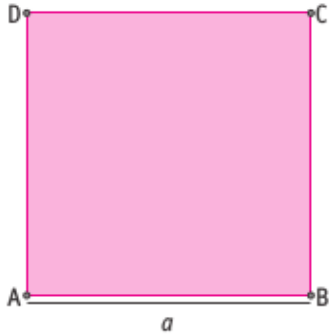


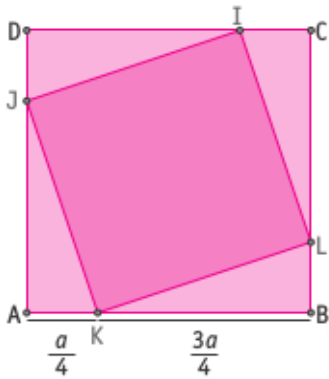
Matemática 2° medio / Unidad 1 / OA1 / Actividad 9

9. Dado el cuadrado ABCD de lado a , determinan, utilizando raíces, la expresión algebraica del perímetro de los cuadrados inscritos en este, como muestran las figuras.



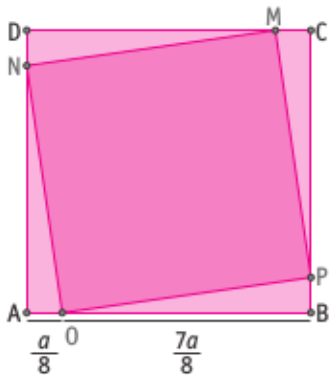
Longitud del lado del cuadrado EFGH: _____

Perímetro del lado del cuadrado EFGH: _____



Longitud del lado del cuadrado IJKL: _____

Perímetro del lado del cuadrado IJKL: _____



Longitud del lado del cuadrado MNOP: _____

Perímetro del lado del cuadrado MNOP: _____