

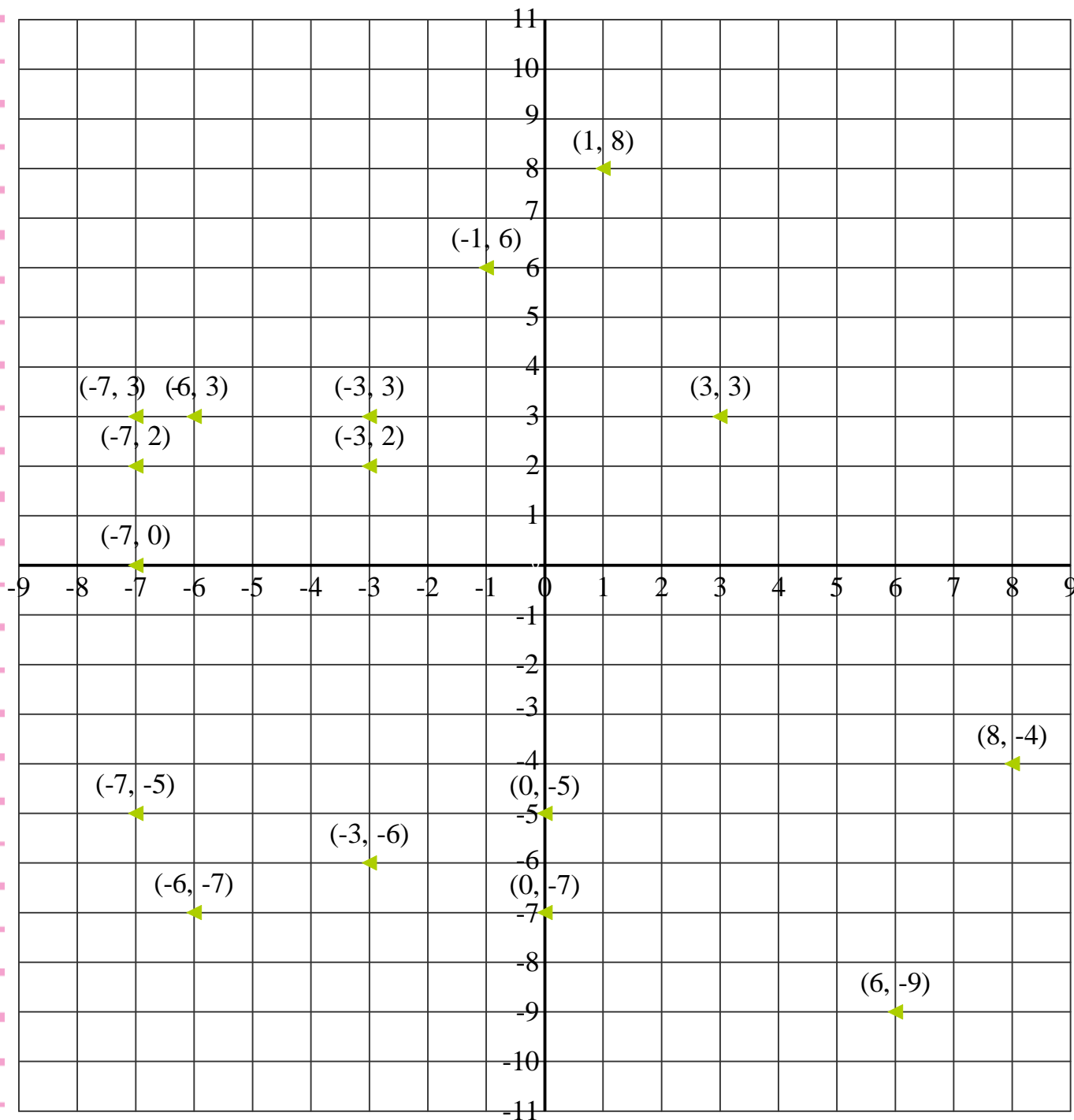
nombre \_\_\_\_\_

curso \_\_\_\_\_

fecha \_\_\_\_\_

## Pauta: Coordenadas en el plano cartesiano

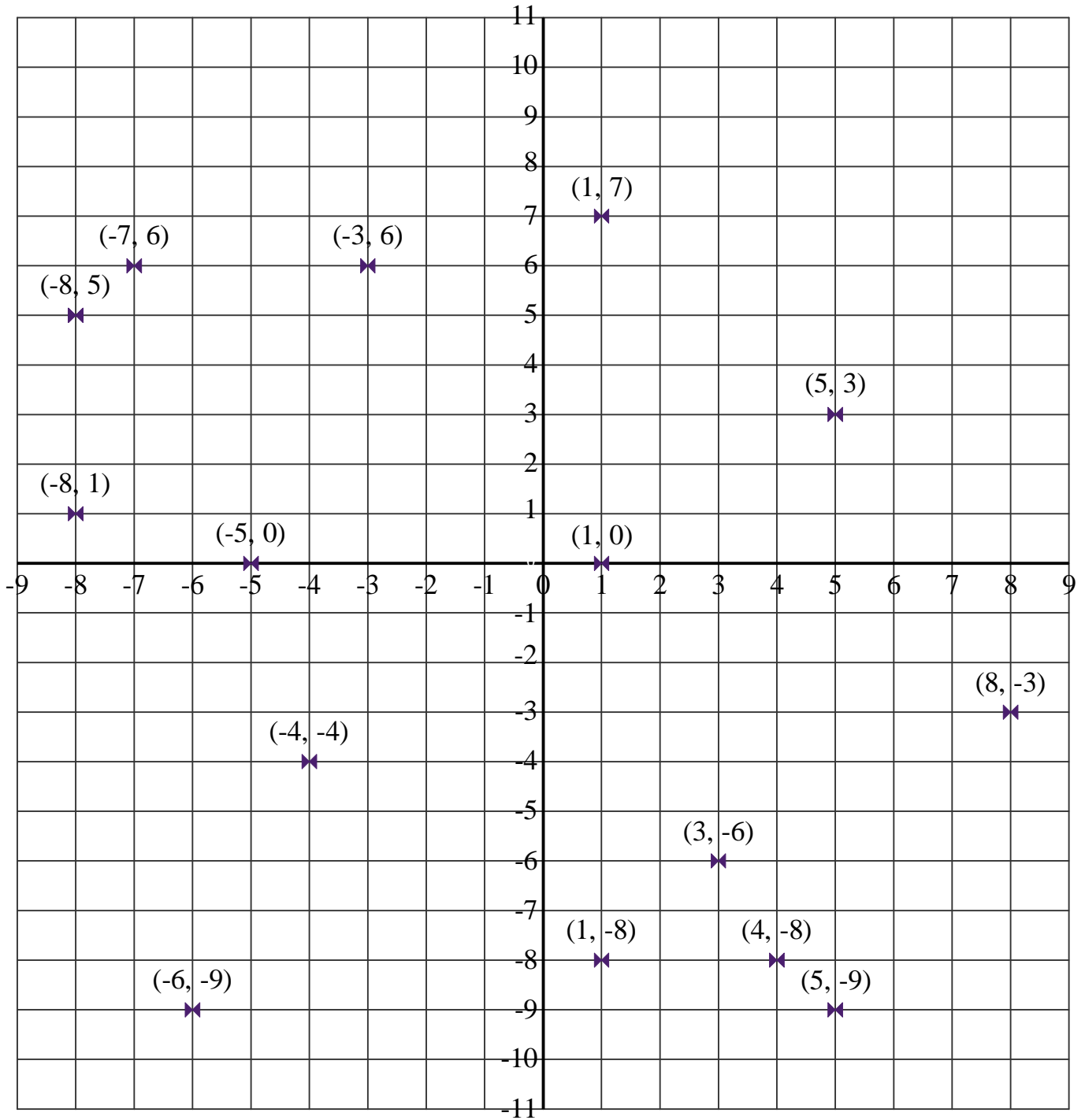
A Ubique las siguientes coordenadas en el plano cartesiano.

 $(-3, 3)$   
 $(-3, 2)$  $(8, -4)$   
 $(0, -5)$  $(-7, 3)$   
 $(-1, 6)$  $(-7, -5)$   
 $(-7, 2)$  $(-3, -6)$   
 $(-6, -7)$  $(3, 3)$   
 $(-7, 0)$  $(0, -7)$   
 $(6, -9)$  $(1, 8)$   
 $(-6, 3)$ 

# B

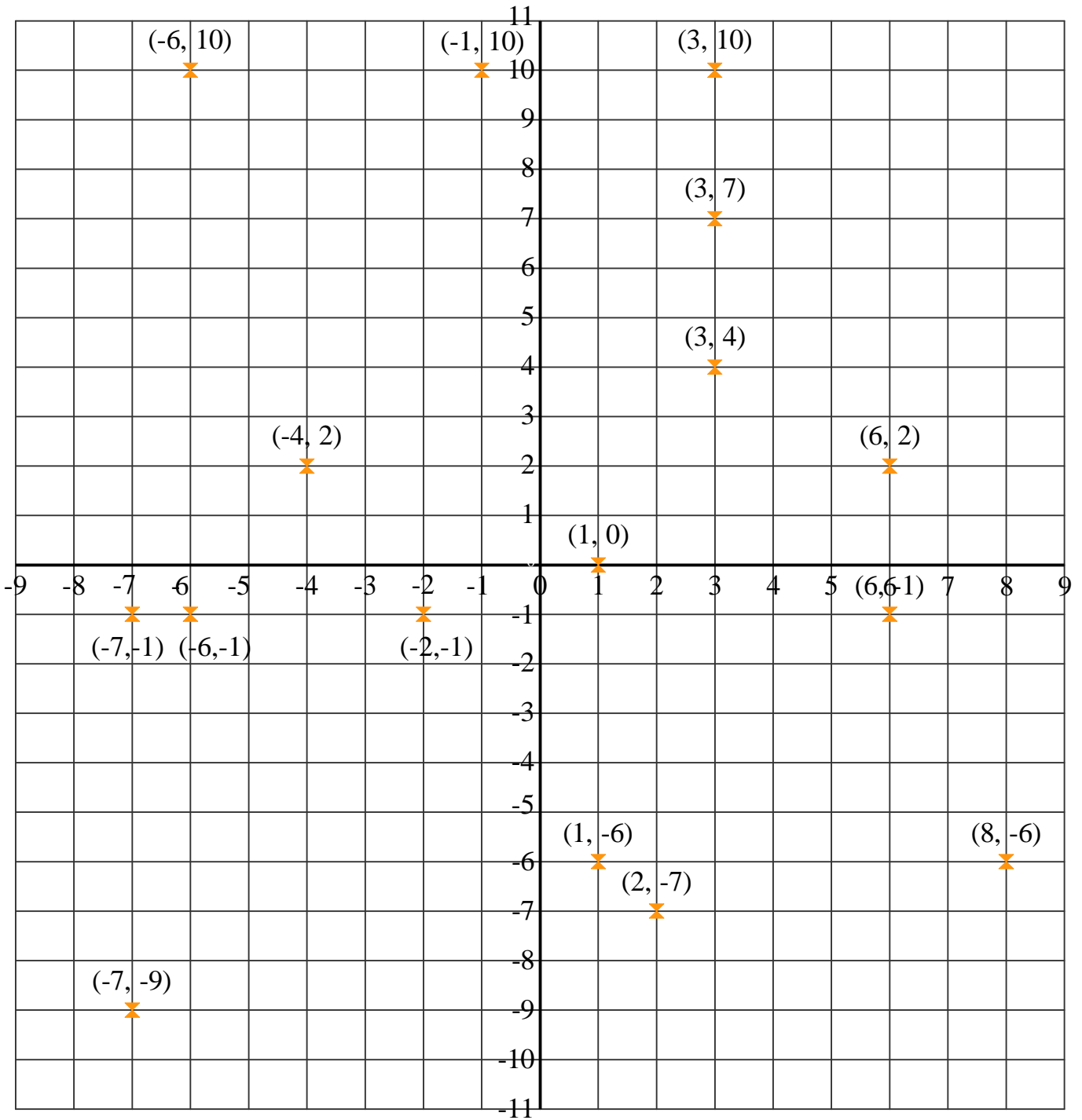
(1, 0)      (-7, 6)      (4, -8)      (-3, 6)      (8, -3)      (-5, 0)      (1, 7)      (-4, -4)

(-8, 5)      (-8, 5)      (5, -9)      (-8, 1)      (3, -6)      (-6, -9)      (5, 3)      (1, -8)



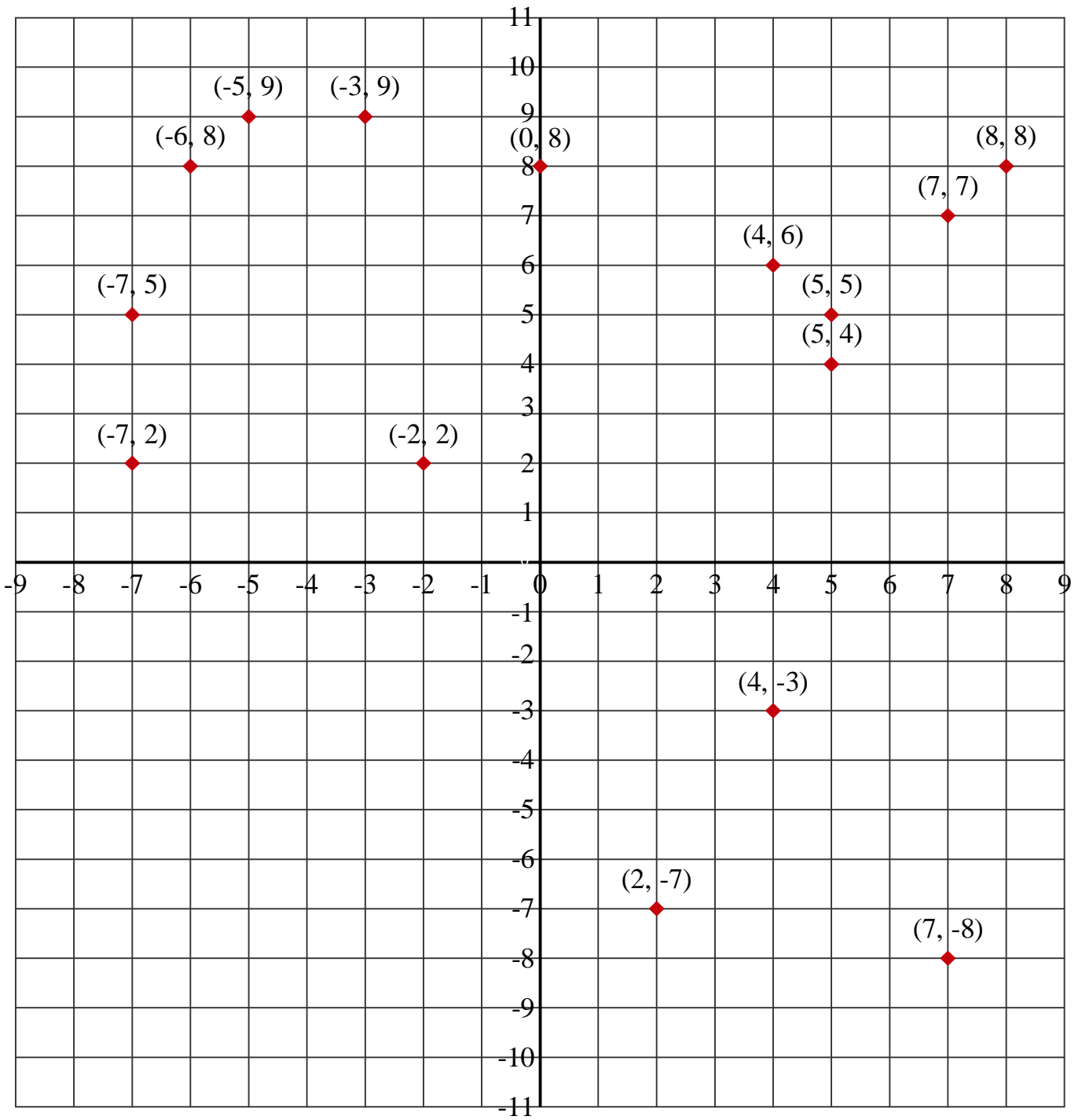
# C

$(-7, -9)$     $(-7, -1)$     $(-6, 10)$     $(-6, -1)$     $(2, -7)$     $(-4, 2)$     $(3, 7)$     $(-2, -1)$   
 $(-1, 10)$     $(6, 2)$     $(1, -6)$     $(3, 10)$     $(1, 0)$     $(6, -1)$     $(8, -6)$     $(3, 4)$



# D

$(-7, 5)$        $(4, 6)$        $(5, 5)$        $(5, 4)$        $(4, -3)$        $(8, 8)$        $(-5, 9)$        $(-6, 8)$   
 $(5, 4)$        $(-7, 2)$        $(0, 8)$        $(2, -7)$        $(7, -8)$        $(-2, 2)$        $(-3, 9)$        $(7, 7)$



# E

- |          |          |          |         |         |          |         |          |
|----------|----------|----------|---------|---------|----------|---------|----------|
| (7, -3)  | (-6, -7) | (-1, -5) | (0, 5)  | (6, -5) | (5, 10)  | (-4, 6) | (-1, -6) |
| (-3, -8) | (-3, 6)  | (5, -10) | (-6, 2) | (0, 0)  | (-5, -5) | (-5, 3) | (-2, -8) |

