

nombre _____




curso _____

fecha _____


























JUEGO: SIMBOLOGÍA DINOSAURIOS 2

En la siguiente figura las cifras han sido reemplazadas por símbolos. Cada símbolo representa siempre la misma cifra.

Los números que aparecen al costado de cada línea horizontal y debajo de cada línea vertical, han sido obtenidos por las ADICIONES (sumas) sucesivas de las cifras que componen cada línea.

Los símbolos que aparecen representan cifras del 1 al 6. Si  = 1,  = 5 y  = 8, ¿puedes descubrir las cifras que esconden los demás símbolos?

 = 1
  = 5
  =
  =
  = 8

					→ 13
					→ 26
					→ 18
					→ 15
					→ 24
↓	↓	↓	↓	↓	
18	18	20	17	23	