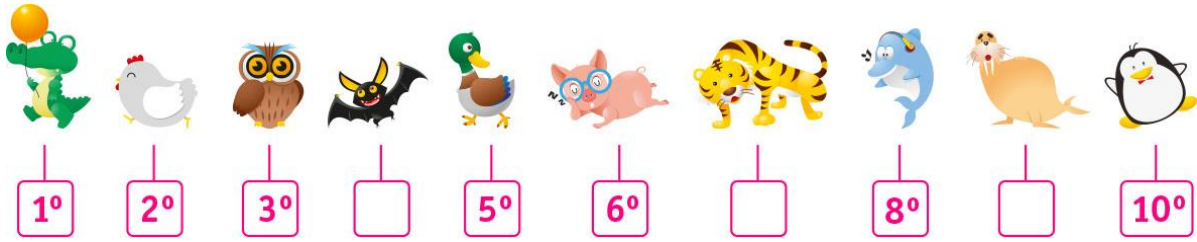


**ACTIVIDADES: NÚMEROS ORDINALES**



1. Responda:

- El búho se encuentra en el..... lugar.
- El pato se encuentra en el..... lugar.
- El delfín se encuentra en el..... lugar.
- El tigre se encuentra en el..... lugar.
- El pingüino se encuentra en el..... lugar.
- El cocodrilo se encuentra en el..... lugar.
- El murciélago se encuentra en el..... lugar.

2. Consulte en su casa o a una persona cercana que posición obtuvo (1°primero, 2°segundo , 3°tercero ,4°cuarto,5° quinta, 6° sexto, 7°séptimo, 8° octavo, 9° noveno o 10°) por ejemplo:  
Complete:

- Colo - Colo en el último torneo de fútbol profesional de Chile salió \_\_\_\_\_
- Su curso en la última competencia deportiva que se hizo en el colegio salió \_\_\_\_\_

3. Indique la ubicación del cuadrado verde que se encuentra en la imagen contando de izquierda a derecha.



Rojo



Naranja



Verde



Azul



Amarillo


El cuadrado verde se encuentra en el \_\_\_\_\_ lugar

4. Observe los siguientes animales que están pegados en un mural de la sala, en una hilera: un perro, un gato, un pollo, un pato, un cerdo, un caballo, una oveja, una tortuga y una culebra. Identifican el lugar en que se encuentra cada uno de ellos al contar de izquierda a derecha.




| Animales | Lugar en que se encuentra |
|----------|---------------------------|
| Perro    |                           |
| Culebra  |                           |
| Pato     |                           |
| Pollo    |                           |
| Cerdo    |                           |
| Gato     |                           |
| Caballo  |                           |
| Oveja    |                           |
| Tortuga  |                           |


5. Dibuje en los círculos varias estrellas, cuya cantidad está entre 3 y 10, ubíquelas de acuerdo a la posición que está indicada bajo cada uno de ellos.



2<sup>do</sup> lugar



1<sup>er</sup> lugar



3<sup>er</sup> lugar