

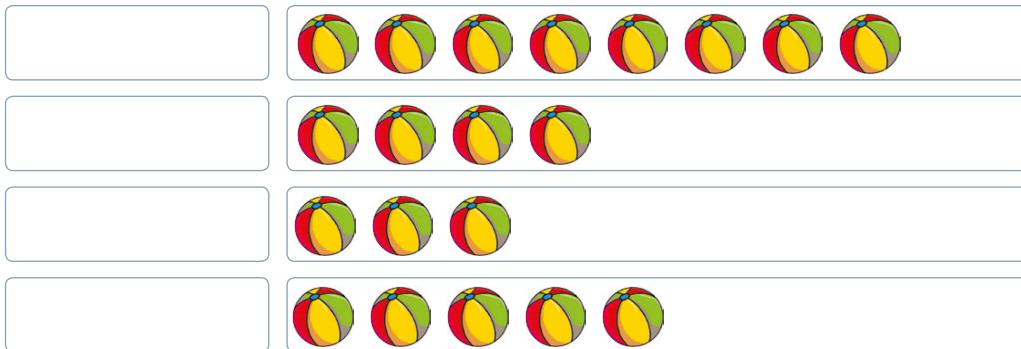


Presiona AQUÍ para realizar esta misma evaluación de forma online. Así tu profesor tendrá acceso a tus resultados automáticamente y podrá entregarte la retroalimentación oportuna.


EN CASO QUE NO PUEDAS REALIZAR LA EVALUACIÓN EN FORMA ONLINE, ESCRIBE Y RESPONDE, EN TU CUADERNO, LAS SIGUIENTES PREGUNTAS:

1. ¿Qué dato falta en el pictograma?

Actividad preferida en el tiempo libre




- a) El título.
- b) Los símbolos.
- c) El valor de cada símbolo.
- d) Las actividades preferidas.

 = 2 preferencias

2. Considerando que los estudiantes del 2° básico plantaron 12 árboles, ¿cuántos símbolos faltan en el pictograma?

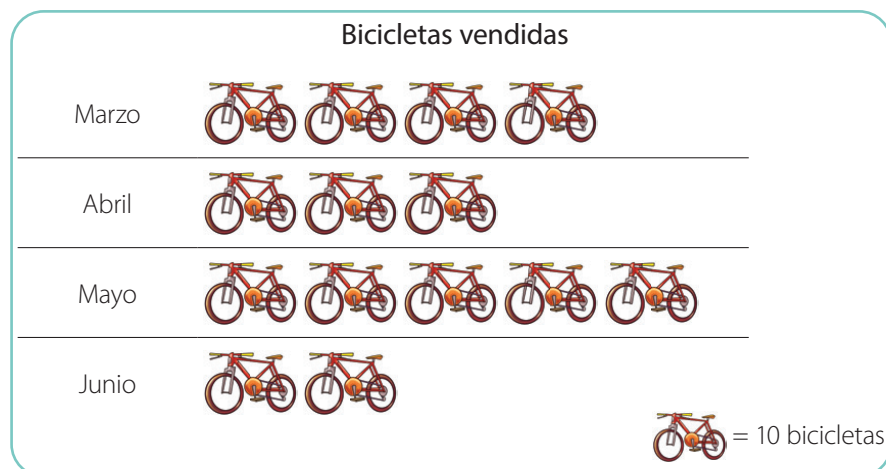
Cantidad de árboles plantados por 4 cursos



 = 3 árboles

- a) 1
- b) 2
- c) 6
- d) 10

3. Según el siguiente pictograma, ¿en qué mes se vendieron más bicicletas?



- a) Marzo
- b) Abril
- c) Mayo
- d) Junio


4. Según el siguiente pictograma, ¿cuántos kilogramos de latas más recolectó el 3° A en comparación al 3° B?

Kilogramos de latas recolectadas en la campaña de reciclaje

3° A 

3° B 

3° C 

 = 8 kg.

- a) 1
- b) 7
- c) 8
- d) 56