






Presiona AQUÍ para realizar esta misma evaluación de forma online. Así tu profesor tendrá acceso a tus resultados automáticamente y podrá entregarte la retroalimentación oportuna.

EN CASO QUE NO PUEDAS REALIZAR LA EVALUACIÓN EN FORMA ONLINE, ESCRIBE Y RESPONDE, EN TU CUADERNO, LAS SIGUIENTES PREGUNTAS:

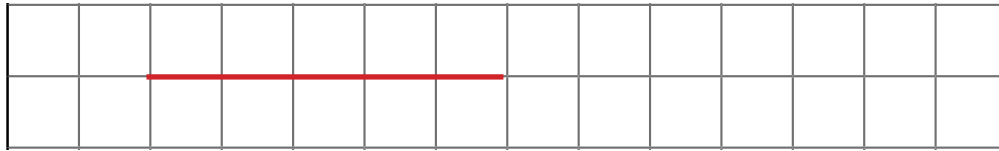
1. ¿Cuál rectángulo tiene marcado con una línea roja el ancho?



2. Si el ancho de mi brazo mide 3 clips, ¿cuántos clips puede medir el largo de mi brazo?

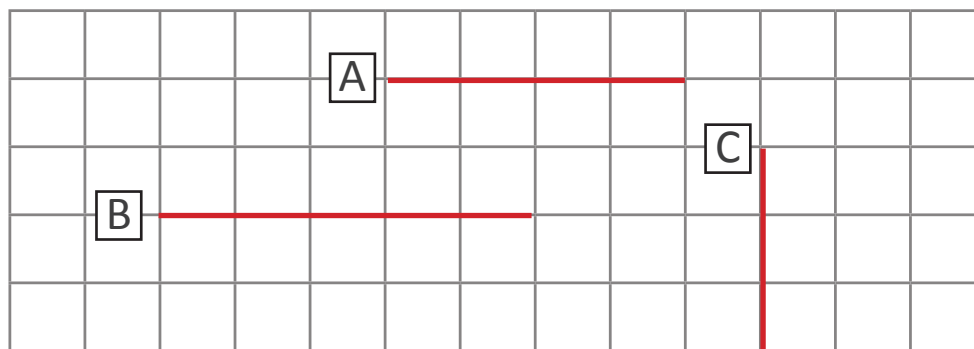
- a) Menos de 3 clips.
- b) 3 clips.
- c) Más de 3 clips.

3. ¿Cuántos cuadrados mide la siguiente línea recta?



- a) 4
- b) 5
- c) 6

4. ¿Cuál línea recta es la más corta?



- a) Línea recta A.
- b) Línea recta B.
- c) Línea recta C.