




Presiona **AQUÍ** para realizar esta misma evaluación de forma online. Así tu profesor tendrá acceso a tus resultados automáticamente y podrá entregarte la retroalimentación oportuna.

EN CASO QUE NO PUEDES REALIZAR LA EVALUACIÓN EN FORMA ONLINE, ESCRIBE Y RESPONDE, EN TU CUADERNO, LAS SIGUIENTES PREGUNTAS:

1. ¿Cuál regla tiene marcado el ancho con una línea roja?


a)



b)




c)



2. ¿Cuál figura tiene marcado el largo con una línea roja?

a)



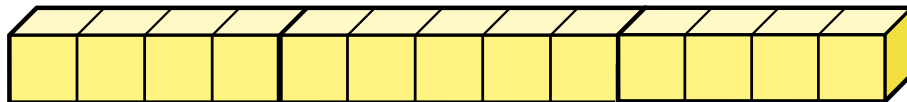

b)



c)



3. ¿Cuántos cubitos mide el largo el rectángulo?

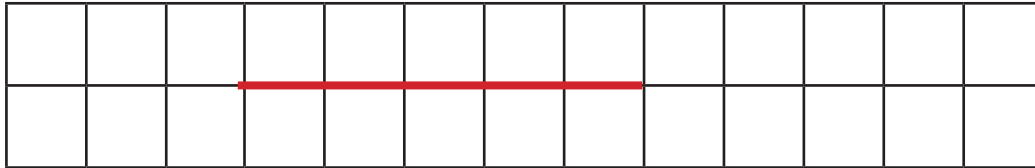


a) 3

b) 4

c) 5

4. ¿Cuántos cuadrados mide la siguiente línea recta?



- a) 4
- b) 5
- c) 6