


DÍA 48: MIDIENDO USANDO CUADRADOS.

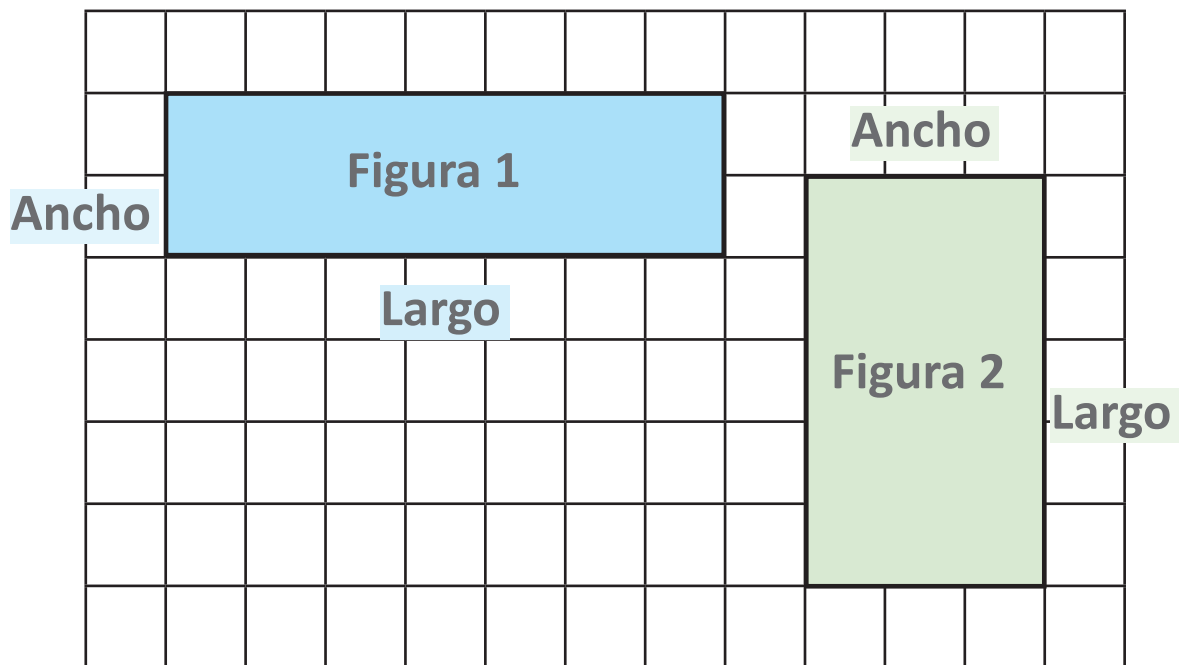
Observa

Observa los siguientes lápices.



El largo del lápiz verde mide 6 cuadrados.
El largo del lápiz rojo mide 7 cuadrados.

Observa las siguientes figuras.



Las medidas de la figura 1 son:

- 7 cuadrados de largo.
- 2 cuadrados de ancho.

Las medidas de la figura 2 son:

- 5 cuadrados de largo.
- 3 cuadrados de ancho.

2. Completa.

Usando los cuadrados de una hoja de cuaderno mide objetos que tengas en tu casa.

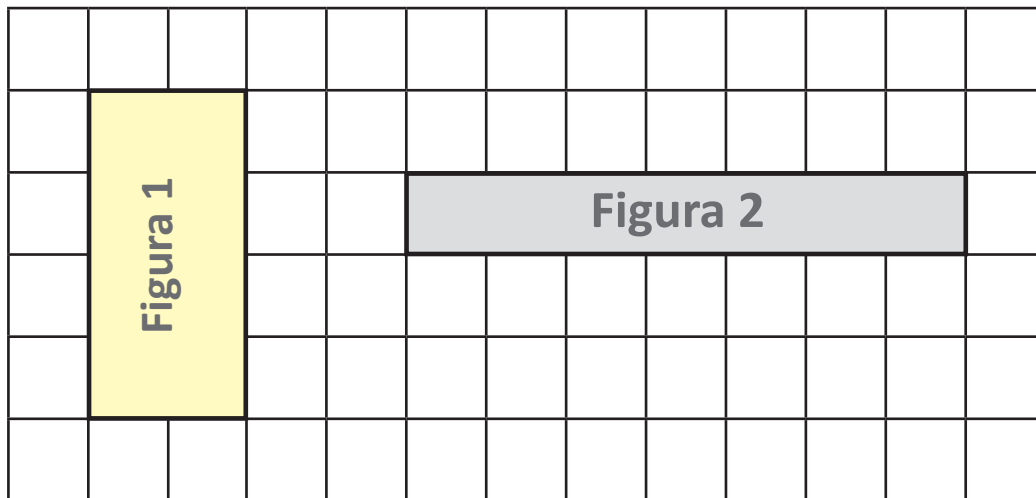
Ejemplo:

El largo del lápiz mide 24 cuadrados.

- a) El largo del _____ mide _____ cuadrados.
- b) El largo del _____ mide _____ cuadrados.
- c) El largo del _____ mide _____ cuadrados.
- d) El largo del _____ mide _____ cuadrados.
- e) El largo del _____ mide _____ cuadrados.

Marca la alternativa correcta.

Según la siguiente imagen, responde la pregunta 2 y 3.



2. ¿Cuántos cuadrados mide el ancho de la figura 1?

- a) 1
- b) 2
- c) 3

3. ¿Cuántos cuadrados mide el largo de la figura 2?

- a) 1
- b) 4
- c) 7