


Actividades

1


Calcula mentalmente y completa:

$7 - 2 =$	$8 - 5 =$	$9 - 6 =$
$547 - 2 =$	$618 - 5 =$	$829 - 6 =$

2

	Valentina lleva en su monedero \$879 para comprar un lápiz que cuesta \$745. 	¿Cuánto dinero le quedará después de comprar el lápiz?
A Valentina le quedarán \$		


3

En una campaña ecológica de la escuela se juntaron 546 kilos entre papel blanco y cartón. El cartón pesó 135 kilos.		¿Cuál es el peso del papel blanco?
El papel blanco pesa kg.		

4

En la casa de Nicolás se consumieron 567 kilowatts de electricidad durante los meses de agosto y septiembre.

En la cuenta de septiembre aparece un gasto de 213 kilowatts.



¿Cuánto gastaron de electricidad en el mes de agosto?

En el mes de agosto gastaron kW.

5

Tiare tiene un rollo de 256 cm de cinta.



Ella corta un trozo de 132 cm para atar un paquete de regalo.



¿Cuánta cinta le queda?

Le quedan cm de cinta.

6

Purranque está a 958 kilómetros de Santiago. Un furgón que viene desde Santiago, ¿cuántos kilómetros ha recorrido cuando llega al letrero?



Ha recorrido km.

7

Calcula y completa:

$$343 - 121 =$$

$$476 - 304 =$$

$$587 - 451 =$$

$$879 - 560 =$$