

## Actividades


1

Calcula mentalmente y completa:


$9 - 4 =$	$8 - 6 =$	$7 - 5 =$	$8 - 3 =$
$90 - 40 =$	$80 - 60 =$	$70 - 50 =$	$80 - 30 =$

2

Tenía \$258 en mi monedero.



Perdí \$5.




¿Cuánto dinero tiene ahora Andrea?


Andrea tiene ahora \$ .....

3

Tenía ahorrado \$875.



Compré frutillas por \$50.



¿Cuánto dinero tiene ahora Pablo?


Pablo tiene ahora \$ .....

4

Calcula y completa:

$647 - 6 =$	$761 - 20 =$	$583 - 40 =$
-------------	--------------	--------------

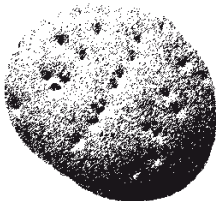
5

	<p>La abuelita de Diego tenía \$965. Ella le regaló \$45 a Diego.</p>	<p>¿Cuánto dinero le quedó a la abuelita de Diego?</p>
<p>A la abuelita le quedaron \$ .....</p>		

6

<p>Temuco está, aproximadamente, a 676 kilómetros de Santiago. Un bus que salió de Santiago con destino Temuco, lleva recorridos 54 kilómetros.</p>	 <p>¿Cuántos kilómetros le quedan por recorrer?</p>
<p>Le quedan ..... km por recorrer.</p>	

7

	<p>En la panadería "Pan Pan" hicieron 298 kilogramos de hallullas y vendieron 87 kilogramos en la mañana.</p>	<p>¿Cuántos kilos de hallullas quedan para vender en la tarde?</p>
<p>Quedan ..... kg.</p>		

8

Calcula y completa:

465 - 5 =	627 - 4 =	849 - 8 =
547 - 35 =	768 - 43 =	973 - 61 =