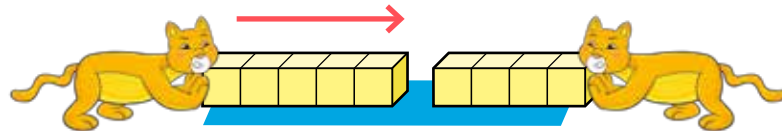




DÍA 4: SUMAR HASTA 10.

1. Escoge la imagen correcta.

Hay 5 flores rojas y 4 flores blancas.



2. Escribe la frase numérica y respuesta.

Frase numérica: + = .

Respuesta: flores.

3. Resuelve y completa.

Hay  y .
¿Cuántos conejos hay en total?

Frase numérica: + = .

Respuesta: conejos.

4. Sumemos.

a) $5 + 1 =$

b) $5 + 2 =$

c) $3 + 5 =$

d) $4 + 5 =$

5. Observa las imágenes y completa los recuadros.



Hay monos.



Llegan monos.



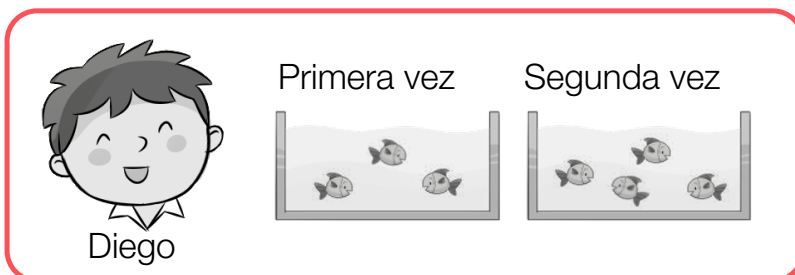
¿Cuántos monos hay en total?

Hay monos.

Marca la alternativa correcta.

6. Diego fue a pescar.

¿Cuál frase numérica representa la suma de los peces?



- a) $3 + 4$
- b) $4 - 3$
- c) $4 + 4$

7. ¿Cuántos peces pescó Diego?

- a) 5
- b) 6
- c) 7