


## DÍA 1 : SUMAR HASTA 5.

1. ¿Los niños están juntando o separando los remolinos?



2. ¿Cuántas pelotas juntaron José y Paula?

Cuenta y completa los recuadros.



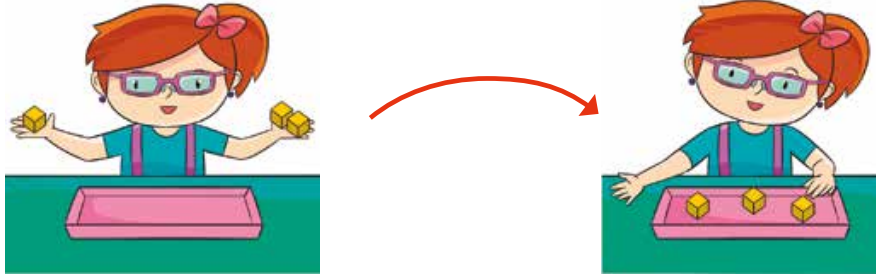
balones.

balones.

En total hay  balones.

### 3. ¿Cuántos cubos juntó Laura?

Cuenta y completa los recuadros.




cubos.

cubos.

cubos en total.

Marca la alternativa correcta.

Observa la siguiente imagen.



### 4. ¿Cuántas flores tiene la niña? Cuenta.

- a) 3
- b) 4
- c) 5

### 5. ¿Cuántas flores juntarán en total? Cuenta.

- a) 4
- b) 5
- c) 6