



# Evaluación del Período 2

## Matemática

### PRIMER AÑO BÁSICO

#### 2013

Mi nombre

.....

Mi curso

.....

Nombre de mi escuela

.....


Fecha

.....



1

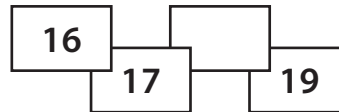
¿Cuántas manzanas hay?



- A. 6 manzanas.
- B. 10 manzanas.
- C. 16 manzanas.

2

¿Qué número falta en esta secuencia numérica?



- A. 18
- B. 20
- C. 21

3

¿Qué figura sigue en la secuencia?




- A.
- B.
- C.

4

En un atado hay 10 espárragos.  
La señora Isabel compró estos atados de espárragos.


¿Cuántos espárragos compró la señora Isabel?



- A. 4 espárragos.
- B. 10 espárragos.
- C. 40 espárragos.

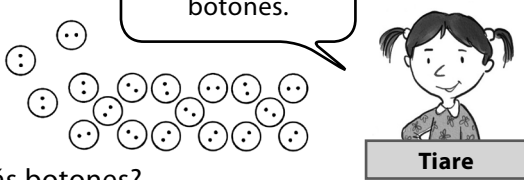
5

En esta caja tengo 15 botones.



Pepe

Y yo tengo estos botones.




Tiare

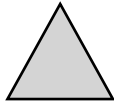
¿Quién tiene más botones?


A. Tiare tiene **más** botones que Pepe.  
B. Pedro tiene **más** botones que Pepe.  
C. Tiare tiene **igual cantidad** de botones que Pepe.

6

Las caras de un cubo tienen forma de:

A. 

B. 

C. 

7

¿Qué número sigue en esta secuencia numérica?

5	10	15	20	25	30	35	40	
---	----	----	----	----	----	----	----	--

A. 35  
B. 45  
C. 50

8


¿Qué número sigue en esta secuencia numérica?

37 38 39


A. 40  
B. 50  
C. 60

9

En este frasco caben 15 caramelos.






Aproximadamente, ¿cuántos de los mismos caramelos caben en este frasco?



A. 15 caramelos.  
B. 18 caramelos.  
C. 30 caramelos.

10

¿En qué caja hay menos bombones?

Caja 1	Caja 2	Caja 3
		

A. Caja 1.  
B. Caja 2.  
C. Caja 3.

11

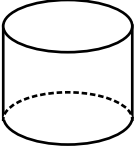

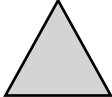

¿Qué número falta en esta secuencia?

85	80		70	65
----	----	--	----	----

A. 90  
B. 75  
C. 60

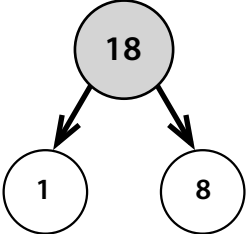
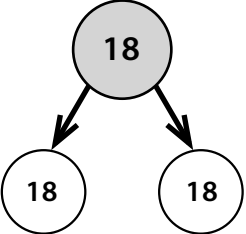
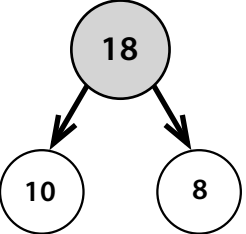
12

¿Qué forma tienen las caras planas del cilindro?

	A. 	B. 	C. 
---	--	--	--

13

¿Quién realiza la descomposición correcta del 18?

Horacio la realiza así:	Alejandra la realiza así:	Rosita la realiza así:
		

A. Horacio.  
B. Alejandra.  
C. Rosita.

14

¿Quién tiene más lápices en su estuche?

Yo tengo 14  
lápices.



Trinidad

Yo tengo 17  
lápices.



Jacinta

Yo tengo 16  
lápices.



Patricia

- A. Trinidad.
- B. Jacinta.
- C. Patricia.


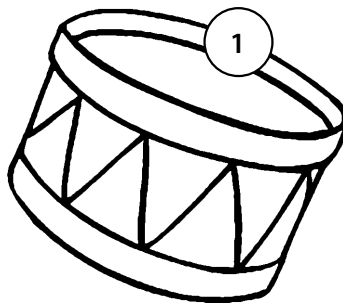
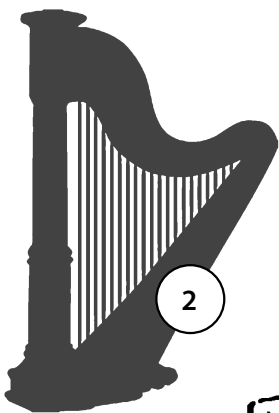
15

Había un grupo de 10 niños y niñas jugando en el patio.  
Llegaron a jugar con ellos 6 niñas más.  
¿Cuántos niños y niñas hay ahora jugando en el patio?

- A. Ahora hay 6 niños y niñas en el patio.
- B. Ahora hay 10 niños y niñas en el patio.
- C. Ahora hay 16 niños y niñas en el patio.

16

¿Qué instrumento musical se parece a un cilindro?



- A. Instrumento 1.
- B. Instrumento 2.
- C. Instrumento 3.


17

Los espárragos se venden en atados y sueltos.

Un atado tiene 10 espárragos.

Juana compró estos espárragos.

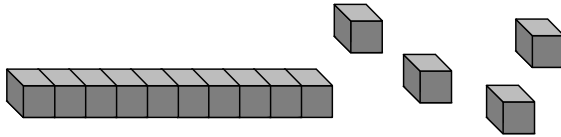
¿Cuántos espárragos compró Juana?



- A. 10 espárragos.
- B. 12 espárragos.
- C. 20 espárragos.

18

Margarita está jugando con estos cubitos.

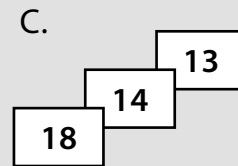
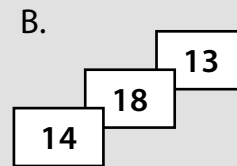
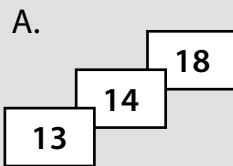


Se puede decir que Margarita juega con:

- A. 4 decenas y 1 unidad de cubitos.
- B. 1 unidad y 4 decenas de cubitos.
- C. 1 decena y 4 unidades de cubitos.

19

¿En cuál alternativa se muestran los números de las tarjetas ordenados de mayor a menor?




20

¿Qué número sigue?

3	5	7	3	5	7	3	
---	---	---	---	---	---	---	--

- A. 5
- B. 3
- C. 7



Ministerio de  
Educación

Gobierno de Chile