






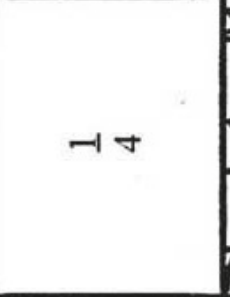
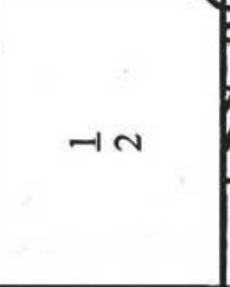








Busca la fracción que corresponde a cada un de los nombres que aparecen en la cuadrícula vacía. Recorta y pega cada una en su sitio y obtendrás un dibujo.

UN MEDIO	UN TERCIO	UN CUARTO
UN QUINTO	UN SEXTO	UN SÉPTIMO
UN OCTAVO	UN DÉCIMO	DOS TERCIOS
DOS CUARTOS	DOS QUINTOS	DOS DÉCIMOS
TRES CUARTOS	TRES QUINTOS	TRES DÉCIMOS

 $\frac{3}{5}$	 $\frac{3}{10}$	 $\frac{3}{4}$
 $\frac{1}{6}$	 $\frac{1}{7}$	 $\frac{1}{5}$
 $\frac{1}{3}$	 $\frac{1}{4}$	 $\frac{1}{2}$
 $\frac{2}{5}$	 $\frac{2}{10}$	 $\frac{2}{4}$
 $\frac{1}{10}$	 $\frac{2}{3}$	 $\frac{1}{8}$