

nombre \_\_\_\_\_




curso \_\_\_\_\_






fecha \_\_\_\_\_


























**JUEGO: SIMBOLOGÍA DINOSAURIOS 1**

En la siguiente figura las cifras han sido reemplazadas por símbolos. Cada símbolo representa siempre la misma cifra.

Los números que aparecen al costado de cada línea horizontal y debajo de cada línea vertical, han sido obtenidos por las ADICIONES (sumas) sucesivas de las cifras que componen cada línea.

Los símbolos que aparecen representan cifras del 1 al 6. Si  = 2,  = 4 y  = 6, ¿puedes descubrir las cifras que esconden los demás símbolos?

 =   
  =   
  =   
  =   
  =

					→ <input type="text" value="15"/>
					→ <input type="text" value="18"/>
					→ <input type="text" value="23"/>
					→ <input type="text" value="10"/>
					→ <input type="text" value="20"/>
↓ <input type="text" value="11"/>	↓ <input type="text" value="23"/>	↓ <input type="text" value="18"/>	↓ <input type="text" value="17"/>	↓ <input type="text" value="17"/>	