

nombre



curso

fecha























JUEGO: NÚMEROS ESCONDIDOS BALONES 1

En la siguiente figura las cifras han sido reemplazadas por símbolos. Cada símbolo representa siempre la misma cifra.

Debajo de cada línea vertical y al costado de cada línea horizontal aparece el total obtenido por las SUMAS (adiciones) sucesivas de las cifras de cada línea.

Los símbolos que aparecen representan las cifras del 1 al 5. Si  = 1 y  = 2, ¿puedes descubrir las cifras que esconden los demás símbolos?

 =	<input type="text" value="1"/>	 =	<input type="text" value="2"/>	 =	<input type="text"/>	 =	<input type="text"/>
---	--------------------------------	---	--------------------------------	---	----------------------	---	----------------------

					=	12
					=	18
					=	14
					=	16
					=	12
9	20	17	17	9		

Elaborado por: Ministerio de Educación, Chile