



nombre _____
curso _____ fecha _____

ACTIVIDADES: PATRONES Y SECUENCIAS 2



1. Encierre en un círculo la o las imágenes que se repiten y que forman un patrón de repetición:

a)	
b)	
c)	

2. Dibuje las imágenes que podrían estar a continuación:

a)	
b)	
c)	



d)	
e)	
f)	
g)	

3. Continúe la secuencia numérica sabiendo que cada término se forma sumando los dos números anteriores:

1	2	3
----------	----------	----------	-------	-------	-------

4. Continúe la secuencia sabiendo que cada término se forma sumando los dos números anteriores:

1	3	4
----------	----------	----------	-------	-------	-------

5. Continúe la secuencia numérica sabiendo que cada término se forma restando cuatro unidades al número anterior.

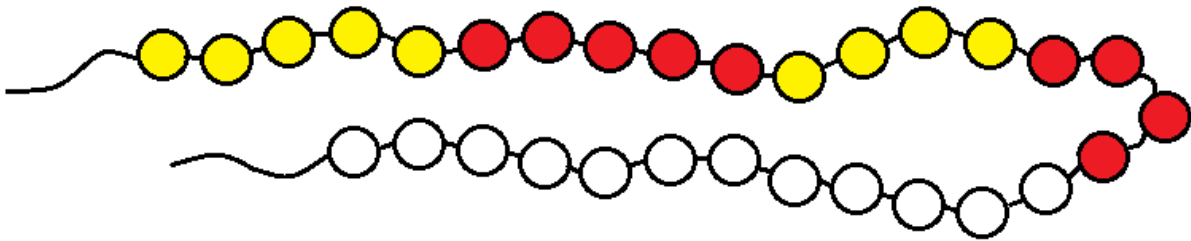
20	16
----	----	-------	-------	-------	-------

6. Continúe la secuencia numérica sabiendo que cada término se forma restando tres unidades al número anterior.


20	17
----	----	-------	-------	-------	-------

7. Observe el siguiente dibujo de un collar. Está compuesto por bolitas amarillas y rojas.


- a) Encuentre un patrón y pinte el resto del collar siguiendo el patrón que encontró.



- b) Pinte la bolita del mismo color que estará pintada la siguiente bolita de acuerdo a su patrón.



- c) Pinte la bolita del mismo color que estará pintada la última bolita de acuerdo a su patrón.



8. Dibuje 1 collar e indique el patrón utilizado.



Patrón:

.....

.....

.....