

Sumo Primero 2°

Guía Didáctica Docente

básico



Edición especial para el Ministerio de Educación. Prohibida su comercialización.

Tomo

1

Sumo Primero

2°

básico

Guía Didáctica del Docente

Tomo 1

En esta Guía Didáctica del Docente, encontrarán orientaciones de uso para los recursos de Sumo Primero. Los planes de clases detallan la implementación articulada del Texto del Estudiante con los demás recursos: Cuaderno de Actividades, ¿Qué aprendí? (tickets de salida), Evaluaciones y Material recortable.



Aprende junto a los amigos



Ana



Diego



Laura



José



Paula

Autor

Ministerio de Educación de Chile
Unidad de Currículum y Evaluación
Programa de Textos Escolares

Guía Didáctica del Docente Tomo 1

ISBN 978-956-292-937-0

Cuarta Edición

diciembre 2022

Sumo Primero

Recursos 2° básico

Los textos escolares que distribuye el Mineduc tienen como objetivo **asegurar la mejora continua de la calidad y promover una cultura sustentable**.

Para ello, los recursos se diferenciarán en **Reutilizables**, en los cuales los estudiantes no escriben, dibujan, rayan ni recortan y así se pueden utilizar durante varios años y en **No Reutilizables**, que se usan para escribir, dibujar, colorear y recortar, los cuales se entregan cada año.

Esto tiene dos fundamentos:

EDUCACIÓN

Promover una cultura de **cuidado y valoración** de los textos y recursos, generando **conciencia** en la necesidad de mantenerlos en buen estado para reutilizarlos.


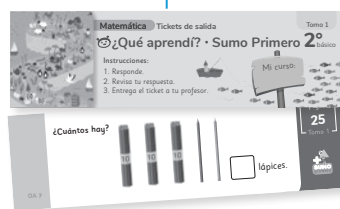
SUSTENTABILIDAD

Se imprimen miles de textos escolares anualmente, por lo que Mineduc impulsa y fomenta la cultura de **reutilización para cuidar el medioambiente**.

Los recursos que incorpora **Sumo Primero** para 2° básico son:

Para el estudiante


- 2 tomos del Texto del Estudiante (TE): **No Reutilizables**
- 2 tomos del Cuaderno de Actividades (CA): **No Reutilizables**
- 2 tomos de Talonarios ¿Qué aprendí? (ticket de salida): **Soporte digital**
- Set de tarjetones material Didáctico: **Reutilizables | Soporte digital**




Para el docente

Estos recursos **son responsabilidad del docente**. Se deben **cuidar y guardar** a final de año para que sirvan a los estudiantes de las próximas generaciones, ya que **no se entregarán anualmente**.

- 2 tomos Guía didáctica Docente (GDD): **Soporte digital**
- Set de tarjetones como material didáctico: **Reutilizables | Soporte digital**



Los recursos tendrán las siguientes indicaciones de cuidado:



Índice

2° básico Primer semestre



Fundamento didáctico	6
¿Cómo usar el texto escolar?	8
Objetivos de Aprendizaje	10
Planificación anual	11
Planificación semestral	12
Planificación detallada unidad 1 y 2	13
Planes de clases	15
Cuaderno de Actividades y sus respuestas	125
Anexos	155
Anexo 1: Colorear	157
Anexo 2: Banco de preguntas y sus respuestas	161
Anexo 3: ¿Qué aprendí? tickets de salida	167
Anexo 4: Material didáctico recortable	189

Fundamento didáctico

Educar para un mundo cambiante (Perkins, 2015) aborda la pregunta qué y cuántos contenidos esenciales deben aprender los jóvenes para poder desenvolverse en su vida futura. Nadie puede predecir cómo será nuestro mundo en el futuro y qué problemas tendrá que resolver la humanidad el día de mañana. Por el momento, se sostiene que, para poder hacer frente a los retos del futuro, una de las habilidades clave que se debe fortalecer en la formación en la escuela es la creatividad.

Por esa razón, el currículum de las Bases Curriculares (2012) establece que los alumnos de la educación básica desarrollen conocimientos fundamentales en conjunto con actitudes y habilidades que se ajustan a las habilidades del siglo 21, como la creatividad, la innovación, el pensamiento crítico, resolver problemas, la comunicación, la colaboración, el razonamiento y el pensamiento lógico.

Para poder ser creativos y a la vez profundizar en otras habilidades matemáticas de forma segura, se requiere primero pasar por procesos de repetición e imitación, trabajar con los algoritmos y memorizar las tablas de multiplicación. El desarrollo del pensamiento matemático y de competencias como la exploración, el descubrimiento y la justificación de relaciones, propiedades y procesos matemáticos, deben jugar un rol principal dentro del aprender matemática. La resolución de problemas, señalada por Isoda (2015) como la práctica ideal para impulsar el desarrollo del pensamiento matemático¹, debe ser el propósito principal de la educación matemática. Este principio coincide plenamente con las Bases Curriculares 2012, que establecen la resolución de problemas como foco de la enseñanza de la matemática al afirmar: “Contextualizar el aprendizaje mediante problemas reales y relacionar la matemática con situaciones concretas, facilita un aprendizaje significativo de contenidos matemáticos fundamentales”². Visto el proceso de aprendizaje desde esta perspectiva, la sala de clases requiere de un cambio metodológico que favorece el aprender haciendo, que cambia la instrucción por la construcción, que permite explorar, experimentar y manipular material didáctico para descubrir conceptos, anticipar o comprobar resultados.

Es deseable u factible confrontar a los alumnos con un problema en un proceso de aprendizaje independiente, como indican los ejemplos del texto. La tarea del docente en este proceso es hacer preguntas y proponer o cambiar representaciones concretas o pictóricas para fundamentar la solución inicial dada por los alumnos. Aplicar este principio didáctico es creer en los estudiantes y sus capacidades intelectuales y, a la vez, reforzar el aprendizaje por comprensión.

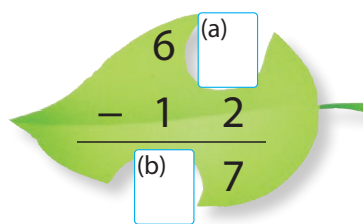
El siguiente problema planteado a un 2° básico puede aclarar el proceso, en el cual el docente desafía a sus alumnos con una pregunta en la fase inicial de la clase.

¹ Isoda, M. & Katagiri, S., (2012). *Mathematical thinking*. World Scientific Publishing

² Ministerio de Educación. Bases Curriculares 2012.

¿Qué números faltan?

En grupos pequeños, los estudiantes buscan durante un tiempo acotado una solución, la representan utilizando números o esquemas y la exponen frente al curso. Tienen a su disposición el material didáctico habitual. Guiados por el docente, comparan y discuten las propuestas de solución. El docente formula preguntas adicionales, también podrá agregar una explicación, un esquema o una representación (concreta o pictórica y/o simbólica) y guía este proceso de aprendizaje. Los estudiantes formulan con sus palabras una regla o un nuevo concepto basado en la experiencia. Finalmente se compara el resultado presentado por los niños con el texto y se ejercita el nuevo conocimiento.



A green leaf-shaped graphic containing a subtraction problem. The numbers are arranged as follows:

$$\begin{array}{r} 6 \quad (a) \\ - 1 \quad 2 \\ \hline (b) \quad 7 \end{array}$$

Este aprendizaje inductivo, constructivista y centrado en el alumno fortalece el pensamiento matemático, enseña a pensar, resolver un problema y, además, aumenta la autoestima y la motivación por aprender.

¿Cómo usar el texto escolar?

1 Estructura del Texto

Este texto está alineado al currículum nacional y está dirigido a la formación matemática inicial de los estudiantes. El aprendizaje de conceptos y procedimientos fundamentales se introduce con acciones y situaciones universales cotidianas y conocidas por la mayoría de los alumnos.

Está organizado en capítulos y algunos incluyen subtemas.

El texto tiene como propósitos:

1. Promover el desarrollo de habilidades superiores.
2. Desarrollar el pensamiento matemático.
3. Promover la comprensión de conocimientos de conceptos fundamentales de los ejes Números y operaciones, Patrones y álgebra, Geometría, Medición y Datos y probabilidades.

2 ¿Cómo usar el Texto del Estudiante?

Al inicio de cada lección, el texto propone ideas para comenzar una clase, ya sea con una pregunta o con imágenes que invitan a ser reproducidas en clases. Estas situaciones y desafíos permitirán a los estudiantes elaborar estrategias y proponer soluciones que compartirán con toda la clase. Las soluciones propuestas generan un debate acerca de las estrategias utilizadas y la forma de justificar. Finalmente, se recurre al texto para comparar, verificar y sistematizar las ideas propuestas por los niños con las propuestas por el texto.



Se estructura de la siguiente manera:

- Situación o problema desafiante.
- Trabajo en grupo: búsqueda de la solución.
- Presentación de las respuestas, pregunta orientadora: ¿Cómo se llegó a las soluciones?
- Comparación con lo que propone el texto, debate y verificación con el objetivo de sistematizar.
- Uso del texto para realizar actividades de ejercitación, proceso para afianzar lo generado en el debate.

El texto dispone de las siguientes secciones para ayudar al docente en la gestión del proceso enseñanza–aprendizaje:

¿Alguna vez lo has visto?



Sección que incluye contextos matemáticos basados en experiencias cercanas a los estudiantes.

Ejercicios



En este capítulo, se presentan ejercicios para afianzar el dominio de los temas estudiados.

Problemas 1



Al finalizar un capítulo, se presentan problemas que permiten poner en juego los conocimientos y habilidades estudiados.

Página
4

Números hasta 100

Texto del
Estudiante
Pág. 7
Pág. 8

10
minutos

Cuaderno de Actividades: indica que los estudiantes deben trabajar de forma autónoma.

Repaso



Actividades que permiten repasar y evaluar el dominio de conceptos y procedimientos aprendidos.

Practica

Aventura Matemática

Problemas no rutinarios contextualizados que permiten aplicar distintos conocimientos aprendidos.

Invitamos a todos los docentes del segundo ciclo de la enseñanza básica a usar este texto para que sus alumnos conozcan la realidad por medio de la matemática, la usen para resolver problemas y también encantarlos con la asignatura.

Objetivos de Aprendizaje Matemática 2° básico

Los estudiantes serán capaces de:

NÚMEROS Y OPERACIONES

1. Contar números del 0 al 1 000 de 2 en 2, de 5 en 5, de 10 en 10 y de 100 en 100, hacia adelante y hacia atrás, empezando por cualquier número menor que 1 000.
2. Leer números del 0 al 100 y representarlos en forma concreta, pictórica y simbólica.
3. Comparar y ordenar números del 0 al 100 de menor a mayor y viceversa, usando material concreto y monedas nacionales de manera manual y/o por medio de software educativo.
4. Estimar cantidades hasta 100 en situaciones concretas, usando un referente.
5. Componer y descomponer números del 0 a 100 de manera aditiva, en forma concreta, pictórica y simbólica.
6. Describir y aplicar estrategias de cálculo mental para adiciones y sustracciones hasta 20:
 - completar 10
 - usar dobles y mitades
 - “uno más uno menos”
 - “dos más dos menos”
 - usar la reversibilidad de las operaciones
7. Identificar las unidades y decenas en números del 0 al 100, representando las cantidades de acuerdo a su valor posicional, con material concreto, pictórico y simbólico.
8. Demostrar y explicar de manera concreta, pictórica y simbólica el efecto de sumar y restar 0 a un número.
9. Demostrar que comprenden la adición y la sustracción en el ámbito del 0 al 100:
 - usando un lenguaje cotidiano y matemático para describir acciones desde su propia experiencia
 - resolviendo problemas con una variedad de representaciones concretas y pictóricas, de manera manual y/o usando software educativo
 - registrando el proceso en forma simbólica
 - aplicando los resultados de las adiciones y sustracciones de los números del 0 a 20 sin realizar cálculos
 - aplicando el algoritmo de la adición y sustracción sin considerar reserva
 - creando problemas matemáticos en contextos familiares y resolviéndolos
10. Demostrar que comprenden la relación entre la adición y la sustracción al usar la “familia de operaciones” en cálculos aritméticos y la resolución de problemas.
11. Demostrar que comprenden la multiplicación:
 - usando representaciones concretas y pictóricas
 - expresando una multiplicación como una adición de sumandos iguales

- usando la distributividad como estrategia para construir las tablas del 2, del 5 y del 10
- resolviendo problemas que involucren las tablas del 2, del 5 y del 10

PATRONES Y ÁLGEBRA

12. Crear, representar y continuar una variedad de patrones numéricos y completar los elementos faltantes, de manera manual y/o usando software educativo.
13. Demostrar, explicar y registrar la igualdad y la desigualdad en forma concreta y pictórica del 0 al 20, usando el símbolo igual ($=$) y los símbolos no igual ($>$, $<$).

GEOMETRÍA

14. Representar y describir la posición de objetos y personas en relación a sí mismos y a otros objetos y personas, incluyendo derecha e izquierda y usando material concreto y dibujos.
15. Describir, comparar y construir figuras 2D (triángulos, cuadrados, rectángulos y círculos) con material concreto.
16. Describir, comparar y construir figuras 3D (cubos, paralelepípedos, esferas y conos) con diversos materiales.

MEDICIÓN

17. Identificar días, semanas, meses y fechas en el calendario.
18. Leer horas y medias horas en relojes digitales, en el contexto de la resolución de problemas.
19. Determinar la longitud de objetos, usando unidades de medidas no estandarizadas y unidades estandarizadas (cm y m), en el contexto de la resolución de problemas.

DATOS Y PROBABILIDADES

20. Recolectar y registrar datos para responder preguntas estadísticas sobre juegos con monedas y dados, usando bloques y tablas de conteo y pictogramas.
21. Registrar en tablas y gráficos de barra simple, resultados de juegos aleatorios con dados y monedas.
22. Construir, leer e interpretar pictogramas con escala y gráficos de barra simple.

Planificación anual

Primer semestre			
Unidad	Eje	Capítulo	Tiempo estimado (horas pedagógicas)
1	Números y operaciones	Números hasta 100	22
	Números y operaciones	Pensando cómo calcular	11
	Medición	La hora y el tiempo	11
	Números y operaciones	La suma vertical	15
2	Números y operaciones	La resta en forma vertical	11
	Medición	Longitud	12
	Datos y probabilidades	Tablas y gráficos	9
	Números y operaciones	Suma y resta	14
	Números y operaciones, Geometría y Medición	Aventura Matemática	6

Segundo semestre			
Unidad	Eje	Tema	Tiempo estimado (horas pedagógicas)
3	Números y operaciones, Patrones y álgebra	Contar hasta 1 000	11
	Números y operaciones	Sumas y restas hasta 20	8
	Números y operaciones	Multiplicar (1)	12
	Números y operaciones, Patrones y álgebra	Tablas de multiplicar	11
4	Geometría	Figuras 2D	15
	Geometría	Figuras 3D	9
	Geometría y Medición	Espacio y tiempo	4
	Datos y probabilidades	Tablas y pictogramas	4
	Números y operaciones	Resumen	2
	Números y operaciones, Patrones y álgebra, Geometría	Aventura Matemática	6

Planificación semestral

Primer Semestre					
Unidad	Eje	Objetivos de Aprendizaje (OA)	Capítulo	Tiempo estimado (min)	
				TE	CA
1	Números y operaciones	1, 3, 4, 6 y 8	Números hasta 100	1025	100
	Números y operaciones	9	Pensando cómo calcular	285	75
	Medición	18	La hora y el tiempo	465	30
	Números y operaciones	8 y 9	La suma vertical	700	155
2	Números y operaciones	8, 9 y 10	La resta en forma vertical	380	70
	Medición	19	Longitud	630	45
	Datos y probabilidades	20, 21 y 22	Tablas y gráficos	225	45
	Números y operaciones	9 y 10	Suma y resta	555	45
	Números y operaciones, Geometría y Medición	9, 14, 18 y 19	Aventura Matemática	315	-

Planificación detallada Unidad 1

Unidad	Capítulo	Nombre del Capítulo	Eje	Página del Texto del Estudiante	Temas	Tiempo (min)	Objetivos de Aprendizaje (OA)	Habilidades				Actitudes	Página del Cuaderno de Actividades
								Representar	Argumentar y comunicar	Modelar	Resolver problemas		
1	1	Números hasta 100	Números y operaciones	5 - 27	Introducción	45	1	•				E	
					Contar	45	1, 3, 4, 6 y 8	•					
					Sistema decimal	225	1, 3, 4, 6 y 8	•					4 y 5
					Conteo hasta 100	180	1, 3, 4, 6 y 8	•	•	•			6 y 7
					Menor – mayor – igual	45	1, 3, 4, 6 y 8	•					8
					Sumar	180	1, 3, 4, 6 y 8	•	•				9
					Restar	90	1, 3, 4, 6 y 8	•	•				10
					Sumar y restar	45			•		•		11
					Números en nuestro entorno	90	1, 3, 4, 6 y 8		•				
					Ejercicios	90	1, 3, 4, 6 y 8		•				
				Problemas	90	1, 3, 4, 6 y 8	•	•					
	2	Pensando cómo calcular	Números y operaciones	28 - 35	Calcular	360	9	•	•			A	13 - 17
3	3	La hora y el tiempo	Medición	36 - 44	Leer la hora	90	18	•			•	E	
					Horas del día	180	18	•			•		18
					Ejercicios	45	18	•			•		
					Problemas	180	18				•		19
4	4	La suma vertical	Números y operaciones	45 - 60	Introducción	15	8 y 9		•		•	D	
					Sumar números de dos dígitos	435	8 y 9		•		•		20 - 24
					Más sumas	90	8 y 9		•		•		25 y 26
					Reglas de la suma	180	8 y 9		•		•		27
					Ejercicios	45	8 y 9		•		•		
					Actividades y problemas 1	45	8 y 9		•		•		
					Actividades y problemas 2	45	8 y 9		•		•		28 y 29
Juego 1 Juego 2 Juego 3					Ejercicios para tabla de 100								45
					Sumas y restas hasta 100								46
					Dominó. Restas hasta 100								55

Planificación detallada Unidad 2

Unidad	Capítulo	Nombre del Capítulo	Eje	Página del Texto del Estudiante	Temas	Tiempo (min)	Objetivos de Aprendizaje (OA)	Habilidades				Actitudes	Página del Cuaderno de Actividades	
								Representar	Argumentar y comunicar	Modelar	Resolver problemas			
2	5	La resta en forma vertical	Números y operaciones	61 - 70	La resta de números de dos dígitos	90	9		•		•	E		
					Ejercicios	90	9		•		•		30 y 31	
					La relación entre la suma y la resta	135	9				•		32	
					Ejercicios	45	9		•					
					Problemas 1	45	9		•		•		33	
					Problemas 2	45	9			•			34	
	6	Longitud	Medición	71 - 85	Medir con medidas arbitrarias	90	19		•		•	B		
					Comparar medidas	45	19	•					35	
					Representar longitudes	135	19		•				36	
					Metros	90	19		•				37	
					Encontremos longitudes (Calcular)	135	19				•		38	
					Problemas 1	45	19		•		•			
					Problemas 2	45	19		•		•			
					Repaso	90	19		•		•			
	7	Tablas y gráficos	Datos y probabilidades	86 - 90	Encuesta	45	20, 21 y 22		•	•		A		
					Tabla de conteo	45	20, 21 y 22		•	•				
					Gráfico de barras	45	20, 21 y 22		•	•			39	
					Problemas 1	45	20, 21 y 22	•	•	•				
					Problemas 2	90	20, 21 y 22	•	•		•		40 y 41	
	8	Suma y resta	Números y operaciones	91 - 102	Introducción	15	9 y 10		•			B		
					Resolución de problemas y diagramas	225	9 y 10	•	•	•	•			
					Problemas no rutinarios	360	9 y 10	•	•	•	•		42 - 44	
			Aventura Matemática	Números y operaciones, Geometría y Medición	103 - 111	Compras, Decir la hora, Medir en centímetros	315	9, 14, 18 y 19		•		•	C	-

Planes de clases

Simbología



Material didáctico




¿Qué aprendí? ticket de salida



Cuaderno de actividades

Contando hasta 100

¿Cuántos puntos alcanzas a pintar?



Tu profesor controla el tiempo.



¿Qué aprendí? • Ticket de salida página 5 • Tomo 1

5

P.5 | TE | Números hasta 100

1

Planificación ⌚ 45 minutos

Recursos

Cronómetro

Propósito

Que los estudiantes cuantifiquen, utilizando distintas estrategias.

Habilidad

Representar.

Gestión

Explique a los estudiantes que deberán colorear las manzanas del árbol y que, para ello, todos comenzarán al mismo tiempo y dejarán de pintar cuando les indique. Tendrán 2 minutos para esto.

Capítulo 1. Números hasta 100

⌚ 22 horas pedagógicas

Visión general

En este capítulo se promueve que, a partir del conteo, amplíen el conocimiento que tienen de los números y del sistema de numeración decimal.

Objetivos del capítulo

OA1: Contar números del 0 al 1 000 de 2 en 2, de 5 en 5, de 10 en 10 y de 100 en 100, hacia adelante y hacia atrás, empezando por cualquier número menor que 1 000.

OA2: Leer números del 0 al 100 y representarlos en forma concreta, pictórica y simbólica.

OA3: Comparar y ordenar números del 0 al 100 de menor a mayor y viceversa, usando material concreto y monedas nacionales de manera manual y/o por medio de software educativo.

OA5: Componer y descomponer números del 0 a 100 de manera aditiva, en forma concreta, pictórica y simbólica.

OA7: Identificar las unidades y decenas en números del 0 al 100, representando las cantidades de acuerdo a su valor posicional, con material concreto, pictórico y simbólico.

Aprendizajes previos

- Cuantificar y producir colecciones agrupadas de 10 hasta 60.

Actitud

Demostrar una actitud de esfuerzo y perseverancia.

Una vez terminado el tiempo, cada niño indica cuántas manzanas alcanzó a pintar. Dé un tiempo para que cuantifiquen sus manzanas y anoten la cantidad de manera autónoma. Permita que cada uno elija una estrategia para contar, no las apruebe ni las desapruebe, ya que después de la sistematización que se presenta en las siguientes páginas, volverán a esta página a verificar su respuesta.

Cuando hayan terminado de contar las manzanas pintadas, comparten sus respuestas y estrategias de conteo.

¿Qué aprendí? ticket de salida página 5 • Tomo 1

Recursos

Cubos base 10

Propósito

Que los estudiantes reconozcan la eficacia de formar grupos de 10 para contar colecciones “grandes”.

Habilidad

Representar.

Gestión

En esta actividad compararán tres técnicas de conteo, las contrastarán y valorarán la más eficaz. Pregunte: ¿Cuántas manzanas han pintado? Cuéntenlas. Para ello, invítelos a contar las manzanas en tres momentos, de la siguiente manera:


- Cuentan seleccionando cada objeto con sus dedos y anotan la cantidad. Es probable que haya respuestas distintas; no las apruebe ni desapruebe aún. Mantenga la expectativa sobre cuál será la respuesta correcta.
- Con el lápiz tachan las manzanas y anotan la cantidad. Es probable que tengan una respuesta distinta a la anterior.
- Entregue cubos a cada uno, pida que coloquen un cubo sobre cada manzana. Pídales que se aseguren de que hay un bloque por cada manzana.

Cuando hayan cubierto todas las manzanas, pregunte: Para estar seguros de la cantidad, ¿cómo conviene contar los cubos? Se espera que apliquen lo que han aprendido anteriormente sobre la agrupación de 10. Dé un tiempo para que formen los grupos, utilizando marcos de 10 (o formando torres de 10).

Pregunte: De todas las respuestas que dieron anteriormente, ¿cuál es la que les da mayor seguridad sobre la cantidad de manzanas que hay?

Posteriormente, pida que vuelvan a la página anterior y que comprueben, utilizando cubitos, si la cantidad de manzanas que habían escrito es correcta.

1 Javiera pintó los puntos en el dibujo. ¿Cuántos puntos pintó?



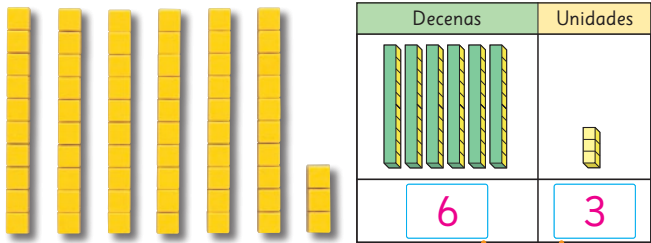
6

Consideraciones didácticas

Cuando se enfrentan a la tarea de contar colecciones en representaciones gráficas, surge la dificultad de formar grupos de 10. Por ello, en esta actividad, se les pide que pongan un cubo sobre cada manzana para que puedan pasar de la representación gráfica a la concreta.

Es importante que reconozcan que deben contar muchos objetos, el conteo de uno en uno es una técnica frágil.

Por lo anterior, en esta actividad se pide cuantificar una colección “grande” y desordenada, con la intención de que practiquen las técnicas que han aprendido para contar (formar grupos de 10 y objetos sueltos).

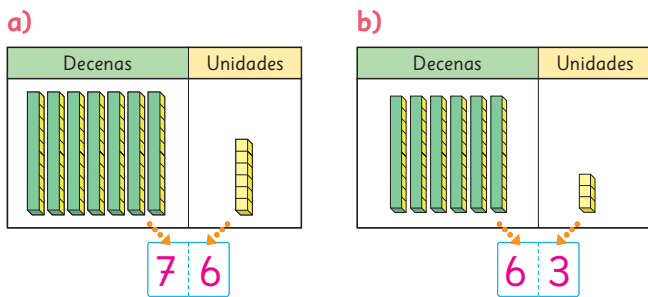


63 puntos.

6 en el lugar de las decenas

6 en el lugar de las unidades, por lo tanto es 63

2 ¿Cuántos cubos hay?



 ¿Qué aprendí? • Ticket de salida página 7 • Tomo 1

 Material didáctico

7

Recursos

Cubos base 10.

Propósito

Que los estudiantes reconozcan la eficacia de formar grupos de 10 para contar colecciones “grandes”.

Habilidad

Representar/argumentar y comunicar.

Gestión

Para sistematizar la actividad de las páginas anteriores, pida a los niños que observen las imágenes de la página y pregunte: ¿En qué se parece lo que acabamos de hacer con lo que se muestra en la página? ¿Por qué es conveniente agrupar los cubos en grupos de 10? ¿Qué pasaba cuando contábamos de 1 en 1? Es importante que reconozcan que la formación de la colección en grupos de 10 y objetos sueltos se relaciona con la formación de los números y, por tanto, facilita cuantificar la colección.

Pídales que completen los recuadros, escribiendo la cantidad de cubos que hay en los grupos de 10 (hay 6 grupos de 10, entonces hay 60), luego los cubos sueltos (3) y finalmente que compongan para formar el número que representa la cantidad total: así, $60 + 3$ forman 63.

Enseguida, en la actividad 2, escriben el número que representa la cantidad total de cubos.

Pregunte: ¿Quién puede explicar cómo se escriben los números más grandes?

Consideraciones didácticas

Es posible que algunos niños cuantifiquen la cantidad de grupos de 10, contando de 10 en 10 (10, 20, 30, 40, 50, etc.). Frente a ello, favorezca que reconozcan, mediante el conteo y la escritura del número, la regularidad que existe entre la cantidad de grupos y la escritura; por ejemplo: que observen que hay 5 grupos de 10, lo cuenten y luego escriban 50. Esto lo repiten con varias cantidades, mientras se pone énfasis en la relación de la cantidad de grupos y su escritura.

Planificación  90 minutos

TE  80 minutos

CA  10 minutos

Recursos

Cubos para cada niño. Carteles con números de 2 cifras para el profesor.

Propósito

Que los estudiantes ejerciten la cuantificación y producción de colecciones hasta 100.

Habilidad

Representar

Gestión

Entregue un set de cubos a cada niño o por grupo. Explíqueles que tendrán que representar el número que muestre en el cartel. Cuando estén formando las cantidades, observe que armen bloques de 10 cubos y los organicen en filas, tal como se muestra en la imagen; esto favorecerá la visualización de las cantidades. Cuando cada uno tenga formada su colección, pregunte cómo las formaron, aludiendo a la cantidad de grupos de 10 y cubos sueltos.

Invítelos a sacar su texto. En las actividades 4 y 5, deben determinar la cantidad total; note que se va restringiendo paulatinamente la disponibilidad de la representación: primero está toda la colección, luego parte de ella y finalmente está descrita, por lo que se requiere un grado mayor de abstracción. Sin embargo, permita que los estudiantes que aún requieren el apoyo con material concreto, lo usen.

Posteriormente, invítelos a desarrollar los ejercicios del Cuaderno de Actividades.

3 Formemos filas con los cubos.



4 Escribe el número.

a)  es igual a sobres.

b) 8 cajas de  y 4  es igual a galletas.

5 Completa.

a) 8 decenas más 2 unidades es igual a .

b) 9 decenas es igual a .

c) 9 en el lugar de las decenas y 5 en el lugar de las unidades es igual a .

 Cuaderno de Actividades página 4 • Tomo 1

 ¿Qué aprendí? • Ticket de salida página 8 • Tomo 1

8

Consideraciones didácticas

Cuando tengan que producir colecciones agrupadas de 10, favorezca que reconozcan que no necesitan contar los cubos de cada bloque, pues es suficiente con formar un bloque de 10 y luego copiar la cantidad para los bloques siguientes, poniendo un bloque al lado del otro; si tienen la misma altura, entonces tendrán la misma cantidad.

 Cuaderno de Actividades página 4 • Tomo 1

 ¿Qué aprendí? ticket de salida página 8 • Tomo 1

Recursos

Bloques base 10.

Propósito


Que los estudiantes experimenten y comprendan la formación del número 100.

Habilidad



Representar/argumentar y comunicar.

Gestión

Proyecte en la pizarra la imagen de las estampillas que se muestra en la actividad 6. Pregunte: ¿Cuántas estampillas hay? Permita que socialicen sus respuestas y técnicas. Es posible que algunos reconozcan que hay 10 grupos de 10, pero no sepan cómo se escribe el número y otros sí lo sepan. Para sistematizar y formalizar lo anterior, invítelos a que abran su libro y observen las imágenes de la página. Pida que pongan atención a lo que está haciendo el puma. Pregunte: ¿Cuántos cubos ya ha puesto el puma en el marco? (99, 9 grupos de 10 y 9 sueltos) ¿Qué sucede si se agrega 1 cubo más? (se forman 10 grupos de 10). Valide que 10 grupos de 10 se denominan 100. Indique que esta tabla se llama tabla de 100 y siempre se organiza de esta manera. Siempre tiene 10 columnas y cada columna tiene 10 elementos. Pida que resuelvan los ejercicios a) y b). A continuación, elabore con ellos una tabla de 100 propia del curso. Entregue a cada niño uno o dos papeles lustre (dependiendo de la cantidad de alumnos del curso). Ayúde a pegar las papeletas en columnas en un pliego grande de papel formando una tabla de 100.


Ejemplo tabla de 100 con cartulinas de colores:

🕒 ¿Qué aprendí? ticket de salida página 9 • Tomo 1
 📄 Material didáctico

6 ¿Cuántas estampillas hay?

10 grupos de 10 unidades → 100

Practica

- a) 10 sobres de 10 láminas es igual a **100** láminas.
 b) 10 monedas de  es igual a **100** pesos.

🕒 ¿Qué aprendí? • Ticket de salida página 9 • Tomo 1
 📄 Material didáctico

9

Consideraciones didácticas

Es importante que reconozcan que, cuando se forma un grupo de 100 objetos, la escritura del número contempla tres cifras; por tanto, se agrega una posición más a la izquierda. Puede recurrir a la tabla de valor posicional para que visualicen esta idea.

Propósito

Que los estudiantes construyan la tabla de 100 a partir de las regularidades que identifican en ella.

Habilidad

Modelar/argumentar y comunicar.

Gestión

Proyete la tabla de 100 en la pizarra o muestre la tabla del texto. Desafíe a los niños a encontrar el lugar donde se ubica el 75, pero sin escribir todos los números que están antes de él. Dé un tiempo para que observen la tabla. Luego invite a distintos alumnos a que expongan sus conjeturas y las justifiquen. Es importante que reconozcan que los números de una misma columna siempre terminan con el mismo dígito; entonces, el 75 debe estar en la columna de los números que terminan en 5 y debe estar debajo del 65, porque 75 es mayor que 65.

Posteriormente, invítelos a que saquen su texto y explíqueles que inicialmente no completarán todos los números de la tabla, sino solamente aquellos que se les indicará. Desafíelos a saber dónde se ubica cada número sin tener que completar los números anteriores. Luego pida que ubiquen el número 86 (el número que está arriba del 96). Después, que ubiquen otros números sin seguir un orden; por ejemplo, 77, 56, 99, etc., hasta completar la tabla.

Destaque que, para ubicar un número en la tabla, pueden considerar las columnas o las filas; por ejemplo, si se quiere ubicar el número 79, se puede considerar la fila de los números que comienzan con 7 o la columna de los números que terminan en 9. Luego invítelos a desarrollar los ejercicios 8 y 9.


En el cierre de esta y de la siguiente hora, invítelos a completar la tabla de 100 propia del curso. Pida que cada uno escriba un número en un papel cuadrulado (de 10 por 10 cuadrículas). Este número se pega encima de los papeles lustre de su tabla de 100.

7 Completa los números que faltan.

¿Dónde escribo 75?



1	2	3	4	5	6	7	8	9	10
11	12	13	14	15	16	17	18	19	20
21	22	23	24	25	26	27	28	29	30
31	32	33	34	35	36	37	38	39	40
41	42	43	44	45	46	47	48	49	50
51	52	53	54	55	56	57	58	59	60
61	62	63	64	65	66	67	68	69	70
71	72	73	74	75	76	77	78	79	80
81	82	83	84	85	86	87	88	89	90
91	92	93	94	95	96	97	98	99	100

8 ¿Qué número es mayor? 

- a)

67	63
----	----

 b)

78	80
----	----

 c)

100	97
-----	----

9 Completa.

- a) 3 más que 97 es igual a

100

 .
- b) 10 menos que 100 es igual a

90

 .

 Material didáctico

10

Consideraciones didácticas

Es importante el trabajo con la tabla de 100, ya que los niños pueden comprender la estructura del sistema de numeración decimal a partir de las regularidades que existe en la escritura de los números. Así, pueden reconocer que las reglas que rigen la escritura son siempre las mismas; por lo tanto, pueden desarrollar la habilidad de anticipar.

Contar hasta 100



1 ¿Cuántas monedas necesitamos?

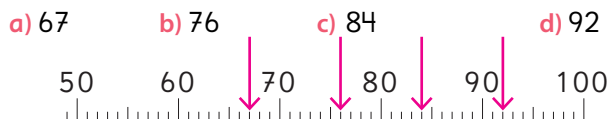
¿Cuántas monedas de \$10 hacen \$100?



\$ 100 → 10 monedas de \$10

Practica

1 Marca en la recta numérica los siguientes números. Comprueba contando.



2 Completa.

- a) 85 es la suma de **8** grupos de 10 y 5 grupos de 1.
b) 85 es la suma de **85** grupos de 1.
c) 100 es la suma de **10** grupos de 10 o **100** grupos de 1.

Cuaderno de Actividades páginas 5 y 6 • Tomo 1
 ¿Qué aprendí? • Ticket de salida página 11 • Tomo 1

11

Consideraciones didácticas

Habitualmente los niños piensan que a mayor cantidad de monedas es mayor la cantidad de dinero, pues para comprender el concepto de unidad de orden superior, que requiere de un nivel de abstracción mayor, necesitan comprender que cada 10 unidades se forma una “nueva unidad” que asume un valor mayor que la anterior.

P. 11 | TE | Números hasta 100

1

Planificación 45 minutos

TE 35 minutos

CA 10 minutos

Recursos

Monedas de \$10 y \$100.

Propósito

Que los estudiantes produzcan una colección, utilizando dinero.

Habilidad

Representar.

Gestión

Presente el problema que se muestra en la actividad 1 en un cartel o escríbalo en la pizarra: “Si queremos comprar una tijera que vale \$100, ¿con qué monedas tendríamos que pagarla?”.

Entregue monedas de \$10 y de \$100 a cada niño o grupo. Dé un tiempo para que resuelvan la situación. Se espera que reconozcan que la tijera se puede pagar solo con una moneda de \$100 y también con 10 monedas de \$10.

Pregunte: ¿Por qué es la misma cantidad de dinero si tengo 10 monedas de \$10 o una moneda de \$100? ¿Es posible que una sola moneda tenga el mismo valor que 10 monedas de \$10?

Presente en la pizarra una recta numérica. Pregunte: ¿Qué representa esta recta numérica? ¿Qué significan los números sobre la recta? ¿Qué significan las líneas pequeñas entre los números? ¿Cómo se han ordenado los números? ¿Cómo se cuenta los números en una recta numérica? Ejercite su uso con todo el curso y dé algunos ejemplos.

Enseguida, invítelos a desarrollar los ejercicios 1 y 2.

Cuaderno de Actividades páginas 5 y 6 • Tomo 1
 ¿Qué aprendí? ticket de salida página 11 • Tomo 1

Recursos

Tabla de 100.

Propósito

Que los estudiantes usen las regularidades de la tabla de 100 para ubicar números en ella.

Habilidad

Modelar/argumentar y comunicar.

Gestión











Presente la tabla de la actividad 2 y pregunte: ¿Qué es esto? (tabla de 100) ¿Qué pasó con esta tabla? (no están los números y algunos no se pueden anotar, porque están tapados con dibujos). Enfátice que se trata de una tabla de 100 con números escondidos.











Desafíelos a determinar los números que se esconden debajo de las imágenes de los útiles y pregunte cuáles son los números que tapan el puma y Ana. Dé un tiempo para que piensen. Pida que expliquen cuál es el orden los números en cada fila y en cada columna. Invítelos a nombrar los números que cubren el puma y/o Ana y pida que justifiquen su respuesta. Se espera que reconozcan que el puma está en la fila del 41 al 50 y en la columna de los números que terminan en 6, por eso su lugar es el 46. A continuación, invítelos a descubrir de manera autónoma, de forma individual o en parejas, todos los demás números escondidos. Dígalos que los anoten en los espacios debajo de la tabla, al lado de cada elemento de útiles. Posteriormente, en una puesta en común, invítelos a compartir sus respuestas e intercambiar sus estrategias.

Para verificar las respuestas, use la tabla de 100 que cada niño encuentre en su Cuaderno de Actividades en la página 63.

2 ¿Qué números se esconden detrás de los dibujos?

Anótalos en los espacios debajo de la tabla de 100.

 <u>31</u>	 <u>53</u>	 <u>46</u>	 <u>68</u>	 <u>40</u>
 <u>72</u>	 <u>14</u>	 <u>85</u>	 <u>9</u>	 <u>99</u>

- 3 Empieza en la baldosa 2 y camina de 2 en 2 hasta 100. Marca con un color todos los casilleros que pisas.

1	2	3	4	5	6	7	8	9	10
11	12	13	14	15	16	17	18	19	20
21	22	23	24	25	26	27	28	29	30
31	32	33	34	35	36	37	38	39	40
41	42	43	44	45	46	47	48	49	50
51	52	53	54	55	56	57	58	59	60
61	62	63	64	65	66	67	68	69	70
71	72	73	74	75	76	77	78	79	80
81	82	83	84	85	86	87	88	89	90
91	92	93	94	95	96	97	98	99	100

- 4 Empieza en la baldosa 5 y camina de 5 en 5 hasta 100. Marca con un color todos los casilleros que pisas.

1	2	3	4	5	6	7	8	9	10
11	12	13	14	15	16	17	18	19	20
21	22	23	24	25	26	27	28	29	30
31	32	33	34	35	36	37	38	39	40
41	42	43	44	45	46	47	48	49	50
51	52	53	54	55	56	57	58	59	60
61	62	63	64	65	66	67	68	69	70
71	72	73	74	75	76	77	78	79	80
81	82	83	84	85	86	87	88	89	90
91	92	93	94	95	96	97	98	99	100

- 5 Marca con otro color tu camino, saltando de 10 en 10. ¿Qué observas?

Recursos

Tabla de 100.

Propósito

Que los estudiantes usen las regularidades de la tabla de 100 para ejercitar y repasar el conteo de 2 en 2, de 5 en 5 y de 10 en 10.

Habilidad

Argumentar y comunicar.

Gestión

Lean en conjunto la instrucción de la actividad 3 para trabajar con la tabla de 100. Pídeles que muestren con un lápiz las primeras cinco baldosas que pisarían, si saltaran de 2 en 2 partiendo desde el número 2. Luego invítelos a colorear todos los casilleros que deban marcar en el conteo de 2 en 2 hasta el final de la tabla.

Indique que luego sigan coloreando la tabla de la actividad 4, pero con saltos más grandes; es decir, que avancen de 5 en 5 partiendo del número 5.

Al final de la clase, desafíelos a responder las preguntas de la actividad 5. Pida que fundamenten la elección de la tabla (pueden nombrar una de las dos porque todos los números del conteo de 10 en 10 también son parte de los números del conteo de 2 en 2 y de 5 en 5).

Planificación  45 minutos

TE  35 minutos

CA  10 minutos

Recursos

Tabla de 100 para el profesor.

Propósito

Que los estudiantes usen las regularidades de la tabla de 100 para completar números en extractos de ella.

Habilidad

Modelar

Gestión

Presente el primer extracto de la tabla en la pizarra; puede usar un cartel o dibujarlo en ella.

Explíqueles que en la pizarra se muestra solo una parte de la tabla, y desafíelos a averiguar el número que falta. Dé un tiempo para que piensen la respuesta. Invite a algunos niños a decir el número que falta y a justificar su respuesta. Se espera que reconozcan que el número se puede determinar pensando en el número que está antes del 12 ($12 - 1$), el que está abajo del 1 ($1 + 10$) o el que está arriba del 21 ($21 - 10$). Para verificar la respuesta, presente la tabla de 100 completa.

2 Completa los números que faltan.



Puedes mirar la tabla de 100.

1	2
11	12
21	

48	49	50
58	59	60
68	69	70

		7
		17
25	26	27
	36	
	46	

8	9	10
18		
28		

		76
84	85	86
94	95	96

5	6
15	16

78	79	80
		90
98	99	100

3	4
13	14
23	24
33	

	22	
31	32	
	42	
51	52	53
	62	

77		
87	88	89
97		

	63	64	65
	73	74	75
	83		
92	93		

		19	20
		29	30
38	39	40	

14	15	16	17	18	19
		25			

41	
51	
61	
71	72
81	82
91	

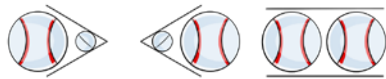
 Cuaderno de Actividades página 7 • Tomo 1

 ¿Qué aprendí? • Ticket de salida página 14 • Tomo 1

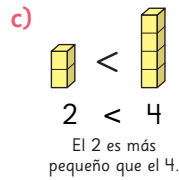
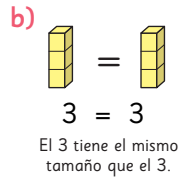
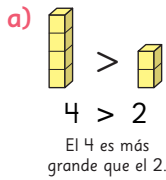
Consideraciones didácticas

Estas actividades los ayudan a desarrollar su capacidad de anticipar una respuesta; por ello, no deben tener disponible la tabla de 100 mientras hacen las actividades. Preséntesela solamente cuando necesiten verificar sus respuestas.

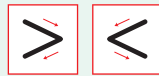
Signos > y <



1 Comparemos.

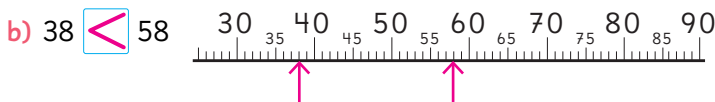
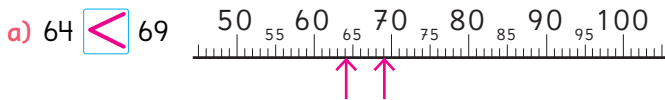


Para comparar cantidades más grandes o más chicas, usamos los signos > y < para indicar "mayor que" y "menor que".



2 ¿Qué número es mayor?

Representalos en la recta numérica usando > o <.



Cuaderno de Actividades página 8 • Tomo 1
 ¿Qué aprendí? • Ticket de salida página 15 • Tomo 1

15

Consideraciones didácticas

En la actividad 2, favorezca que reconozcan entre qué números se encuentra un número; por ejemplo, para el 64, se espera que reconozcan que se encuentra entre el 60 y el 65.

En la comparación de números, cabe considerar que los niños pueden saber qué número es mayor, pero pueden equivocarse al elegir el símbolo. La realización concreta de los signos ayuda a una mayor comprensión.

Cuaderno de Actividades página 8 • Tomo 1

¿Qué aprendí? ticket de salida página 15 • Tomo 1

Planificación 45 minutos

TE 30 minutos

CA 15 minutos

Propósito

Que los estudiantes comparen números hasta 100.

Habilidad

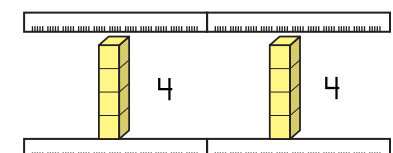
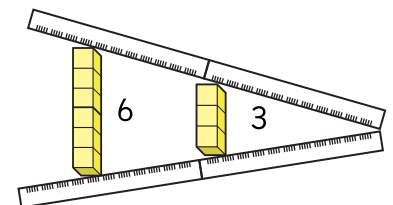
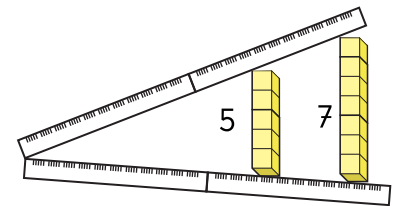
Representar.

Gestión

Proyecte o muestre la imagen de la actividad 1 para que comprendan cómo utilizar los signos mayor, menor e igual. Pida que describan e interpreten las imágenes con las pelotas de tenis y las torres de cubos. A continuación, invite a pares de estudiantes a experimentar de manera concreta la comparación de dos torres de diferentes alturas, usando reglas para representar los signos mayor, menor e igual.

Enseguida, invítelos a desarrollar los ejercicios de la actividad 2. Favorezca que representen los números en la recta numérica para que comprendan que, a medida que se avanza hacia la derecha, los números son mayores y viceversa, en la medida que se retrocede hacia la izquierda, los números son menores.

Posteriormente, destaque que cuando se compara números, es necesario comparar el primer dígito (de izquierda a derecha) y, si son iguales, entonces se compara los dígitos de las unidades.



Recursos

Cubos base 10.

Propósito

Que los estudiantes calculen sumas de números múltiplos de 10.

Habilidad

Representar/argumentar y comunicar.

Gestión

Presente el problema 1 en un cartel o proyéctelo en la pizarra. Desafíelos a escribir la expresión matemática que resuelve el problema ($20 + 10$). Luego invítelos a pensar cómo es posible calcular dicha suma.

Dé un tiempo para que elaboren su estrategia. Luego invítelos a compartirlas. Se espera que reconozcan que una estrategia eficaz es sumar las decenas; así, 2 decenas más 3 decenas es 5 decenas, es decir, 50. Para verificar la respuesta, pida que representen la situación con los bloques base 10.

Para sistematizar lo anterior, invítelos a sacar su texto para comparar lo que acaban de realizar. Pídales que pongan atención en la tabla de valor posicional para que reconozcan y comprendan por qué cuando suman números terminados en cero, es útil sumar los dígitos de las decenas y luego, agregar un cero al resultado.

Posteriormente, invítelos a desarrollar los ejercicios que vienen a continuación. En una puesta en común, permita que compartan sus resultados y estrategias. Ponga énfasis en que deben usar su conocimiento de los cálculos de dígitos para calcular estas sumas. Por ejemplo: si saben que $1 + 8$ es 9, entonces $10 + 80$ es 90.

Pida que inventen más ejercicios y que se los dicten a otros.

Sumar



1 Carola recortó 20 estrellas y Ana 30.

¿Cuántas recortaron en total?

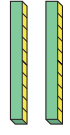

Suma las decenas.



a) Escribe una expresión.

$20 + 30$

b) Pensemos cómo encontrar la respuesta.

Decenas	Unidades
	
	

Cuenta los grupos de 10.



Respuesta: **50** estrellas.

Practica

a) $40 + 30 = 70$ b) $20 + 10 = 30$ c) $10 + 80 = 90$ d) $30 + 70 = 100$



Consideraciones didácticas

Este tipo de sumas (de números terminados en cero) contribuyen a profundizar la comprensión de la estructura del sistema de numeración decimal. Es decir, cuando los niños suman, por ejemplo, $20 + 30$, evocan una situación de conteo en la cual una colección está formada por 2 grupos de 10 objetos y otra por 3 grupos de 10. Así, si se juntan los grupos de 10, se obtiene 50.

2 Emilio tiene 23 lápices.




Su hermana mayor le dio 6 más.
¿Cuántos lápices tiene?



a) Escribe una expresión.

$$23 + 6$$

b) Pensemos cómo encontrar el resultado.

Decenas	Unidades
	
	

Suma los números de las decenas y de las unidades.

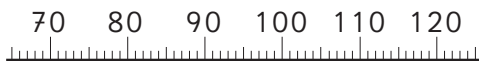



Respuesta: 29 lápices.

Practica

a) $42 + 1 = 43$ c) $25 + 4 = 29$ e) $36 + 2 = 38$ g) $70 + 5 = 75$

b) $52 + 4 = 56$ d) $33 + 6 = 39$ f) $3 + 21 = 24$ h) $9 + 60 = 69$



 Cuaderno de Actividades página 9 • Tomo 1
 ¿Qué aprendí? • Ticket de salida página 17 • Tomo 1

17

Consideraciones didácticas

En estas actividades se amplía el repertorio de cálculos que contribuyen a consolidar el conocimiento del sistema de numeración decimal, ya que, para sumar, por ejemplo, $32 + 6$, deben reconocer que el 6 afectará al dígito 2 del 32 y también deben saber que $2 + 6$ es 8 y que $30 + 8$ es 38.

Recursos

Cubos base 10.

Propósito

Que los estudiante calculen sumas de números de dos cifras con un dígito.

Habilidad

Representar/argumentar y comunicar.

Gestión

Presente el problema 2 en un cartel o proyéctelo en la pizarra. Desafíelos a escribir la expresión matemática que resuelve el problema ($23 + 6$). Luego invítelos a pensar cómo se puede calcular dicha suma.

Dé un tiempo para que elaboren su estrategia. Luego invítelos a compartirlas. Se espera que reconozcan que una estrategia eficaz es sumar las unidades; así, 3 unidades más 6 unidades son 9 unidades y luego agregar 2 decenas ($20 + 9$). Para verificar la respuesta, pida que representen la situación con los bloques base 10.

Para sistematizar lo anterior, invítelos a sacar su texto para que comparen lo que acaban de realizar. Pídales que pongan atención en la tabla de valor posicional para que reconozcan y comprendan porqué deben sumar primero las unidades y luego las decenas.

Posteriormente, invítelos a desarrollar los ejercicios que vienen a continuación. En una puesta en común, permita que compartan sus resultados y estrategias. Ponga énfasis en que deben usar su conocimiento de los cálculos de dígitos y las sumas de números terminados en cero. Para aumentar la destreza de cálculo hasta 10, incluya unos 5 minutos de rutina de cálculo mental al inicio o al final de cada clase. Esta rutina puede ser oral o por escrito. Se puede utilizar las tarjetas del Anexo 4 de esta Guía Didáctica Docente.



Cuaderno de Actividades página 9 • Tomo 1



¿Qué aprendí? ticket de salida página 17 • Tomo 1

Recursos

Hojas con números escritos que puedan formar una secuencia.

Propósito

Que los estudiantes ejerciten lo aprendido.

Habilidad

Modelar, representar/ argumentar y comunicar.

Gestión

Invítelos a abrir el Texto del Estudiante en la página 18 y lea las instrucciones. El trabajo debe ser individual; usted vaya monitoreando el trabajo y resolviendo dudas. Cuando todos hayan terminado, revisen las actividades en conjunto.

En la actividad 1, si tienen dificultades, proporciónenles los bloques base 10 para que puedan representar las cantidades.

En la actividad 2, deben completar secuencias numéricas; para ello, incentívelos a reconocer la regla de formación antes de comenzar a escribir.

En la actividad 3, es posible que identifiquen el número mayor o menor, pero no recuerden cómo utilizar el símbolo; en tal caso, pueden recurrir a la página 15 para recordarlo y verificar sus respuestas.

Permita también representen el ejercicio de manera pictórica, aproximando el tamaño de las torres.

Pregunte: Si tienes un torre de 12 cubos y otra de 21, ¿cómo se ven las reglas? Si es necesario, haz un pequeño dibujo.

En la actividad 4 deben aplicar su conocimiento de los cálculos de dígitos.

Hagan en conjunto la actividad de la hora para evaluar la lectura de la hora en relojes digitales.

Ejercicios 

1 Completa.

- a) 100 es la suma de grupos de 10.
 b) 80 es la suma de unidades.
 c) Cuando se juntan cincuenta y cuatro, el número es .
 d) Cuando se juntan 7 grupos de 10 y 7, el número es .

2 Completa.

- a)
 b)

3 ¿Cuál número es mayor? Usa $>$ o $<$.

- a) 12 21 b) 100 98 c) 54 45

4 Calculemos.

- a) $40 + 20 = 60$ b) $70 + 30 = 100$ c) $40 + 30 = 70$ d) $60 + 30 = 90$

¿Lo recuerdas?

¿Qué hora es?



ocho en punto.



nueve y media.



doce en punto.



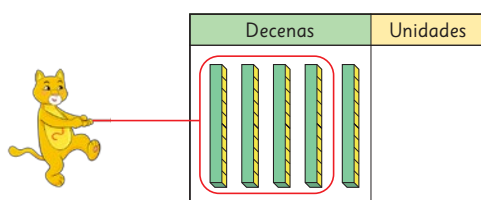
Restar

1 Había 50 niños en el bus. Se bajaron 40 niños frente al área de esquí. ¿Cuántos niños quedan en el bus?

a) Escribe una expresión.

$$50 - 40$$

b) Pensemos cómo encontrar el resultado.



Puedes encontrar la respuesta contando los grupos de 10, como lo hiciste en la suma.



Respuesta: 10 niños.

Practica

a) $40 - 20 = 20$ b) $90 - 30 = 60$ c) $60 - 10 = 50$ d) $100 - 40 = 60$

19

Consideraciones didácticas

Este tipo de restas (de números terminados en cero), igual que los cálculos anteriores, contribuyen a consolidar la comprensión de la estructura del sistema de numeración decimal; por ello, interesa que los niños extiendan el conocimiento que poseen de los números y el conteo para calcularlas. Es importante que dominen este tipo de cálculos para que después desarrollen técnicas de cálculo mental.

Recursos

Cubos multibase.

Propósito

Que los estudiantes calculen restas de números múltiplos de 10.

Habilidad

Representar/argumentar y comunicar.

Gestión

Presente el problema 1 en un cartel o proyéctelo en la pizarra. Desafíelos a escribir la expresión matemática que resuelve el problema $50 - 40$. Pregunte: ¿Con qué expresión podemos resolver este problema? Luego invítelos a pensar cómo se puede calcular dicha resta.

Dé un tiempo para que elaboren su estrategia. Luego invítelos a compartirlas. Se espera que reconozcan que una estrategia eficaz es restar las decenas; así, 5 decenas menos 4 decenas es 1 decena, es decir, 10. Para verificar la respuesta, pida que representen la situación con los bloques base 10.

Para sistematizar lo anterior, invítelos a sacar su texto para comparar lo que acaban de realizar. Pídales que pongan atención en la tabla de valor posicional para que reconozcan y comprendan por qué, cuando restan números terminados en cero, es útil restar los dígitos de las decenas y mantener el 0 de las unidades.

Posteriormente, invítelos a desarrollar los ejercicios que vienen a continuación. En una puesta en común, permita que compartan sus resultados y estrategias. Ponga énfasis en que deben usar su conocimiento de los cálculos de dígitos para calcular estas sumas. Por ejemplo: si saben que $4 - 2$ es 2, entonces $40 - 20$ es 20.

Planificación  45 minutosTE  35 minutosCA  10 minutos**Recursos**

Cubos base 10.

Propósito

Que los estudiantes calculen restas de números múltiplos de 10.

Habilidad

Representar/argumentar y comunicar.

Gestión

Presente el problema 2 en un cartel o proyéctelo en la pizarra. Pregunte: ¿Hay más lápices rojos o más verdes? Desafíelos a escribir la expresión matemática que resuelve el problema ($38 - 5$). Luego invítelos a pensar cómo se puede calcular dicha resta.

Dé un tiempo para que elaboren su estrategia. Luego invítelos a compartirlas. Se espera que reconozcan que una estrategia eficaz es restar las unidades; así, 8 unidades menos 5 unidades es 3 unidades, y luego agregar 3 decenas ($30 + 3$). Para verificar la respuesta, pida que representen la situación con los bloques base 10.

Para sistematizar lo anterior, invítelos a sacar su texto para comparar lo que acaban de realizar. Pídales que pongan atención en la tabla de valor posicional para reconozcan y comprendan por qué deben restar primero las unidades y luego las decenas.

Posteriormente, invítelos a desarrollar los ejercicios que vienen a continuación. En una puesta en común, permita que compartan sus resultados y estrategias. Ponga énfasis en que deben usar su conocimiento de los cálculos de dígitos y las sumas de números terminados en cero.

Conociendo las diferencias individuales de sus alumnos, permita a quienes lo requieran usar material concreto para resolver el problema.


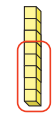
- 2 Hay 38 lápices de colores, de los cuales 5 son rojos y el resto verde.

¿Cuántos lápices verdes hay?

- a) Escribe una expresión.

- b) Pensemos cómo encontrar el resultado.

Respuesta: lápices verdes.

Decenas	Unidades
	

Practica


- a) $48 - 3 = 45$ b) $67 - 5 = 62$ c) $98 - 7 = 91$ d) $26 - 2 = 24$

- 3 Había 24 galletas y Manuel se comió 4.

¿Cuántas quedan?

Escribe una expresión.

Respuesta: galletas.

**Practica**

- a) $37 - 7 = 30$ b) $55 - 5 = 50$ c) $89 - 9 = 80$ d) $76 - 6 = 70$

 Cuaderno de Actividades página 10 • Tomo 1

 ¿Qué aprendí? • Ticket de salida página 20 • Tomo 1

20

Consideraciones didácticas


En el tipo de cálculo de la actividad 3, se espera que no recurran a técnicas de conteo, ya que se pretende que apliquen sus conocimientos del sistema de numeración decimal. Si presentan dificultades, puede usar material concreto, que los ayudará a reconocer la regularidad que existe cuando a un número se le resta el dígito de las unidades.

 Cuaderno de Actividades página 10 • Tomo 1

 ¿Qué aprendí? ticket de salida página 20 • Tomo 1

Sumar y Restar

- 1 Quiero comprar una caluga por \$30 y un chicle por \$40.



¿Cuál es el costo total?

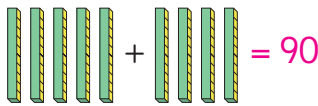


El costo total es de \$70.

Estoy pensando cuántas monedas de \$10 serían...



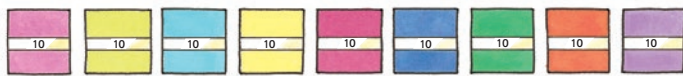
- 2 Encontramos el resultado para $50 + 40$.



Son 9 monedas de 10.



- 3 Tenía 90 hojas de papel lustre y usé 40 hojas. ¿Cuántas hojas quedan?



Quedan 50 hojas.

- 4 Encontramos el resultado de 9 decenas - 7 decenas.

El resultado es 2 decenas.

Practica

Calculemos.

- a) $20 + 10 = 30$ c) $30 + 50 = 80$ e) $90 + 10 = 100$ g) $50 + 50 = 100$
 b) $30 - 10 = 20$ d) $80 - 50 = 30$ f) $80 - 40 = 40$ h) $90 - 70 = 20$

Cuaderno de Actividades página 11 • Tomo 1
 ¿Qué aprendí? • Ticket de salida página 21 • Tomo 1

21

Evaluación formativa

Para evaluar lo aprendido, presente distintas sumas y restas de números terminados en cero. Los niños solo deben escribir el resultado en su cuaderno. Incentívelos a identificar aquellos cálculos que no saben de memoria y que se propongan aprenderlos.

Planificación 45 minutos

TE 30 minutos

CA 15 minutos

Recursos

Bloques base 10.

Propósito

Resolver problemas que involucran sumas y restas de números terminados en cero.

Habilidad

Resolver problemas / argumentar y comunicar.

Gestión

Lean juntos cada problema sucesivamente y pídeles que los resuelvan de manera autónoma. Luego, en una puesta en común, permita que comuniquen sus resultados y las estrategias utilizadas. Se espera que justifiquen y argumenten que las estrategias de cálculo se asocian a los cálculos de dígitos.

Actividad 2: ¿Cuál es el resultado? ¿Por qué dice el niño que son 9 monedas? (Se espera que digan algo como esto: barras de 10 y monedas de 10 tienen la misma cantidad de decenas). Proceda como en la actividad anterior.

Actividad 3: Después de usar 40 hojas, ¿quedan menos o más hojas de papel lustre? Proceda como en la actividad anterior.

Actividad 4: Permita que los niños que aún lo requieran, usen barras para resolver el problema. Proceda como en la actividad anterior.

Luego invítelos a resolver los cálculos que se presenta a continuación. Para favorecer la habilidad de argumentar y comunicar, puede preguntar: ¿Cuál de estos cálculos es más fácil? ¿Hay alguno que no sepan de memoria?

Propósito

Que los estudiantes valoren el uso de los números en la vida cotidiana.

Habilidad

Argumentar y comunicar.

Gestión

Para comenzar la clase, hagan una lluvia de ideas sobre los conceptos vistos hasta el momento. Invítelos a dar una vuelta por el colegio o a la manzana, poniendo atención en números. Al volver a la sala, pregúnteles: ¿Dónde vieron números y para qué servían?

Invítelos a abrir el texto en las páginas 22 y 23. Lean en conjunto, vayan comentando los usos de los números que se ve ahí y agreguen otros usos de números en la vida cotidiana. Pregunte: ¿Encontraron números parecidos a los que se muestra en esta página?

Divida al curso en grupos; con sus materiales, deben crear un afiche con el uso de los números.

Si es posible, lleve revistas y diarios viejos a la sala para que puedan recortar partes que muestren un número.

Encontrar números

Encuentra números en tu vida diaria.



Hay números en todas partes.



Busquemos.

En la florería hay precios.



Hay números para distinguir las calles.



Propósito

Que los estudiantes valoren el uso de los números en la vida cotidiana.

Habilidad

Argumentar y comunicar.

Gestión

Para terminar, cada grupo expone su afiche. Para comunicar a otros cursos la importancia de los números, se sugiere exponerlos afuera de la sala.

Se espera que reconozcan que los números tienen diferentes usos; por ejemplo, en algunos casos se emplean para indicar la cantidad de objetos que contiene un envase o el precio de un producto, en otros casos para indicar la hora, en otros para ubicarse e indicar el número de una casa, también para determinar claves de seguridad, etc. En definitiva, los números se necesitan no solo para contar, sino que tienen variados usos.

Origen - Destino	Días de operación	Hora salida
Puerto	Martes	12:30 hrs
Puerto Aguirre	Miércoles	08:30 hrs
Puerto	Miércoles	16:00 hrs
Puerto Aguirre	Jueves	08:00 hrs
Puerto	Viernes	12:30 hrs
Puerto Aguirre	Sábado	08:00 hrs
Puerto	Domingo	08:30 hrs
Puerto Aguirre	Domingo	14:00 hrs

El barco sale a las **8** en punto.



Cada paquete contiene **500** hojas de papel.



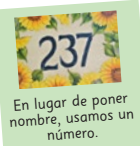
Las **500** hojas es un número que indica cantidad.




El barco va a Puerto Aguirre.

¿Cómo podemos describir los diferentes usos de los números?
Hagamos un afiche para mostrar lo que descubriste.

Lo que descubrimos de los números en nuestra vida




En lugar de poner nombre, usamos un número.



En lugar de usar llaves, usamos combinaciones de números.



Para representar el tiempo, usamos números.



Números para ubicarnos en el espacio.



Para representar los precios, usamos los números.



Para representar la cantidad de hojas, usamos los números.

¿Qué representan los números en la florería?



 ¿Qué aprendí? • Ticket de salida página 23 • Tomo 1

Recursos

Material concreto.

Propósito

Que los estudiantes ejerciten lo aprendido.

Habilidad

Resolver problemas.

Gestión

Estos ejercicios le permitirán evaluar formativamente lo aprendido hasta ahora. Por ello, permita que los niños resuelvan los ejercicios de manera autónoma. Luego, en una puesta en común, favorezca que comuniquen sus resultados y las estrategias empleadas. Avance de manera sucesiva y lea cada actividad con ellos para apoyar a quienes aún no tienen la fluidez necesaria.

En la actividad 1, deben cuantificar una colección de objetos agrupados de 10 y sueltos. Se espera que cuantifiquen los grupos de 10 (20), luego los sueltos (6) y finalmente sumen $20 + 6$.

En la actividad 2, deben reconocer el valor posicional de los dígitos del número.


En la actividad 3, deben comparar los números utilizando los símbolos mayor y menor.

En la actividad 4, indíqueles que el grupo que tiene mayor puntaje es el ganador. Al finalizar esta actividad, favorezca que expliquen en qué se fijan cuando comparan dos números.

Permita el uso de material concreto a los niños que aún lo requieran.

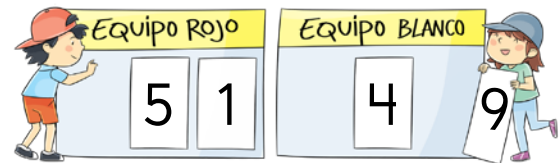
Ejercicios 

- 1 ¿Cuántas hojas de papel lustre hay? Cuéntalas.



Hay 26 hojas.


- 2 Observemos el número 48.
- El número 4 significa que hay decenas.
 - 48 es la suma de grupos de 1.
 - 2 más que 48 es .
- 3 ¿Qué número es mayor? Usa $>$ o $<$.
- $23 < 32$
 - $80 > 79$
 - $40 < 42$
- 4 Tomás dice que el equipo rojo ganó. ¿Por qué lo dice?
Comprueba contando.

**Evaluación formativa**

En la actividad 4, puede preguntarles por cuántos puntos ganó el Equipo Rojo. Para verificar sus respuestas, pueden recurrir a la tabla de 100 y contar cuánto le falta al 49 para llegar al 51.


5 ¿Cuántos hay?

a)



62 lápices.

b)



100 galletas.

6 Completa.

a) 9 decenas y 8 unidades son iguales a 98.

b) 6 decenas y 7 unidades son iguales a 67.

7

a) 2 menos que 70 es 68.

b) 10 menos que 100 es 90.

 Cuaderno de Actividades página 12 • Tomo 1

 ¿Qué aprendí? • Ticket de salida página 25 • Tomo 1

Propósito

Que los estudiantes ejerciten lo aprendido.

Habilidad

Representar.

Gestión

En la actividad 5 a), deben cuantificar una colección de objetos agrupados de 10 y sueltos. Se espera que cuantifiquen los grupos de 10 (60), luego los sueltos (2) y finalmente sumen $60 + 2$.

En la actividad 5 b), se espera que se aseguren de que dentro de una bolsa hay 10 galletas y que reconozcan que son todas iguales.

En la actividad 6, deben poner en práctica sus conocimientos sobre la descomposición canónica de los números.

En la actividad 7, deben identificar un número desconocido a partir de un referente [en a) es 70 y en b) es 120] y la diferencia entre ambos.

Monitoree y registre el desempeño individual de los estudiantes para tomar decisiones pedagógicas y de planificación.

Al finalizar las actividades, pídale que expliquen sus estrategias para resolver los ejercicios.

Evaluación formativa

Presente una colección de 4 paquetes de 10 lápices, 2 paquetes de 9 lápices y 2 lápices sueltos. Pregunte: ¿Cuál será la manera más fácil de saber cuántos lápices hay? Se espera que reconozcan que se puede formar dos paquetes de 10, utilizando los dos paquetes de 9 y los 2 sueltos; así se obtienen 6 paquetes de 10 lápices.

Propósito

Que los estudiantes usen las sumas y restas de múltiplos de 10 para extraer información de una tabla de datos.

Habilidad

Resolver problemas.

Gestión

Incentive a los niños a observar la tabla y lean en conjunto las actividades. Asegúrese de que todos comprendan su contenido.

En la pregunta a), se espera que reconozcan que deben sumar $20 + 10 + 10$. Favorezca que expliquen cómo hicieron este cálculo.


En la pregunta b), se espera que reconozcan que deben restar $100 - 40$; pueden hacerlo recurriendo a la resta $10 - 4$ y luego, extenderla. También podrían pensar cuánto le falta a 40 para completar 100.

Para responder la pregunta c), deben considerar lo que dice Nicolás en la parte inferior de la página. Así, pueden pensar que, si le quedan 60 páginas y cada día lee 10, entonces le faltan 6 días.



Problemas 1

- 1 Nicolás registra la cantidad de páginas que lee cada día.



- a) ¿Cuántas páginas ha leído? **Ha leído 40 páginas.**
- b) Este libro tiene 100 páginas. ¿Cuántas páginas le quedan?
Le quedan por leer 60 páginas.
- c) ¿En cuántos días crees que Nicolás terminará de leer el libro? **Terminará de leer el libro en 6 días.**
- d) ¿Por qué crees eso?
Porque cada día lee 10 páginas.

Si leo **10** páginas al día...

**Evaluación formativa**

Puede hacer preguntas para evaluar lo aprendido. Por ejemplo:

Si Nicolás tiene que leer un libro de 90 páginas y todos los días lee 10 páginas, ¿en cuántos días leerá el libro completo? ¿Y si el libro tiene 50? ¿Si tiene 70? ¿En qué te fijas para responder?

Si todos los días lee 10 páginas y lo terminó en 8 días, ¿cuántas páginas tenía el libro?

1 Josefa juega a comprar.

En mi monedero tengo **5** monedas de plástico. Estas valen **1** y **10**.

1 10



¿Cuánto tiene Josefa? Observa el ejemplo y escribe otras posibles combinaciones de monedas de 1 y 10, junto con la suma de dinero correspondiente.

Número de monedas de 10	1	2	3	4
Número de monedas de 1	4	3	2	1
Suma de dinero	14	23	32	41

“Entonces ...”

Si el número de monedas de 10 es 1, el número de monedas de 1 es 4.

Recuerda que Josefa tiene **5** monedas.



Josefa compró un chicle por 40 y le dieron vuelto.



Ahora me queda **1** moneda en mi monedero.

Comentemos qué monedas usó y cuánto dinero le queda. Usó **4 monedas de 10** y le queda **1 moneda de 1**.

 ¿Qué aprendí? • Ticket de salida página 27 • Tomo 1

Evaluación formativa

Realice preguntas para evaluar lo aprendido. Por ejemplo: Con las 5 monedas que tiene Josefa, ¿cuál es la mayor cantidad de dinero que podría tener? ¿Por qué? ¿Cuál es la menor cantidad de dinero que podría tener? ¿Por qué?

Recursos

Monedas.

Propósito

Que los estudiantes resuelvan problemas no rutinarios de sistema de numeración decimal.

Habilidad

Resolver problemas.

Gestión

Lean juntos el problema y asegúrese de que lo comprenden. Permita que los niños con una mayor competencia en lectura y matemática lo aborden de manera autónoma y en parejas, y junte a los niños que necesiten su ayuda y refuerzo para intervenir cuando sea necesario. Permita que usen el material concreto si lo requieren. Se espera que reconozcan que las posibles combinaciones son 1 y 4, 2 y 3, 3 y 2, 4 y 1. Cuando terminen entregue las monedas a cada pareja para que verifiquen sus respuestas. En caso de error, procure que reconozcan por qué se equivocaron.

Luego plantee a todo el curso el siguiente desafío: “Josefa compró un chicle por \$40 y le dieron vuelto, ¿qué monedas usó? ¿Cuáles recibió de vuelto?, considerando que le queda una moneda en su monedero?”.

Se espera que reconozcan que, si le dieron vuelto, entonces pagó con una moneda de mayor valor que \$40, que podría ser de \$50, de \$100 o de \$500. Están descartadas las monedas de \$100 y de \$500, ya que en ambos casos recibirían más de 1 moneda de vuelto. Por tanto, Josefa pagó con una moneda de \$50.

Capítulo 2. Pensando cómo calcular

🕒 11 horas pedagógicas.

Visión general

En este capítulo, los estudiantes se enfrentan al cálculo de sumas y restas de dos números de dos cifras. Recurren a los conocimientos de que disponen del sistema de numeración para utilizar la técnica de descomposición aditiva.

Objetivos del capítulo

OA9: Demostrar que comprende la adición y sustracción en el ámbito del 0 al 100.

Aprendizajes previos

- Contar colecciones hasta 100.
- Componer y descomponer números.
- Sumar y restar usando números entre 0 y 20.

Actitud

Manifiestar curiosidad e interés por el aprendizaje de las matemáticas.

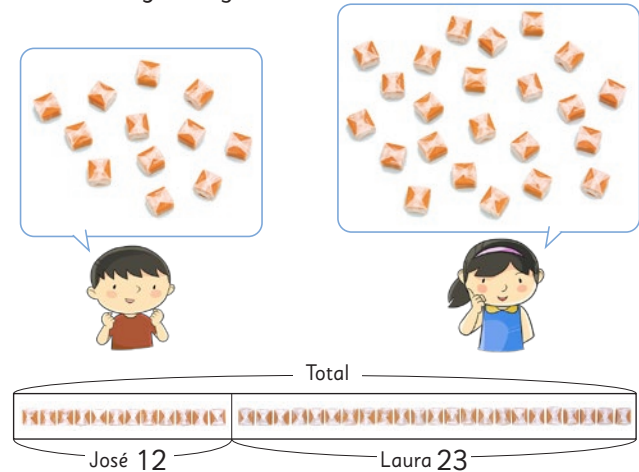
2

Pensando cómo calcular

Sumar

- 1 José tiene 12 calugas, y Laura tiene 23 calugas.

¿Cuántas calugas hay en total?



- a) Escribe una expresión para encontrar el total de calugas.

$$12 + 23$$

- b) ¿Cuántas calugas hay en total?

Hay 35 calugas en total.

🤖 ¿Qué aprendí? • Ticket de salida página 28 • Tomo 1

28

2 P. 28 | TE | Pensando cómo calcular

Planificación 🕒 20 minutos

Recursos

Fichas, cubos, bloques base 10.

Propósito

Que los estudiantes representen una situación asociada a la acción de juntar que involucra una suma de dos números de dos cifras.

Habilidad

Representar.

Gestión

Proyete el enunciado del problema o preséntelo en un cartel y pida a los niños que lo representen, usando material concreto (fichas, bloques base 10, cubos u otros materiales). Después de dar un tiempo, haga una puesta en común para compartir las maneras que han elegido para representar los datos del problema.

En la próxima página se analiza algunas representaciones del problema que podrían realizar los estudiantes.


Consideraciones didácticas

El objetivo de esta actividad no es que resuelvan el problema, sino que representen las cantidades involucradas para que esto les ayude posteriormente a construir una estrategia para realizar el cálculo de sumas de números de dos cifras.


Se espera que representen las cantidades mediante grupos de 10, como lo estudiaron en el capítulo de números hasta 100.

🤖 ¿Qué aprendí? ticket de salida página 28 • Tomo 1

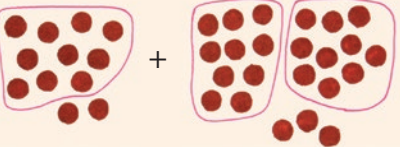
La idea de Ana




Yo formé grupos de 10 calugas.



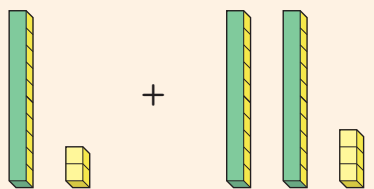
La idea de Diego




Yo usé ● para representar las calugas y formé grupos de 10.



La idea de Paula



Yo usé bloques.



- a) ¿Qué tienen en común sus ideas?
b) Pensemos cómo calcular.

 ¿Qué aprendí? • Ticket de salida página 29 • Tomo 1
 Material didáctico

29

Consideraciones didácticas

Más adelante profundizarán en el aprendizaje de las representaciones en la resolución de problemas, particularmente en el uso de modelos de barras para representar la acción de juntar dos cantidades. Como la intención de esta actividad es centrarse en el aprendizaje de los cálculos para sumar, es muy importante que representen las cantidades usando la estructura decimal; es decir, mediante agrupaciones de 10, que se asocian a la descomposición de los números. $23 = 20 + 3$. En este caso, lo más conveniente es usar los bloques base 10, ya que las barras de 10 cubitos vienen dadas.

Recursos

Fichas, cubos, bloques base 10.

Propósito

Que los estudiantes representen una situación asociada a la acción de juntar que involucra una suma de dos números de dos cifras.

Habilidad

Representar.

Gestión

Pídales que observen la página anterior y ésta para analizar las distintas maneras de representar el problema y las comparen con las que ellos usaron.

En la página anterior, analizan el modelo que relaciona las cantidades de calugas. Cabe notar que las calugas de José y Laura aparecen juntas y lo que deben averiguar es el total. Para ello, establecen que el cálculo $12 + 23$ permite hacerlo.

En esta página, pídale que analicen cada una de las ideas expuestas para representar el problema.

Ana forma cada cantidad de calugas en grupos de 10 separadas con el signo más.

Diego usa fichas para representar cada cantidad de calugas en grupos de 10 (encierra grupos de 10). Separa cada cantidad con el signo más.

Paula hace lo mismo que Ana y Juan, pero usa bloques base 10 para representar las calugas.

Pregunte: ¿Qué tienen en común estas ideas? (en cada caso forman grupos de 10; en cada caso usan el signo "más"). ¿Qué diferencias hay? (Ana no encierra los grupos de 10; en el caso de Paula es más fácil identificar los grupos de 10, etc.)

Finalmente, invítelos a pensar cómo calcular $12 + 23$ sin recurrir al material concreto.

Recursos

Material concreto (fichas, bloques base 10, cubos u otros materiales).

Propósito

Que los estudiantes calculen sumas de dos números de dos cifras, utilizando la técnica de descomposición.

Habilidad

Argumentar y comunicar.

Gestión

En esta clase, los estudiantes abordan el cálculo $12 + 23$ sin material concreto. Una vez que hacen el cálculo, pida a algunos niños que expliquen cómo lo hicieron.

Considerando las representaciones analizadas anteriormente, se espera que usen la técnica de descomposición aditiva; es decir:

$$10 + 20 = 30; 2 + 3 = 5; 30 + 5 = 35$$

Si usan otras técnicas menos eficaces (representar con rayitas y luego contarlas todas o contar hacia adelante a partir de 23), no invalide estos procedimientos, pero permita que reconozcan que esas técnicas son frágiles y costosas con relación a la técnica de descomposición. Concluyen que hay 35 calugas en total.

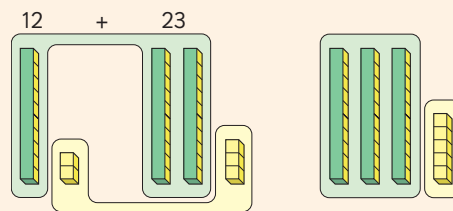
Luego pida que abran el texto en la página correspondiente para que analicen la técnica de José y de Laura y completen los espacios señalados.

La técnica de José permite comprender la técnica de descomposición, ya que se juntan las barras de 10 ($10 + 20$) y los cubos sueltos ($2 + 3$). Es importante que comprendan que, cuando suman $1 + 2$, en realidad están sumando $10 + 20$.

La técnica de Laura es la misma que la de José, solo que coloca las cantidades una debajo de la otra, cuidando de ubicar en una misma columna los grupos de 10 y los cubitos sueltos. Esta manera de organizar los cubitos corresponde a la forma de uso del algoritmo convencional.



La idea de José

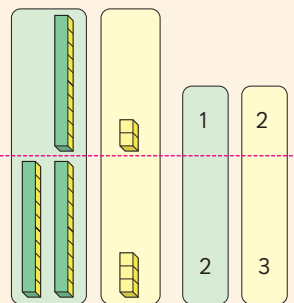


3 barras de 10
y 5 cubos dan 35.

$$\begin{array}{r} 3 \\ 12 + 23 = 35 \\ 5 \end{array}$$



La idea de Laura



Es más fácil contar si ubicas los cubos verticalmente uno debajo del otro.

3 grupos de 10 y
5 cubos dan 35.




$$12 + 23 = 35$$



Puedo contar los grupos de 10 como 1 y 2.

Puedo contar los cubos sueltos como 2 y 3.






 Cuaderno de Actividades páginas 13 y 14 • Tomo 1
 ¿Qué aprendí? • Ticket de salida página 30 • Tomo 1
 Material didáctico

30

Consideraciones didácticas

Esta es la primera vez que se enfrentan a un cálculo de sumas de dos números de dos cifras. La mayoría de las técnicas estudiadas en 1° básico se hacen complejas para abordar este tipo de cálculo; por tanto, se requerirá de usar una más eficaz: la técnica de descomposición aditiva. Es decir, cada número se expresa como una suma, donde esta suma se asocia a la descomposición de un número de acuerdo con su estructura decimal. Una vez que se descompone cada número, se suman en forma separada los múltiplos de 10 y los dígitos. Luego, ambos resultados se suman.

 Cuaderno de Actividades páginas 13 y 14 • Tomo 1
 ¿Qué aprendí? ticket de salida página 30 • Tomo 1
 Material didáctico



Recursos

Material concreto (fichas, bloques base 10, cubos u otros materiales).

Propósito

Que los estudiantes representen una situación asociada a la acción de quitar que involucra una resta de dos números de dos cifras.

Habilidad

Representar.

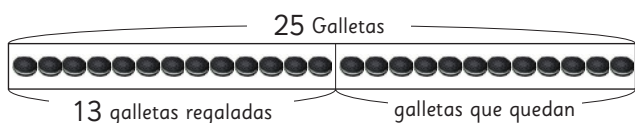
Gestión

Proyete el enunciado del problema o preséntelo en un cartel, pida a los niños que trabajen en parejas y que lo representen con material concreto (fichas, bloques base 10, cubos u otros materiales). Después de dar un tiempo, haga una puesta en común para compartir las maneras que han usado para representar los datos del problema. Luego pida que abran su texto, comparen su representación con la del texto, escriban la expresión matemática y respondan la pregunta.

En la próxima página se analiza algunas posibles representaciones del problema.

1 Elena hizo 25 galletas. Le dio 13 a Carlos.

¿Cuántas galletas quedan?



a) Escribe una expresión para encontrar el número de galletas que quedan.

$25 - 13$

Usa diagramas y fichas.



b) ¿Cuántas galletas quedan?

Quedan 12 galletas.

Consideraciones didácticas

Igual que en el problema anterior, el objetivo de esta actividad no es que resuelvan el problema, sino que representen las cantidades involucradas para que esto les ayude posteriormente a construir una estrategia para realizar el cálculo de restas de números de dos cifras.

Se espera que representen las cantidades mediante grupos de 10, como lo estudiaron en el capítulo de números hasta 100.

Recursos

Material concreto (fichas, bloques base 10, cubos u otros materiales).

Propósito

Que los estudiantes calculen restas de dos números de dos cifras, utilizando la técnica de descomposición.

Habilidad

Argumentar y comunicar.

Gestión

En esta clase, los estudiantes abordan el cálculo $25 - 13$ sin material concreto. Una vez que hacen el cálculo, pida a algunos niños que expliquen cómo lo hicieron.

Considerando las representaciones analizadas anteriormente, se espera que usen la técnica de descomposición aditiva, es decir:

$$20 - 10 = 10, 5 - 3 = 2, 10 + 2 = 12$$

Si usan otras técnicas menos eficaces (representar con rayitas y luego contarlas todas o contar hacia atrás a partir de 25), no invalide estos procedimientos, pero permita que reconozcan que esas técnicas son frágiles y costosas con relación a la técnica de descomposición. Concluyen que quedan 12 galletas.

Luego pida que abran el texto en la página correspondiente para que analicen las técnicas de Ana, Diego y Paula.

Ana representa las 25 galletas y luego quita 13.

Diego usa fichas para representar cada cantidad de galletas en grupos de 10 (encierra grupos de 10). Luego quita 13 (1 grupo de 10 fichas y 3 fichas sueltas).

Paula hace lo mismo que Diego, pero usa bloques base 10 para representar las galletas.

Pregunte: ¿Qué tienen en común estas ideas? (en los tres casos usan material concreto para representar la cantidad de galletas). ¿Qué diferencias hay? (Ana no encierra los grupos de 10; en el caso de Diego y Paula se identifican los grupos de 10, etc.)

Finalmente, invítelos a pensar cómo calcular $25 - 12$ sin recurrir al material concreto.

La idea de Ana

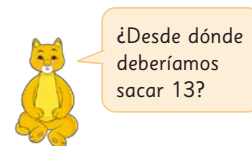
Representé las galletas y luego quité 13.

La idea de Diego

Usé ● como galletas e hice grupos de 10. Luego quité 13.

La idea de Paula

Yo usé cubos.



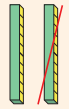
Material didáctico

Consideraciones didácticas

Más adelante profundizarán en el aprendizaje de las representaciones en la resolución de problemas, particularmente en el uso de modelos de barras para representar la acción de quitar una cantidad a una colección de objetos. Como la intención de esta actividad es centrarse en el aprendizaje de los cálculos para restar, es muy importante que representen la cantidad de galletas usando grupos de 10. En este caso, a diferencia del problema anterior, asociado a la acción de juntar, no se representa las dos cantidades, sino sólo una, a la cual se le quitará una cantidad.

Planificación  90 minutosTE  75 minutosCA  15 minutos

La idea de José



Descomponer 25 en

 20 y 5 .

Descomponer 13 en

 10 y 3 .

$$20 - 10 = 10$$

$$5 - 3 = 2$$

 10 y 2 da 12 .

Los bloques que se restan ...



$$\begin{array}{r} 1 \\ 25 - 13 = 12 \\ 2 \end{array}$$



La idea de Laura

Hay 2 grupos de 10 .Si le sacas 1 , queda 10 .A 5 le quitas 3 y quedan 2 ,por lo que la diferencia es 12 .

$$25 - 13 = 12$$

$$2 - 1 = 1$$

$$5 - 3 = 2$$

Ella lo calculó usando valor posicional.

Cuaderno de Actividades página 15 • Tomo 1
¿Qué aprendí? • Ticket de salida página 33 • Tomo 1

33

Consideraciones didácticas

Esta es la primera vez que se enfrentan a un cálculo de restas de dos números de dos cifras. Al igual que en la suma, la mayoría de las técnicas aprendidas en 1° básico se hacen complejas para abordar este tipo de cálculo; por tanto, se requerirá usar la técnica de descomposición aditiva. Es decir, cada número se descompone, luego se resta en forma separada los múltiplos de 10 y dígitos. Se suma ambos resultados.

Esta técnica de descomposición es la que permite justificar el funcionamiento del algoritmo convencional.

Recursos

Material concreto (fichas, bloques base 10, cubos u otros materiales).

Propósito

Que los estudiantes calculen restas de dos números de dos cifras utilizando la técnica de descomposición.

Habilidad

Argumentar y comunicar.

Gestión

Luego de que calculen $25 - 13$, pida a algunos que expliquen cómo lo hicieron.

Considerando las representaciones analizadas anteriormente, se espera que apliquen la técnica de descomposición aditiva, es decir:

$$20 - 10 = 10; 5 - 3 = 2; 10 + 2 = 12$$

Si usan otras técnicas menos eficaces (representar con rayitas, quitar algunas y luego contar las que quedan o contar hacia atrás a partir de 25), no invalide estos procedimientos, pero permita reconocer que esas técnicas son frágiles y costosas con relación a la técnica de descomposición. Concluyen que quedan 12 galletas.

Luego pida que abran el texto en la página correspondiente para que analicen la técnica de José y de Laura y completen los espacios señalados.

La técnica de José permite comprender la técnica de descomposición, ya que se junta las barras de 10 ($10 + 20$) y los cubos sueltos ($2 + 3$). Es importante que los niños comprendan que, cuando suman $1 + 2$, en realidad están sumando $10 + 20$.

La técnica de Laura es la misma que la de José, solo que coloca las cantidades una debajo de la otra, cuidando de ubicar en una misma columna los grupos de 10 y los cubitos sueltos. Esta manera de organizar los cubitos corresponde a la forma de uso del algoritmo convencional.



Cuaderno de Actividades página 15 • Tomo 1



¿Qué aprendí? ticket de salida página 33 • Tomo 1

Recursos

Material concreto (fichas, bloques base 10, cubos u otros materiales).

Propósito

Que los estudiantes calculen restas de dos números de dos cifras, utilizando la técnica de descomposición.

Habilidad

Argumentar y comunicar.

Gestión

En esta clase, los estudiantes abordan el cálculo $28 - 12$ sin material concreto. Una vez que hacen el cálculo, pida a algunos niños que expliquen cómo lo hicieron.

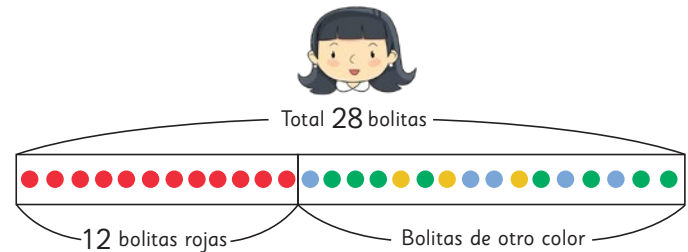
Considerando las representaciones analizadas anteriormente, se espera que usen la técnica de descomposición aditiva, es decir:

$$20 - 10 = 10, 8 - 2 = 6, 10 + 6 = 16$$

Si usan otras técnicas menos eficaces (representar con rayitas y luego contarlas todas o contar hacia atrás a partir de 28), no invalide estos procedimientos, pero permita que reconozcan que esas técnicas son frágiles y costosas con relación a la técnica de descomposición. Concluyen que quedan 16 bolitas de otro color.

2 Paula tiene 28 bolitas. Le regala a Ricardo 12 bolitas rojas.

¿Cuántas bolitas de otro color quedan?



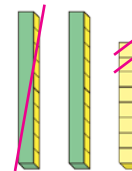
a) Escribe una expresión para encontrar el número de bolitas de otro color que tiene Paula.

$$28 - 12$$

b) ¿Cuántas bolitas de otro color quedan?

Quedan 16 bolitas de otro color.

c) Explica tu solución usando cubos.



Tengo que sacar 12 cubos.

¿Tengo que sacar o agregar?



Consideraciones didácticas

Transitar entre diferentes representaciones permite construir una comprensión profunda de los conceptos; en este caso, una resta con números de dos cifras. De esta manera, el estudiante desarrolla conocimientos (restar) y habilidades (representar) de orden superior, que en esta página incluye:

- Comprobar un resultado
- Transferir conocimientos
- Relacionar representaciones para un mismo modelo

Recursos

Fichas de varios colores y material base 10.

Propósito

Que los estudiantes resuelven un problema asociado a la acción de complementar y a la acción de quitar para representar una resta.

Habilidad

Resolver problemas/ modelar.

Gestión

Presente la actividad 3 y pida que algunos estudiantes relacionen la situación de Pablo y su hermana. Invítelos a representar la actividad con alguna de las representaciones aprendidas en las páginas anteriores. Otorgue tiempo para que elaboren una. Luego invítelos a compartirlas.

Enfatice que hay más que una representación y pida que abran el texto para conocer qué usó Pablo para resolver el problema. Pida que la expliquen y pregunte: ¿Qué expresión tenemos que escribir para encontrar el número de lápices que le quedan a Pablo después de regalar algunos a su hermana? ($27 - 15 = 12$). La respuesta para b) es que quedan 12 lápices.

Finalmente, desafíelos usar en c) la representación pictórica con barras y cubos para comprobar y explicar la expresión $27 - 15 = 12$.

- 3 Pablo tiene 27 lápices de colores en su estuche. Le regala 15 lápices de colores a su hermana. ¿Cuántos lápices le quedan?



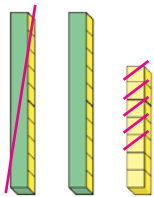
- a) Escribe una expresión para encontrar el número de lápices de colores que le quedan a Pablo.

$$27 - 15$$

- b) ¿Cuántos lápices quedan?

Le quedan 12 lápices.

- c) Explica tu solución usando cubos.



Tengo que sacar 15 cubos.

Consideraciones didácticas

Transitar entre diferentes representaciones permite construir una comprensión profunda de los conceptos; en este caso, una resta con números de dos cifras. De esta manera, el estudiante desarrolla conocimientos (restar) y habilidades (representar) de orden superior, que en esta página incluye:

- Comprobar un resultado
- Transferir conocimientos
- Relacionar representaciones para un mismo modelo

Capítulo 3. La hora y el tiempo

🕒 11 horas pedagógicas.

Visión general

En este capítulo, los estudiantes continúan el aprendizaje de la magnitud tiempo. Aprenderán a leer la hora en relojes digitales, interpretarán información del entorno y resolverán problemas simples asociados a la medición y comparación de la duración de eventos.

Objetivos del capítulo

OA18: Leer horas y medias horas en relojes digitales, en el contexto de la resolución de problemas.

Aprendizajes previos

- Medir el tiempo usando medidas no estandarizadas.
- Contar hasta 30
- Sumar y restar múltiplos de 10.

Actitud

Demostrar una actitud de esfuerzo y perseverancia.

3 P. 36 | TE | La hora y el tiempo

Planificación 🕒 45 minutos

Recursos

Reloj digital.

Propósito

Que los estudiantes dimensionen la duración de intervalos de tiempo (1 minuto y media hora).

Habilidad

Representar / resolver problemas.

Gestión

Invite a los niños a observar la secuencia de imágenes y que describan lo que observan; procure que indiquen la hora para cada acción. Destaque que el primer número indica las horas y los otros indican los minutos. Coloque un reloj digital en un lugar visible por todos y póngalo a las 9:00, que es la hora en que llegaron a la estación de trenes.

3

La hora y el tiempo

▶▶ Todos juntos nos fuimos de excursión.



Hora a la que salimos del colegio.



Hora a la que llegamos a la estación de trenes.

Hora y tiempo

1 Digamos las horas de (A), (B), (C), (D) y (E).

	9 en punto
	9 y media
	10 en punto
	10 y media
	11 en punto

Ahora se usa relojes digitales.



¿Qué aprendí? · Ticket de salida página 36 · Tomo 1

36

Pida que pongan atención en la duración de tiempo, en que va cambiando los números que indican las horas y los que indican los minutos. Explique que, por ejemplo, que el reloj de las 9:00, muestra las 9 con 0 minutos o las 9 en punto. El reloj de las 9:30, muestra las 9 con 30 minutos o 9 y media. Cuando los minutos indican 30, significa que han pasado 30 minutos o media hora.

¿Qué aprendí? ticket de salida página 36 · Tomo 1



Hora a la que salió el tren.



Hora a la que el tren llegó a su estación de destino.



Hora a la que comenzamos la excursión.

3 ¿Cuánto tiempo viajaron en el tren?



Viajaron 30 minutos o media hora en el tren.

Una hora tiene 60 minutos.
Media hora tiene 30 minutos.

30 minutos = media hora.

60 minutos = 1 hora.

Calculemos el tiempo.



4 ¿Cuánto tiempo pasó desde que salieron del colegio y comenzaron la excursión?

Pasaron 2 horas desde que salieron del colegio y comenzaron la excursión. 🤔 ¿Qué aprendí? • Ticket de salida página 37 • Tomo 1

37

Recursos

Reloj digital.

Propósito

Que los estudiantes dimensionen la duración de eventos de 1 hora y media hora.

Habilidad

Representar / resolver problemas.

Gestión

Presente el problema de la actividad 3: ¿Cuántos minutos viajaron en el tren? Dé un tiempo para que lo resuelvan de manera autónoma y luego compartan sus respuestas y procedimientos. Se espera que reconozcan que, para contestar la pregunta, deben saber la hora a la que partió el tren y la hora a la que llegó a la estación de destino; así, deben calcular cuánto tiempo ha pasado entre las 10:00 y las 10:30. Podrían dar argumentos como: ambos relojes muestran las 10, el primero muestra las 10 con 0 minutos y el segundo las 10 con 30 minutos; por tanto, han pasado 30 minutos, que es lo que duró el viaje.

Para responder la actividad 4, pueden contar de hora en hora; así, desde las 9:00 a las 10:00 ha pasado 1 hora y de las 10:00 a las 11:00 ha pasado otra hora (2 horas en total).

Planificación ⌚ 45 minutos

Recursos

Reloj de cartón para cada pareja de niños.

Propósito

Que los estudiantes lean horas en relojes digitales y reconozcan que existe un formato de 12 y 24 horas para designar el tiempo.


Habilidad

Representar.

Gestión

Invítelos a observar y analizar la línea de tiempo que está en la parte superior de las páginas 38 y 39 del texto. Incentíuelos a identifiquen en qué parte de ella se indica el día de ayer, el día de hoy y el día de mañana. Entregue un reloj de cartón a cada pareja y pida que pongan el minutero y el horario en las 12. Pregunte: ¿A qué hora terminó el día de ayer? (a las 12 horas) ¿A qué hora comenzó el día de hoy? (a las 0 horas). Explique que un día termina a las 12:00 e inmediatamente comienza otro día a las 00:00 horas. Pida que pongan atención en el reloj análogo que se muestra sobre este punto de la línea de tiempo. Pregunte: A las 00:00 horas, o sea, cuando comienza el día, ¿hay luz de sol? (no, está de noche). Pida que describan qué sucede a medida que avanzan las horas del día, moviendo la manilla larga de su reloj, hasta llegar a las 12 horas (hasta las 6 está de noche, después comienza a salir el sol y a las 12 es mediodía y hay mucha luz de sol, el reloj nuevamente llega a las 12). Pida que sigan describiendo lo que sucede en la línea del tiempo y simultáneamente muevan la manilla de su reloj (hay luz hasta las 19 horas, a las 20 horas comienza a esconderse el sol hasta llegar a las 24 horas, en que es medianoche y nuevamente la manilla del reloj llega a las 12). Destaque, mostrando la tabla naranja, que las horas de la mañana van de las 00:00 hasta las 12:00 y las de la tarde/noche desde las 12:00 a las 24:00.

Pida que completen la tabla verde de manera autónoma.



Las horas del día

1 1 día tiene 24 horas. Leamos la hora.

Mañana	Tarde (después de las 12:00)
1:00	13:00
2:00	14:00
3:00	15:00
4:00	16:00
5:00	17:00
6:00	18:00
7:00	19:00
8:00	20:00
9:00	21:00
10:00	22:00
11:00	23:00
12:00	24:00

Usa el diagrama con las horas para contestar.



Reloj digital que muestra	Tarde o mañana
20:00	tarde
09:30	mañana
06:30	mañana
16:00	tarde
11:00	mañana
23:00	tarde

Consideraciones didácticas

Es importante que comprendan que, en el reloj de manillas, las horas transcurren desde las 12 de la noche hasta las 12 del día, porque solo tiene 12 números. En cambio, el reloj digital puede marcar más números, por lo que después de las 12:00 continúan avanzando, hasta las 13:00, 14:00, etc.

Es importante que tomen conciencia de la cantidad de horas que dura un día y el tiempo que se dedica aproximadamente a realizar ciertas acciones; por ejemplo, de las 24 horas del día, hay que dormir aproximadamente 9 horas, cerca de 6 horas se está en colegio estudiando, cerca de una hora se destina a almorzar, etc.

Planificación 🕒 45 minutos

Recursos

Reloj de cartón para cada pareja de niños.

Propósito

Que lean horas en relojes digitales y reconozcan que existe un formato de 12 y 24 horas para designar el tiempo.

Habilidad

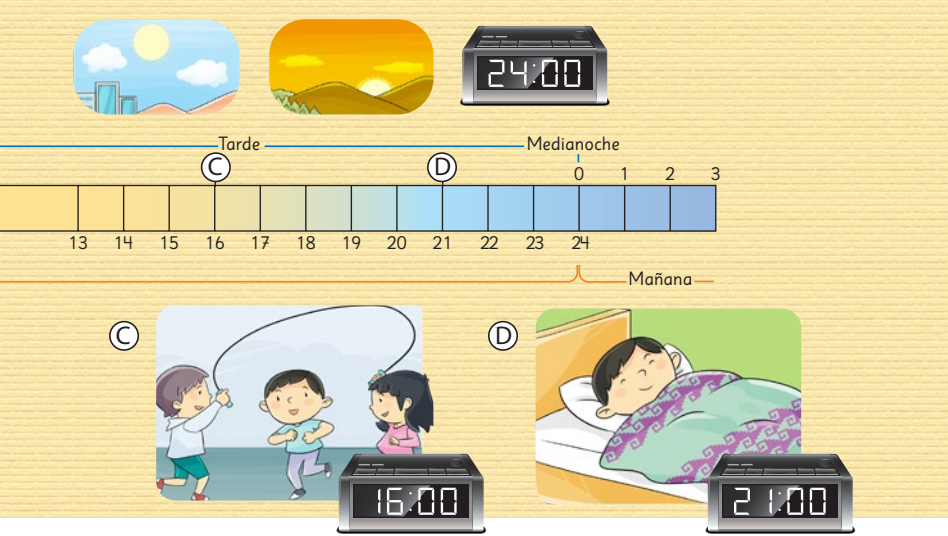
Representar.

Gestión

Invítelos a los niños a observar las ilustraciones A, B, C y D, que describan qué hacen en cada una de ellas y que lean la hora en que se realiza cada acción. Pregunte: ¿Ustedes hacen lo mismo a esas horas?

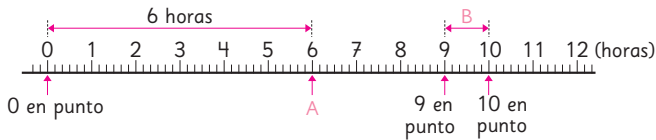
En la actividad 2, se espera que reconozcan que son horas de la tarde, porque las 16:00 y las 21:00 vienen después de las 12:00 horas.

En la actividad 3, invítelos a observar que entre las 0 y las 6 horas transcurren 6 horas y pídale que lo comprueben contando en el diagrama. Luego, entre las 9 y las 10, transcurre 1 hora. Para responder la pregunta a), deben saber que la medianoche es las 0 horas; por tanto, 6 horas después de la medianoche serán las 6:00.



2 Indica si la hora en los relojes C y D es en la mañana o tarde. **Las horas de los relojes C y D son de la tarde.**

3 Mira el diagrama y completa.



- a) 6 horas después de la medianoche. 6:00
- b) Tiempo transcurrido entre las 9 y las 10 en punto de la mañana. 1:00

🧐 ¿Qué aprendí? • Ticket de salida página 39 • Tomo 1

Evaluación formativa

Plantee las siguientes preguntas para evaluar lo aprendido. Si tengo que tomar un remedio cada 12 horas y lo tomé a las 12:00 del día, cuando lo vuelva a tomar, ¿estará de día o de noche? ¿A qué hora lo tengo que volver a tomar?

También me tengo que tomar otro remedio, pero cada 8 horas y lo tomé a las 12:00 del día; cuando lo vuelva a tomar, ¿estará de día o de noche? ¿A qué hora lo tengo que volver a tomar? ¿De cuántas maneras puedo decir esa hora? (a las 8:00 o 20:00 horas).

Planificación  45 minutos

TE  30 minutos

CA  15 minutos

Propósito

Que los estudiantes resuelvan problemas simples asociados a la duración de eventos.

Habilidad

Resolver problemas.

Gestión

En la actividad 4, resuelven las preguntas junto con el docente y pueden recurrir a la línea de tiempo de la página anterior para verificar sus respuestas.

En la actividad 5, deben explicar qué significa la palabra tiempo y la palabra hora en cada una de las afirmaciones que hacen los personajes. Se espera que reconozcan que las horas o minutos son unidades que permiten medir el tiempo o la duración de acciones o eventos. Pida que repitan esa oración varias veces y que aporten ejemplos de su quehacer día a día. Procure que anoten la definición en su cuaderno y que dibujen un ejemplo.


Al final de la hora, pida que completen la última actividad. En la actividad 6, escriben la hora de cada una de las acciones realizadas por el personaje.

Evaluación Formativa





Plantee las siguientes preguntas para evaluar lo aprendido: Si entro al colegio a las 8:00 de la mañana y llegué 1 hora atrasado, ¿a qué hora llegué? Y si un día llegué 1 hora antes, ¿a qué hora llegué? Si estoy 6 horas en el colegio, ¿a qué hora salgo? ¿Cómo lo sabes?

4 Responde.

Usa el diagrama para responder.



- a) ¿Qué hora es 3 horas después de las 15:00 en punto de la tarde? **18:00 horas.** 
- b) ¿Qué hora es 2 horas antes de las 14:00 horas? **12:00 horas.**
- c) ¿Qué hora es 1 hora después de las 22 horas? **23:00 horas.**

5 Completa usando las palabras “hora” y “tiempo”.

Jugué de 9 a 10 de la mañana, entonces jugué durante 1 <u>hora</u> .	El <u>tiempo</u> se puede medir en horas.	Mi hermana vino a la <u>hora</u> que prometió juntarse conmigo.	El bus partió a la <u>hora</u> exacta programada.
a) 	b) 	c) 	d) 

6 Escribe la hora en el reloj digital.

A las 7:30 de la mañana me fui al colegio.	A las 12:30 de la tarde almorcé en el colegio.	Estudí hasta las 14:30 de la tarde.	Me acosté a las 10:00 de la noche.
 7 : 30	 12 : 30	 14 : 30	 10 : 00

 Cuaderno de Actividades página 18 • Tomo 1
 ¿Qué aprendí? • Ticket de salida página 40 • Tomo 1



Propósito

Que los estudiantes lean horas presentadas en una situación contextualizada.

Habilidad

Representar.

Gestión

Pida a los niños que abran la página del texto. Pregunte: ¿Qué información hay? (boletas) ¿Qué información entregan esas boletas? (lo que se pagó por productos y el valor total a pagar) ¿Qué indica lo que está enmarcado en rojo? (la hora en que se hizo cada compra).

¿Qué compras se hizo en la tarde? (hay tres compras que se hacen en la tarde: a las 3 y media, a las 4 y a las 4 y media), ¿Cuáles en la mañana? (hay una compra que se hace a las 11 de la mañana).

Pida que lean las horas descritas en las boletas y identificando que:

- Decir las 16 horas es equivalente a las 4 de la tarde, porque, cuando son las 12 del mediodía, si transcurre una hora más, se puede volver a contar de 1 en 1, partiendo de 1, las horas siguientes de la tarde. De igual forma, se puede seguir avanzando en la secuencia de 1 en 1 a partir de 12; es decir, 13, 14, 15, etc.
- Si el número que está a la derecha de los dos puntos es 30, indica que es media hora; es decir, la mitad de una hora. Por ejemplo, las 16:30 indica que es las "4 y media de la tarde".

Finalmente, en la actividad c), pídales que lean las horas señaladas y luego las copien en los espacios señalados.

7 Luis notó que en las boletas se muestra la hora.

- a) Leamos las horas impresas en cada boleta.
- b) ¿Cuándo se hizo la compra, en la mañana o en la tarde?

4:00 (4 de la tarde), 11:00 (11 de la mañana), 15:30 (3 y media de la tarde) y 16:30 (4 y media de la tarde).



se hizo una compra en la mañana y tres compras en la tarde.

La 1 en punto de la tarde es lo mismo que las 13 horas en punto.

c) Escribe las 3:30, las 15:30 y las 12:30.

3 : 30

15 : 30

12 : 30

Consideraciones didácticas

Es importante que vayan memorizando paulatinamente la asociación que se da en las horas de la tarde:

- 1 de la tarde = 13 horas
- 2 de la tarde = 14 horas etc.

En el caso de la boleta que señala 4:00, se espera que reconozcan que no puede ser las 4 de la mañana, ya que a esa hora no está abierto el comercio. Así, el contexto ayuda a reconocer si la hora corresponde a la mañana o la tarde/noche.

Propósito

Que los estudiantes ejerciten lo aprendido en el capítulo.

Habilidad

Representar/resolver problemas.

Gestión

Estos ejercicios recopilan los temas estudiados hasta el momento. Por esto, se recomienda evaluar formativamente a los niños y, si es necesario, retomar los temas estudiados.

Permita que desarrollen los ejercicios de manera autónoma. En la actividad 1, deben completar los recuadros con algunas ideas importantes referidas a la medición del tiempo.

En la actividad 2, se les pide que observen el reloj, lean la hora indicada y luego respondan las preguntas.

En la sección “¿Lo recuerdas?”, se les pide que realicen las actividades para evaluar el dominio de las sumas de dígitos y la resolución de un problema asociado a la acción de juntar, conocimientos necesarios para iniciar el capítulo 4, “Suma vertical”.

Ejercicios 

- 1 Completa.
- 1 día = horas.
 - 60 minutos = hora.
 - Las 13 en punto es lo mismo que la de la tarde.
 - Mediodía es lo mismo que las en punto de la tarde.
 - 30 minutos = hora.

- 2 Mira el reloj y contesta.

- ¿Qué hora será en 30 minutos más?
9 : 30
- ¿Cuánto falta para las 10 en punto?
Falta 1 hora.



¿Lo recuerdas?

1. Resuelve.

a) $2 + 3 = 5$ b) $5 + 5 = 10$ c) $9 + 5 = 14$ d) $4 + 8 = 12$

2. Hay 7 tulipanes rojos y 6 tulipanes blancos.
¿Cuántos tulipanes hay en total?

Expresión:

Respuesta: tulipanes.

 ¿Qué aprendí? • Ticket de salida página 42 • Tomo 1

1 Marca con una X la opción que represente más tiempo.

a)

15 horas.

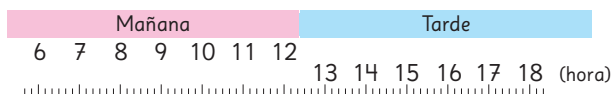
~~1 día.~~

b)

~~3 horas y media.~~

60 minutos.

2 Responde usando este diagrama.



- a) ¿Cuánto tiempo hay entre las 13 y 16 en punto de la tarde? **3 horas.**
- b) ¿Qué hora es 3 horas después de las 11 en punto de la mañana? **14:00 horas o 2 de la tarde.**
- c) ¿Qué hora es 2 horas antes de las 13 en punto de la tarde? **11:00 u 11 de la mañana.**
- d) ¿Cuánto tiempo hay entre las 9:30 y las 12:00 de la mañana? **2 horas y media.**

3 Pilar fue de compras con su mamá. Salieron a las 14:30, volvieron a las 16:00. ¿Cuánto tiempo estuvieron comprando?

14:30



16:00

Estuvieron comprando 1 hora y media.

 ¿Qué aprendí? • Ticket de salida página 43 • Tomo 1



Propósito

Que los estudiantes interpreten información y resuelvan problemas asociadas a la medición del tiempo.

Habilidad

Resolver problemas.

Gestión

Permita que desarrollen el ejercicio 1 de manera autónoma. En la actividad 1, se pide que marquen la medida que indica una mayor cantidad de tiempo. Se espera que, antes de comparar los números, se fijen en la unidad de medida mayor, en este caso, "un día"; por tanto, como no hay otra medida con esa unidad, es la que representa más tiempo.

Lean en conjunto las preguntas del ejercicio 2. Se pide que contesten una serie de preguntas, usando como referencia el diagrama con una escala de horas en la mañana y en la tarde. Todas las preguntas consideran horas enteras y medias horas, así que es probable que no usen unidades de tiempo menores. Incluso es posible que algunos no necesiten el diagrama para responder. En a), cuentan hacia adelante desde 13 (13, 14, 15, 16). Así, hay 3 horas entre las 13 y 16 horas. En b) cuentan hacia adelante desde 11 (11, 12, 13, 14). Así, después de 3 horas, son las 14 horas (2 de la tarde). En c) cuentan hacia atrás desde 13 (13, 12, 11) Así, hace 2 horas fueron las 11 de la mañana. En d) cuentan hacia adelante para completar una hora y luego de 1 hora en 1 hora (9:30, 10, 11, 12). Así, hay 2 horas y media entre las 9:30 y las 12 horas.

En la actividad 3, se cuenta el tiempo transcurrido de la misma manera que en la actividad 2d) (2:30, 3, 4). Así, transcurre 1 hora y media. Apoye a los alumnos que aún no han desarrollado su potencial de lectura.

Planificación ⌚ 90 minutos

TE ⌚ 75 minutos | **CA** ⌚ 15 minutos

Propósito

Que los estudiantes resuelvan problemas no rutinarios asociados a la medición del tiempo.

Habilidad

Resolver problemas.

Gestión

Pida que abran la página del texto y lean en conjunto el relato con las acciones que realizó Rodrigo después de salir del colegio. Un niño puede hacerlo en voz alta y el resto marca en el texto las partes en que aparezca alguna acción u duración de algún evento descritas con medidas de tiempo.

Luego se sugiere hacer algunas preguntas para orientar la comprensión de la situación descrita. Por ejemplo: ¿Rodrigo va en la mañana o en la tarde al colegio? ¿Se sabe a qué hora salió del colegio? ¿Qué hizo después de ir al colegio?

Dé un tiempo para que, en parejas, elaboren un esquema que les permita representar las acciones que hizo Rodrigo y su tiempo de duración.

Se recomienda usar el diagrama partiendo desde las 21 y retroceder de acuerdo a las acciones realizadas antes.

Situados a la 9 de la noche (21 horas), al retroceder media hora (20 +30 minutos), se puede identificar que a esa hora había terminado de jugar videojuegos. De igual forma, se puede decir que a las 8:30 comienza a preparar sus cosas para el día siguiente. Si retrocedemos media hora desde las 8:30, llegamos a las 8, momento en el cual terminó de ver TV (o comenzaba a jugar videojuegos). Si retrocedemos 1 hora, eran las 7 de la tarde. Y así sucesivamente.

Problemas 2

1 Rodrigo escribió en su diario lo que hizo después del colegio.

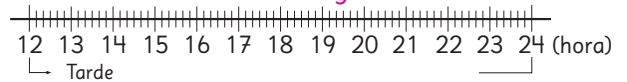
Después del colegio, visité a mi abuela.

Luego, cuando volví a casa, ya habían pasado dos horas desde que salí del colegio.

En mi casa, estudié 1 hora, ayudé a preparar la cena media hora, cené media hora, vi televisión 1 hora, jugué videojuegos media hora, y finalmente preparé mis cosas para el día siguiente por media hora. Cuando miré la hora, eran exactamente las 21 en punto.



- a) ¿A qué hora empezó a ver televisión Rodrigo?
Usa el diagrama. **Empezó a ver televisión a las 7 de la tarde.**
- b) ¿A qué hora salió Rodrigo del colegio? Usa el diagrama.
Salió del colegio a las 3 de la tarde.



📖 Cuaderno de Actividades página 19 • Tomo 1
 😊 ¿Qué aprendí? • Ticket de salida página 44 • Tomo 1

Propósito

Que los estudiantes analicen situaciones del entorno en las cuales se deba utilizar la suma de números.

Habilidad

Argumentar y comunicar.

Gestión

Díales que harán la actividad “¿Alguna vez lo has visto?”, y, pídeles que abran su texto en la página indicada. Pregunte: ¿Cuál es el precio de los dulces? ¿Les parecen caros o baratos? ¿Cuál dulce tiene mayor precio?

Si compran un paquete de “gusanos” y un paquete de “plátanos”, ¿cuánto dinero gastarán? ($40 + 35 = 75$, \$75).

Si un niño gastó \$80 en dos paquetes de dulces, ¿qué pudo haber comprado? (2 paquetes de “gusanos” o, un paquete de “plátanos” y “una ensalada de frutas”). ¿Qué puedes comprar si tienes \$50?

Realice preguntas para que reflexionen en relación con la utilidad de sumar números para resolver situaciones del entorno, en este caso, asociada a la compra de dulces.



¿Cuánto gastaré si compro tres dulces?



Capítulo 4. La suma vertical

🕒 15 horas pedagógicas.

Visión general

En este capítulo se estudia la suma de dos números de dos dígitos; en particular, el algoritmo convencional de la suma sin reserva. Para ello, se utiliza fundamentalmente la técnica de descomposición de los números utilizada en el capítulo 3. Así, se pretende que los niños comprendan los fundamentos del funcionamiento del algoritmo y reconozcan además cuándo conviene utilizarlo.

Objetivos del capítulo

OA8: Demostrar y explicar de manera concreta, pictórica y simbólica el efecto de sumar y restar 0 a un número.

OA9: Demostrar que comprende la adición y la sustracción en el ámbito del 0 al 100: > usando un lenguaje cotidiano y matemático para describir acciones desde su propia experiencia > resolviendo problemas con una variedad de representaciones concretas y pictóricas, de manera manual y/o usando software educativo > registrando el proceso en forma simbólica > aplicando los resultados de las adiciones y las sustracciones de los números del 0 a 20 sin realizar cálculos > aplicando el algoritmo de la adición y la sustracción sin considerar reserva > creando problemas matemáticos en contextos familiares y resolviéndolos.

Aprendizajes previos

- Sumar números de dos cifras usando la descomposición.
- Descomponer y componer números.

Actitud

Manifiestar una actitud positiva frente a sí mismo y sus capacidades.

4

La suma vertical

▶▶ ¡Vamos de paseo en bus!

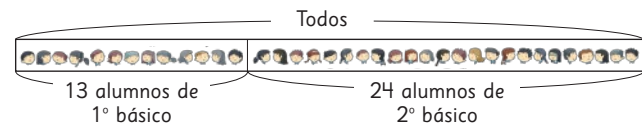


Sumar números de dos dígitos

1 Hay 13 alumnos de 1° básico y 24 alumnos de 2° básico que van juntos a un paseo en bus.

El bus puede llevar 40 pasajeros.

¿Pueden ir todos en el bus?



46

Gestión

Presente en un cartel el enunciado verbal del problema con la foto de los niños y pídale que lo resuelvan. Dé un tiempo para que exploren y luego haga una puesta en común para compartir los resultados y las formas de calcular la suma.

No debieran tener mayores dificultades para identificar que la suma es la operación que resuelve el problema, ni tampoco en el cálculo. Dé un tiempo para que exploren y luego haga una puesta en común para compartir los resultados y las formas de calcular la suma. Para el cálculo de la suma; puede que apliquen técnicas de descomposición.

4 P. 46 | TE | La suma vertical

Planificación 🕒 45 minutos

Propósito

Que los estudiantes calculen sumas de números de 2 dígitos.

Habilidad

Resolver problemas/argumentar y comunicar.



¿Cuántos alumnos de 1° y 2° básico hay en total?

- a) Escribe una expresión.

$$13 + 24$$

- b) Pensemos cómo calcular.



Si reemplazo el número de niños por cubos.

¿Y si usamos la descomposición?



47

Si usan otras técnicas menos eficaces (representar con palitos cada cantidad y luego contar los palitos o contar hacia adelante a partir de 24), no los invalide, pero permita que reconozcan que esas técnicas son frágiles y costosas con relación a la técnica de descomposición. Concluyen que pueden ir todos los niños sentados en el bus, ya que 37 es menor que 40. Quedan 3 asientos libres que los profesores pueden usar.

Consideraciones didácticas

Cabe notar que en la página 46 se presenta el total de niños del curso de 1° básico y en la página 47, el total de niños de 2° básico. Si estuvieran ambas cantidades en la misma página, podrían contar y el problema no sería de suma. Interesa que sumen; esto es, que manipulen los números para encontrar la respuesta al problema.

Propósito

Que los estudiantes calculen sumas de números de 2 dígitos.

Habilidad

Resolver problemas/argumentar y comunicar.

Gestión

Pídales que observen la página anterior y la actual para analizar el modelo que representa la situación y las cantidades de niños de 1° y 2° básico. ¿Es correcto que hay 13 alumnos en el curso de 1° básico? (sí) ¿Cómo lo saben? (contando) ¿Y en 2° básico? (los contamos y hay 24 niños).

Luego, pídales que resuelvan la actividad, escribiendo la expresión matemática; es decir, el cálculo que permite encontrar la cantidad de niños que van al paseo. $13 + 24$.

En b) permita que reflexionen acerca de la conveniencia de usar la técnica de los cubitos, que consiste en poner un cubito para cada niño y luego contar los cubitos. Contrástela con la técnica de descomposición que se espera que hayan usado mayoritariamente.

Planificación 90 minutos

TE 75 minutos **CA** 15 minutos

Recursos

Marcos de 10 y cubos.

Propósito

Que los estudiantes calculen sumas de números de 2 dígitos, usando el algoritmo convencional.

Habilidad

Resolver problemas/argumentar y comunicar.

Gestión

Indíqueles que, para calcular $13 + 24$, aprenderán a hacerlo en la forma vertical. Para ello, se ubica los números uno debajo del otro, poniendo en la misma columna las unidades y las decenas. Pídales que piensen cómo calcular la suma en forma vertical.

Luego de darles un tiempo para que expliquen sus estrategias, pida que abran su texto y analicen las técnicas usadas por los niños. ¿Se parecen a las estrategias usadas por ustedes?

Luego sistematice la forma vertical para sumar, destacando que en esta técnica “se esconde la descomposición”. Es decir, se usa la descomposición de cada número, pero no es necesario escribirla, ya que, al ubicar los dígitos en la posición respectiva, se conoce su valor.

Explique el funcionamiento de la técnica, usando material concreto. Se sugiere relacionar, paso a paso, las acciones que se efectúa con los cubos, con los cálculos que se realizan con el algoritmo:

1. Forme 13 y 24 cubitos agrupados de 10. Escriba la suma en forma vertical.
2. Junte los cubitos sueltos y pregunte: ¿Cuántos cubitos sueltos quedan? (7) ¿Qué número escribimos debajo del 4? (el 7).
3. Junte los grupos de 10 cubitos y pregunte: ¿Cuántos grupos de 10 cubitos quedan? (3) ¿Qué número escribimos debajo del 2? (el 3) ¿Cuánto vale el 3 en esa posición? (30).

Finalmente, pídale que realicen los ejercicios del Cuaderno de Actividades.

2 $13 + 24$ puede escribirse verticalmente, poniendo los números en las mismas columnas.

$$\begin{array}{r} 13 \\ +24 \\ \hline \end{array}$$

A esto se le llama forma vertical. Pensemos cómo calcular usando la forma vertical.

Elena

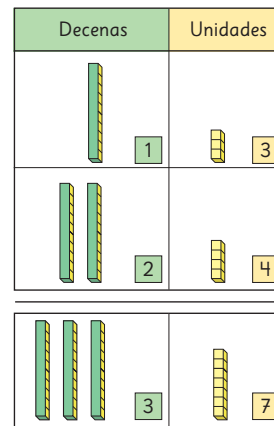
$$\begin{array}{r} 13 \\ +24 \\ \hline 30 \\ +07 \\ \hline 37 \end{array}$$

Mario

$$\begin{array}{r} 13 \\ +24 \\ \hline 7 \\ +30 \\ \hline 37 \end{array}$$

Josefa

$$\begin{array}{r} 13 \\ +24 \\ \hline 37 \end{array}$$



Cómo sumar $13+24$ usando la forma vertical

$$\begin{array}{r} 13 \\ +24 \\ \hline 37 \end{array}$$


$1 + 2 = 3$ $3 + 4 = 7$

Alinea los números de acuerdo a su valor posicional.

Suma los números en el lugar de las unidades, y los números en el lugar de las decenas.

Expresión: $13 + 24 = 37$

Respuesta: 37 personas.



Practica

Encontremos respuestas usando la forma vertical.

- a) $31 + 57 = 88$ c) $26 + 43 = 69$ e) $15 + 62 = 77$ g) $65 + 31 = 96$
 b) $18 + 40 = 58$ d) $32 + 20 = 52$ f) $50 + 36 = 86$ h) $20 + 70 = 90$

Cuaderno de Actividades página 20 • Tomo 1
 ¿Qué aprendí? • Ticket de salida página 48 • Tomo 1
 Material didáctico

Consideraciones didácticas

Cabe observar que todas las sumas que se estudia no tienen “reserva”. Esto permite que los niños hagan las restas de los dígitos de las unidades y decenas en forma directa. Por lo mismo, pueden comenzar por la posición de las decenas sin ningún problema.

En los ejercicios, todos los números tienen dos dígitos; por tanto, de momento no será problemático ubicar correctamente los dígitos en forma vertical. Esto se puede complicar más adelante, cuando tengan que sumar números de distinta cantidad de dígitos.

Cuaderno de Actividades página 20 • Tomo 1
 ¿Qué aprendí? ticket de salida página 48 • Tomo 1
 Material didáctico

Planificación ⌚ 90 minutos

TE ⌚ 75 minutos

CA ⌚ 15 minutos

Recursos

Marcos de 10 y cubos.

Propósito

Que los estudiantes calculen sumas de un número de 2 dígitos con uno de un dígito, usando el algoritmo convencional.

Habilidad

Resolver problemas/argumentar y comunicar.

Gestión

Presente a los niños las dos formas para calcular $2 + 41$ usando la forma vertical. Pídales que analicen quién da la respuesta correcta y cuál es el error. Antes de que identifiquen el error, se sugiere que valoren cerca de cuánto es $2 + 41$. Incluso puedan dar el resultado contando hacia adelante o descomponiendo. Así notarán que es imposible que, si se suma esos números, se obtenga 61, resultado que obtendría el niño al ubicar de esa manera los números.

Destaque que el 2 se debe ubicar en el lugar de las unidades. Se suma $2 + 1$ y se obtiene 3. Y luego, “se baja” el 4. Así, se obtiene 43.

Pídales que abran la página y analicen la explicación de cómo sumar los números, utilizando los cubitos para representar la situación. Luego realizan los ejercicios de la página 49.

Finalmente, pídales que realicen los ejercicios del Cuaderno de Actividades.

Evaluación formativa

Anote el ejercicio $60 + 3$ en la pizarra. Pídales que analicen la siguiente situación:

“Un niño hizo el cálculo $60 + 3$ con la forma vertical. Obtuvo 90. ¿Qué error pudo haber cometido?”

3 Pensemos cómo encontrar el resultado para $2 + 41$ usando la forma vertical.

a) ¿Cuál es la forma correcta de escribirlo?



$$\begin{array}{r} 2 \\ + 41 \\ \hline \end{array}$$


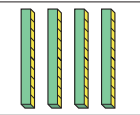

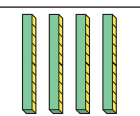

$$\begin{array}{r} 2 \\ + 41 \\ \hline \end{array}$$



¿Cuánto es $2 + 41$?



b) Usa la forma vertical para encontrar el resultado.

Decenas	Unidades
	
	
	

$$\begin{array}{r} 2 \\ + 41 \\ \hline 43 \end{array}$$



En la forma vertical, los dígitos con los mismos valores posicionales se escriben en las mismas columnas y luego se suman.

Practica

Encontremos los resultados usando la forma vertical.

a) $4 + 23 = 27$ b) $7 + 82 = 89$ c) $91 + 8 = 99$ d) $65 + 3 = 68$

 Cuaderno de Actividades página 21 • Tomo 1
 ¿Qué aprendí? • Ticket de salida página 49 • Tomo 1

49

Consideraciones didácticas

Una buena manera de ayudarlos a reconocer que han ubicado bien los dígitos es preguntarles por el valor de posición. Por ejemplo: en $2 + 41$, ¿cuánto vale el 4? (40) ¿y el 2? (2) ¿Los puedo ubicar en el mismo lugar? (no).

También se podría plantear el cálculo $20 + 41$ para que reconozcan que, en ese caso, se obtiene 61, ya que el valor del 2 es 20 y se suma con 40.

 Cuaderno de Actividades página 21 • Tomo 1

 ¿Qué aprendí? ticket de salida página 49 • Tomo 1

Recursos

Bloques base 10.

Propósito

Que los estudiantes profundicen en el aprendizaje de los cálculos de suma, usando el algoritmo convencional.

Habilidad

Resolver problemas.

Gestión

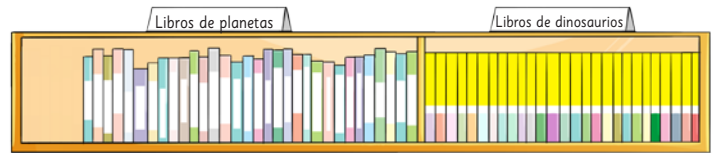
Proyete o presente en un cartel el enunciado verbal del problema y pídeles que lo resuelvan. Dé un tiempo para que aborden el problema y realicen el cálculo de la suma $32 + 27$. Luego haga una puesta en común para analizar el uso del algoritmo y la obtención de la respuesta al problema.

Para continuar, invítelos a abrir su texto, para que completen la expresión matemática y la respuesta al problema. Se sugiere solicitarles que expliquen el funcionamiento del algoritmo en relación con los bloques que hay en la imagen. Pregunte: ¿Quién puede decir lo mismo de otra forma? Luego pida a otro niño que verifique la respuesta del problema, apoyándose en la imagen.

Para calcular la actividad c), solicite que para comprobar el resultado, lo representen con el material concreto o con un dibujo (de manera pictórica) en su cuaderno.

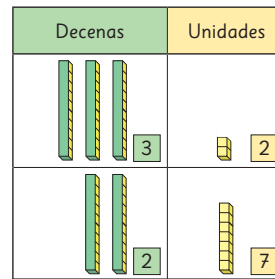
4 Hay 32 libros de planetas y 27 libros de dinosaurios en la biblioteca de Ernesto.


¿Cuántos libros hay en total?

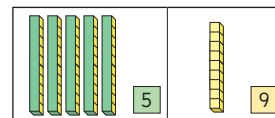


a) Escribe una expresión. $32 + 27$

b) Pensemos cómo calcular.




Suma unidades con unidades y decenas con decenas. 



Expresión: $32 + 27 = 59$
Respuesta: 59 libros.

c) Pensemos cómo sumar, usando la forma vertical.

	3	2
+	2	7
	5	9

¿Por cuál lugar deberíamos empezar? 

¿Qué aprendí? • Ticket de salida página 50 • Tomo 1

Consideraciones didácticas

Se espera que usen el algoritmo convencional de la suma. Se recomienda que usen los bloques base 10 para comprobar el resultado.

Planificación ⌚ 45 minutos**TE** ⌚ 30 minutos**CA** ⌚ 15 minutos**Recursos**

Bloques base 10.

Propósito

Que los estudiantes profundicen en el aprendizaje de los cálculos de suma, usando el algoritmo convencional.

Habilidad

Representar.

Gestión


El propósito del ejercicio 5 es que ejerciten las sumas de números de dos cifras, usando el algoritmo. Permita que lo resuelvan de manera autónoma y luego, en una puesta en común, compartan resultados y el desarrollo de la técnica.

En la actividad 6, se espera que evalúen el procedimiento que se presenta para sumar. En el caso de la suma b), pueden reconocer que el resultado de suma no es razonable y que el error se produjo porque el 3 no se registró correctamente.

En la sección de ejercicios, se espera que no tengan mayores dificultades para realizar correctamente todos los cálculos, en caso de tenerlas, puede recurrir a los bloques base 10 para comprender cómo funciona el algoritmo.

- 5 Encuentra el resultado para $14 + 23$, usando la forma vertical.

1	4
+	2 3
3	7




- 6 Comprueba que estos ejercicios estén correctos. Si hay error, corrígelos.

a) $27 + 62$

2	7
+	6 2
8	9



+	




b) $56 + 3$

5	6
+	3
8	9



5	6
+	3
5	9




c) $46 + 10$

4	6
+	1 0
5	0



4	6
+	1 0
5	6



Practica

Encontremos el resultado, usando la forma vertical.

a) $28 + 10 = 38$ c) $53 + 36 = 89$ e) $42 + 36 = 78$ g) $23 + 14 = 37$

b) $40 + 27 = 67$ d) $15 + 54 = 69$ f) $11 + 78 = 89$ h) $45 + 13 = 58$

📖 Cuaderno de Actividades página 22 • Tomo 1

😊 ¿Qué aprendí? • Ticket de salida página 51 • Tomo 1

51

Consideraciones didácticas

Los niños pueden hacer las sumas en forma mental, sin necesidad del algoritmo convencional. Por ejemplo: para el cálculo $28 + 10$, pueden decir que el resultado es 38, evocando una descomposición del 38. Por esto, se sugiere incentivarlos a que los niños analicen la relación entre los números para decidir qué técnica usar.

📖 Cuaderno de Actividades página 22 • Tomo 1

😊 ¿Qué aprendí? ticket de salida página 51 • Tomo 1

Planificación ⌚ 45 minutos

TE ⌚ 30 minutos CA ⌚ 15 minutos

Propósito

Que los estudiantes ejerciten el cálculo de sumas "sin reserva", usando el algoritmo convencional.

Habilidad

Resolver problemas.

Gestión

El propósito de esta página es que ejerciten las sumas de números de dos cifras, usando el algoritmo. En algunos casos, se suman números de un dígito con uno de dos, para que identifiquen cómo se ubican en columnas.

Dado el trabajo que se ha realizado hasta ahora, se espera que no tengan mayores dificultades para realizar correctamente todos los cálculos.

Si prefiere, puede dar los cálculos sin el libro y pedirles después que los completen en el texto, para observar si los hacen correctamente y analizar las dificultades que aún puedan tener.


Luego, en la sección ejercitación, realizan nuevamente cálculos de sumas. Es posible que luego de entender cómo funciona la técnica, realicen todos los cálculos en forma mental. Si todavía algunos necesitan usar el material concreto, permítalo, pues cuando se sientan seguro lo dejarán. Considerar las diferencias individuales ayuda a que todos aprendan.

7 ¿Cómo podemos encontrar la respuesta para $24 + 53$, usando la forma vertical?

	2	4
+	5	3
	7	7

8 ¿Cómo podemos encontrar el resultado para $35 + 2$, usando la forma vertical?


	3	5
+		2
	3	7




¿Dónde deberíamos escribir el 2?


9 ¿Cómo podemos encontrar el resultado para $5 + 23$, usando la forma vertical?

		5
+	2	3
	2	8



10 ¿Cómo podemos encontrar el resultado para $50 + 17$, usando la forma vertical?

	5	0
+	1	7
	6	7



Practica

Encontremos el resultado, usando la forma vertical.

- a) $72 + 7 = 79$ c) $32 + 45 = 77$ e) $13 + 24 = 37$ g) $30 + 17 = 47$
 b) $52 + 6 = 58$ d) $74 + 2 = 76$ f) $6 + 83 = 89$ h) $4 + 14 = 18$

Cuaderno de Actividades página 23 • Tomo 1

¿Qué aprendí? • Ticket de salida página 52 • Tomo 1

Consideraciones didácticas

Como se ha señalado anteriormente, para que dominen adecuadamente el algoritmo convencional de la suma, es necesario que conozcan de memoria las sumas de dígitos (cuyo resultado no sea superior a 10). Es decir, no se espera que sumen, haciendo rayitas o usando material concreto, por ejemplo: para calcular $5 + 4$. Por ende se recomienda realizar rutinas clase a clase para que memoricen estas sumas.

Cuaderno de Actividades página 23 • Tomo 1

¿Qué aprendí? ticket de salida página 52 • Tomo 1

Ejercicios



Planificación 🕒 45 minutos

TE 🕒 30 minutos

CA 🕒 15 minutos

1 Encontremos el resultado, usando la forma vertical.

a) $84 + 15 = 99$ d) $23 + 60 = 83$ g) $31 + 42 = 73$ j) $76 + 11 = 87$

b) $36 + 2 = 38$ e) $14 + 15 = 29$ h) $23 + 63 = 86$ k) $45 + 34 = 79$

c) $71 + 18 = 89$ f) $8 + 41 = 49$ i) $56 + 3 = 59$ l) $4 + 25 = 29$

2 Mauricio tiene 7 bolitas y Fabián 12.

Sé cuidadoso al calcular.



¿Cuántas bolitas tienen entre los dos?

Tienen 19 bolitas entre los dos.

3 Andrés recogió 17 flores y Alicia 22.
¿Cuántas flores recogieron entre los dos?



Recogieron 39 flores entre los dos.

4 Martín tenía 52 cartas. Su amigo le dio 7 más.
¿Cuántas cartas tiene en total?

Tiene 59 cartas en total.

Recursos

Marcos de 10 y cubos.

Propósito

Que los estudiantes calculen sumas de un número de 2 dígitos con uno de uno o dos dígitos, usando el algoritmo convencional.

Habilidad

Resolver problemas/argumentar y comunicar.

Gestión

En la actividad 1, se espera que los niños usen el algoritmo convencional, pero puedan hacer los cálculos en forma mental. Para ello, recurren en forma implícita a la descomposición de los números. Por ejemplo: para calcular $84 + 15$, suman $80 + 10$, obteniendo 90, luego suman $4 + 5$, obteniendo 9 y luego suman los resultados y obteniendo 99.

En las actividades 2, 3 y 4, se presentan problemas que involucran el tipo de cálculos estudiados.

Asegúrese de que identifiquen el cálculo que resuelve cada problema e incentive que respondan la pregunta de cada problema. Si es necesario, lean los enunciados de las actividades 2, 3 y 4 en conjunto y de manera sucesiva.

Planificación ⌚ 45 minutos

TE ⌚ 35 minutos | **CA** ⌚ 10 minutos

Propósito

Que los estudiante ejerciten el cálculo de sumas “sin reserva” usando el algoritmo convencional.

Habilidad

Resolver problemas.

Gestión

El propósito de esta página es reforzar el cálculo de sumas de números de dos cifras, usando el algoritmo.

Presente en un cartel el enunciado verbal del problema y pídale que lo resuelvan. Dé un tiempo para que exploren y luego haga una puesta en común para compartir los resultados y la respuesta al problema.

Posteriormente, pídale que abran la página del texto, revisen la técnica mostrada y la comparen con la que ellos usaron.

Se recomienda pedir a un niño que explique qué relación hay entre los cubos y el funcionamiento de la forma vertical.

Destaque que los cubos permiten entender cómo opera la técnica vertical, pero eso no quiere decir que tengan que sumar con cubos.

Luego, en la sección ejercitación, pídale que hagan nuevamente cálculos de sumas. Es posible que, después de entender cómo funciona la técnica, algunos estudiantes realicen todos los cálculos en forma mental.

Más sumas

1 Los niños prepararon una fiesta. Ayer hicieron 74 anillos de papel y hoy 23. ¿Cuántos anillos hicieron en total?



- a) Escribe una expresión. $74 + 23$
- b) Pensemos cómo calcular.
- c) Expliquemos cómo sumar, usando la forma vertical.

Decenas	Unidades

$$\begin{array}{r} 74 \\ + 23 \\ \hline 97 \end{array}$$

↓

$$\begin{array}{r} 74 \\ + 23 \\ \hline 97 \end{array}$$

Practica

Encontremos los resultados usando la forma vertical.

- a) $93 + 6 = 99$ b) $13 + 71 = 84$ c) $67 + 20 = 87$ d) $20 + 80 = 100$

Cuaderno de Actividades página 25 • Tomo 1

¿Qué aprendí? • Ticket de salida página 54 • Tomo 1

Consideraciones didácticas

Como se señaló anteriormente, los cubos son un medio para que entiendan cómo funciona la forma vertical (algoritmo convencional), pero no se espera que las realicen con cubos, rayitas u otro material concreto.

Si pueden hacer los cálculos mentalmente y explicar cómo lo hacen, no es necesario obligarlos a que usen la forma vertical.

Cuaderno de Actividades página 25 • Tomo 1

¿Qué aprendí? ticket de salida página 54 • Tomo 1

Planificación ⌚ 45 minutos**TE** ⌚ 35 minutos**CA** ⌚ 10 minutos**Recursos**

Cartulina, plumones, bloques base 10.

Propósito

Que los estudiantes profundicen en el aprendizaje de los cálculos de sumas, usando el algoritmo convencional.

Habilidad

Argumentar y comunicar.





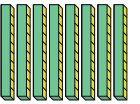

Gestión

Entregue una suma a cada pareja de niños, cartulina, plumones y los bloques. Cada pareja debe explicar a sus compañeros cada uno de los pasos del algoritmo, usando los cubos. Invítelos a observar la actividad 2 del texto, para tener una referencia.

La actividad 3 y los ejercicios que siguen, permiten evaluar formativamente lo aprendido.


Para evaluar el dominio de la forma vertical, puede pedirles que formen sumas que den un número dado, por ejemplo: encontrar cuatro sumas que den 68.

2 Expliquemos cómo sumar $42 + 47$, usando la forma vertical.

Decenas	Unidades
	
	
	

$$\begin{array}{r} 42 \\ + 47 \\ \hline 89 \end{array}$$

3 Pensemos cómo sumar $34 + 53$, usando la forma vertical.

$$\begin{array}{r} 34 \\ + 53 \\ \hline 87 \end{array}$$


Si es necesario, utiliza una tabla de valor posicional.

**Practica**

Encontremos los resultados, usando la forma vertical.

- a) $35 + 62 = 97$ c) $88 + 11 = 99$ e) $31 + 64 = 95$ g) $55 + 24 = 79$
 b) $36 + 43 = 79$ d) $15 + 84 = 99$ f) $58 + 31 = 89$ h) $6 + 93 = 99$

 Cuaderno de Actividades página 26 • Tomo 1
 ¿Qué aprendí? • Ticket de salida página 55 • Tomo 1

55

Consideraciones didácticas

Incentívelos a analizar si el resultado obtenido en una suma es razonable, por ejemplo: $6 + 93$ no podría ser 153, ya que 93 más un número menor que 10 no puede ser mayor que 100.



Cuaderno de Actividades página 26 • Tomo 1

¿Qué aprendí? ticket de salida página 55 • Tomo 1

Propósito

Que los estudiantes analicen situaciones de agregar para reconocer la propiedad conmutativa de la suma.

Habilidad

Resolver problemas/argumentar y comunicar.

Gestión

En esta página estudian la propiedad conmutativa mediante una situación asociada a la acción de agregar. No interesa que reconozcan el nombre de esta propiedad, sino que identifiquen que la cantidad total no varía si a una primera cantidad se agrega una segunda, o a la segunda se agrega la primera. Presente los dos problemas y pídales que escriban el cálculo que permite encontrar la respuesta y luego las comparen.

No debieran tener mayores dificultades para encontrar la respuesta. En el primer caso, calculan $32 + 16$, obteniendo 48 de resultado. Así, si a las frutillas que hay en la caja se le agregan las que hay en el canasto, quedan 48 frutillas. De la misma manera, en el segundo caso, si a las frutillas del canasto se le agregan las de la caja, calculan $16 + 32$, obteniendo también 48.

Es posible que argumenten que queda la misma cantidad sin necesidad de hacer nuevamente el cálculo.

Luego pida que abran la página del texto, analicen la información, completen con números los espacios señalados y luego lean y escriban en su cuaderno la idea destacada.

Evaluación formativa

Pídales que hagan los siguientes cálculos en forma mental:

a) $60 + 5$ b) $8 + 70$ c) $30 + 7$ d) $6 + 90$

Pregunte: ¿En qué cálculos se demoran más? ¿Por qué? ¿Cómo conviene hacer los cálculos?

Reglas de la suma

1 Hay 32 frutillas en una caja y 16 frutillas en un canasto.



a) ¿Cuántas frutillas hay en total?

$$\begin{array}{|c|} \hline 32 \\ \hline \end{array} + \begin{array}{|c|} \hline 16 \\ \hline \end{array} = \begin{array}{|c|} \hline 48 \\ \hline \end{array}$$

suma



b) Pongamos las frutillas de la caja en el canasto.

$$\begin{array}{|c|} \hline 16 \\ \hline \end{array} + \begin{array}{|c|} \hline 32 \\ \hline \end{array} = \begin{array}{|c|} \hline 48 \\ \hline \end{array}$$

suma



Si intercambiamos los números de lugar, obtenemos el mismo resultado

$$32 + 16 = 16 + 32$$

Las sumas dan el mismo resultado, así que podemos conectarlas con “=”.

**Consideraciones didácticas**

No es necesario pedirles que escriban o digan el nombre de esta propiedad, ni menos que escriban la igualdad asociada. Esta propiedad fundamenta el uso de diversas técnicas de cálculo de sumas; en particular, es útil cuando se usa en el conteo. Por ejemplo: para calcular $3 + 48$, conviene calcular $48 + 3$, ya que así se parte del 48 y se avanza 3; al revés sería más complejo.

Planificación 🕒 90 minutos**TE** 🕒 75 minutos**CA** 🕒 15 minutos

2 Calculemos las sumas e intercambiamos los números para revisar los resultados.

a) $24 + 31 = 55$ b) $42 + 16 = 58$ c) $50 + 38 = 88$ d) $7 + 70 = 77$

3 Sumemos $32 + 7 + 3$.



La idea de Paula

Yo sumé $7 + 3$ y me dio 10 .
Luego sumé $10 + 32$.

$$\begin{array}{r} 10 \\ + 32 \\ \hline 42 \end{array}$$



La idea de José

Yo sumé $7 + 3$ y me dio 10 .
Luego sumé $32 + 10$.

$$\begin{array}{r} 32 \\ + 10 \\ \hline 42 \end{array}$$



En la suma, puedes cambiar el orden del cálculo.

$$(32 + 7) + 3 = 32 + (7 + 3)$$

Practica

Calculemos como Paula y José.

a) $45 + 8 + 2 = 55$

c) $6 + 23 + 4 = 33$

b) $3 + 7 + 58 = 68$

d) $55 + 5 + 5 = 65$

¿Cuál de los dos números deberías sumar primero para calcular de manera más simple?



📖 Cuaderno de Actividades página 27 • Tomo 1
😊 ¿Qué aprendí? • Ticket de salida página 57 • Tomo 1

57

Consideraciones didácticas

No es necesario pedirles que escriban o digan el nombre de esta propiedad, asociativa, ni menos que escriban la igualdad asociada. Esta propiedad fundamenta el uso de diversas técnicas de cálculo de sumas; en particular, es la que permite sumar descomponiendo. Por ejemplo: para calcular $25 + 9$:

$$25 + 9 = 25 + (5+4) = (25 + 5) + 4 = 30 + 4 = 34.$$

Propósito

Que los estudiantes sumen tres números, aplicando la propiedad asociativa.

Habilidad

Resolver problemas/argumentar y comunicar.

Gestión

En la actividad 2, se pide calcular las sumas, cambiando el orden de los sumandos para verificar que se obtiene el mismo resultado.

En la actividad 3, se plantea la suma de tres números y se les pide que encuentren el resultado. Después de darles un tiempo, se hace una puesta en común para que comuniquen, justifiquen y analicen las distintas estrategias.

Luego, pida que abran la página del texto y analicen las técnicas usadas por los niños: ¿Cómo lo hace Paula? (suma en el orden en que aparecen los números) ¿Cómo lo hace José? (primero suma 7 con 3 y obtiene 10. Luego, a 10 le suma 32) ¿Se puede calcular de otra forma? (sí, primero se puede sumar $32 + 3$ y se obtiene 35 y luego, a 35 se le suma 7 y se obtiene 42).

Destaque que llegan al mismo resultado en cada caso. Es decir, para sumar tres números, se puede sumar en cualquier orden. Lo importante es identificar la manera más simple de sumar para facilitar los cálculos.

Luego pídale que realicen los ejercicios, identificando las parejas de números que, al sumarlos, facilitan los cálculos.

Finalmente, pídale que hagan los ejercicios del Cuaderno de Actividades.



Cuaderno de Actividades página 27 • Tomo 1



¿Qué aprendí? ticket de salida página 57 • Tomo 1

Propósito

Que los estudiantes sumen tres números, aplicando la propiedad asociativa.

Habilidad

Resolver problemas/argumentar y comunicar.

Gestión

El propósito de esta página es reforzar el cálculo de sumas de números de dos cifras, usando el algoritmo. Resuelva la actividad 1 con ellos y pídale a uno que explique el procedimiento. La actividad 2 se trabaja en forma individual en el cuaderno, usando el algoritmo o cálculo mental; cada niño decide cómo resolverlo. Después comprueban entre todos los resultados. Asegúrese de que todos tengan las actividades con sus resultados correctos anotados en el cuaderno.

Pídeles que resuelvan la actividad 3 en parejas y que usen un cálculo más fácil. Otórgeles suficiente tiempo para que puedan descubrir que la suma de dos de los números da como resultado 10 y que a este resultado se debe sumar el tercer sumando. Luego explique los tres ejercicios con ayuda de los niños. Pregunte: ¿Qué sumaron primero? ¿Por qué? ¿Cómo obtuvieron el resultado? ¿Por qué se llama "calcular de manera más fácil"?

Ejercicios

- 1 Sumemos $63 + 22$, usando la forma vertical.

	6	3	
+	2	2	
	8	5	

- 2 Calculemos, usando la forma vertical.

a) $36 + 32 = 68$ d) $43 + 34 = 77$ g) $2 + 53 = 55$ j) $40 + 47 = 87$

b) $32 + 25 = 57$ e) $51 + 18 = 69$ h) $33 + 56 = 89$ i) $15 + 43 = 58$

c) $10 + 9 = 19$ f) $45 + 4 = 49$ j) $8 + 41 = 49$ l) $4 + 74 = 78$

- 3 Calculemos de manera más fácil.

a) $56 + 8 + 2 = 66$ b) $4 + 37 + 6 = 47$ c) $7 + 3 + 54 = 64$

¿Lo recuerdas?

Resuelve:

a) $8 - 5 = 3$ b) $10 - 9 = 1$ c) $14 - 8 = 6$ d) $12 - 3 = 9$

Había 13 pájaros en un árbol. Si 5 volaron, ¿cuántos quedaron?

Expresión: Respuesta: pájaros.

¿Qué aprendí? · Ticket de salida página 58 · Tomo 1

Consideraciones didácticas

Es importante, que resuelvan las actividades en forma autónoma. El docente debe verificar que todos tengan resultados correctos en sus cuadernos.

Problemas 1

P. 59 | TE | La suma vertical

4

Planificación ⌚ 45 minutos

TE ⌚ 30 minutos

CA ⌚ 15 minutos

1 Resuelve usando la forma vertical.

a) $14 + 63 = 77$ d) $45 + 24 = 69$ g) $30 + 56 = 86$ l) $40 + 39 = 79$

b) $32 + 47 = 79$ e) $10 + 65 = 75$ h) $22 + 15 = 37$ m) $53 + 16 = 69$

c) $32 + 51 = 83$ j) $17 + 70 = 87$ i) $60 + 38 = 98$ n) $28 + 61 = 89$

2 En el colegio de Francisca hay dos cursos en segundo básico. Hay 31 niños en 2°A y 28 niños en 2°B. ¿Cuántos niños en total hay en 2° básico?



Hay 59 niños en 2° Básico.

3 Si compras chicles a \$ 80 y autoadhesivos a \$ 30 y solamente tienes \$ 100, ¿cuánto dinero te falta?



Me faltan \$ 10.

4 Encuentra el error. Corrígelo.

a) $27 + 42 = 59$ es ~~59~~ 69

c) $6 + 35 = 95$ es ~~95~~ 41

b) $57 + 20 = 70$ es ~~70~~ 77

d) $80 + 6 = 86$ es ~~86~~ 86

📖 Cuaderno de Actividades página 28 • Tomo 1

59

Propósito

Que los estudiantes ejerciten el cálculo y la resolución de problemas de sumas.

Habilidad

Resolver problemas/argumentar y comunicar.

Gestión

Permita que desarrollen los ejercicios de manera autónoma. En la actividad 1, se pide que calculen usando la forma vertical. Monitoree el trabajo para asegurarse de que todos lo utilicen en forma correcta. Se sugiere incentivar que, antes de efectuar los cálculos, intenten hacerlos en forma mental.

En la actividad 2 y 3, resuelven problemas que involucran sumas y restas de números de dos dígitos.

En la actividad 4, se les pide que identifiquen y luego corrijan los errores que se ha cometido en los cálculos de sumas.

Planifique una manera de asegurar que los alumnos tengan resultados correctos en su texto y/o cuaderno.

Se sugiere, por ejemplo, invitarlos a autoevaluarse. Para eso, el docente debe colgar varias copias con los resultados, en este caso de la página 59, en la sala. El estudiante va con su cuaderno o libro hacia una de las copias para controlar sus resultados, los chequea y vuelve a sentarse. Si tuvo errores, los debe corregir.

📖 Cuaderno de Actividades página 28 • Tomo 1

Planificación ⌚ 45 minutos**TE** ⌚ 25 minutos **CA** ⌚ 20 minutos**Propósito**

Que los estudiantes resuelven problemas aditivos de comparación no rutinarios.

Habilidad

Resolver problemas/argumentar y comunicar.

Gestión

Presénteles el problema, asegurándose de que comprendan la situación involucrada. Esto es:

1. Carolina hace garzas con papel.
2. Los hace el viernes, el sábado y el domingo.
3. Cada día hace más garzas que el anterior.
4. El viernes hizo 24 garzas.

Pídales que encuentren la cantidad de garzas que hizo el sábado. Cuando concuerden en cuántas garzas hace el sábado, pídales que encuentren la cantidad de garzas que hace el domingo.

Finalmente, plantee la situación referida a identificar qué está buscando Carolina con el cálculo $31 + 13$. Se espera que concluyan la cantidad de garzas que hace el domingo y el sábado.

Problemas 2

- 1 Carolina hizo garzas de papel el viernes, sábado y domingo.

Viernes	Sábado	Domingo
Hoy yo hice 24 garzas de papel.	Hoy hice 31 garzas más que ayer.	Hoy hice 13 garzas más que ayer.
		

Si sabemos que Carolina hizo 24 garzas el día viernes, contesta las siguientes preguntas.

- a) ¿Cuántas garzas hizo el sábado?
El sábado hizo 55 garzas.
- b) ¿Cuántas garzas hizo el domingo?
El domingo hizo 68 garzas.

- 2 Carolina escribió la siguiente expresión.

$$31 + 13$$

¿Qué está tratando de averiguar Carolina? Explica.

Carolina está tratando de averiguar la cantidad de garzas adicionales que hizo entre el domingo y el viernes (que es lo mismo que $68 - 24$).

📖 Cuaderno de Actividades página 29 • Tomo 1

🗳️ ¿Qué aprendí? • Ticket de salida página 60 • Tomo 1

📖 Cuaderno de Actividades página 29 • Tomo 1

🗳️ ¿Qué aprendí? ticket de salida página 60 • Tomo 1



La resta de números de dos dígitos

- 1 Emilio y sus amigos recogieron 38 frutillas. Se comieron 12. ¿Cuántas quedan?



- a) Escribe una expresión
- b) Pensemos cómo restar con la forma vertical, tal como en la suma.

	3	8
-	1	2
	2	6

61

Gestión

Presente en un cartel el enunciado verbal del problema con la foto de los niños y pídale que lo resuelvan. Pregunte: ¿Qué cálculo tenemos que hacer? ¿Quién puede decir la expresión que representa la situación? ¿Cómo resolvemos el cálculo? Dé un tiempo para que exploren y luego haga una puesta en común para compartir los resultados y las formas de calcular la resta.

No debieran tener mayores dificultades para identificar que la resta es la operación que resuelve el problema, ni tampoco en el cálculo. Para calcular $38-12$, es posible que realicen las siguientes dos técnicas:

1. Descomposición. $30 - 10 = 20$; $8 - 2 = 6$; $20 + 6 = 26$.
2. Resta vertical.

Asegúrese de que, una vez concordado el resultado de la resta, respondan la pregunta del problema.

Capítulo 5. La resta en forma vertical 11 horas pedagógicas.

Visión general

En este capítulo se estudia el algoritmo convencional de la resta de dos números de dos cifras, sin reagrupación. Para ello, transfieren los aprendizajes desarrollados en el capítulo de sumas en forma vertical. Interesa que los niños comprendan el funcionamiento de esta técnica y discriminen cuándo usarla.

Objetivos del capítulo

OA8: Demostrar y explicar de manera concreta, pictórica y simbólica el efecto de sumar y restar 0 a un número.

OA9: Demostrar que comprende la adición y la sustracción en el ámbito del 0 al 100.

OA10: Demostrar que comprende la relación entre la adición y la sustracción al usar la “familia de operaciones” en cálculos aritméticos y la resolución de problemas.

Aprendizajes previos

- Sumar números de dos cifras en forma vertical.
- Sumar y restar usando descomposición.
- Sumar y restar dígitos.

Actitud

Manifiestar una actitud positiva frente a sí mismo y sus capacidades.

P. 61 | TE | La resta en forma vertical

5

Planificación  45 minutos

Recursos

Bloques base 10.

Propósito

Que los estudiantes calculen restas de números de hasta 2 dígitos.

Habilidad

Resolver problemas/argumentar y comunicar.

Recursos

Bloques base 10.

Propósito

Que los estudiantes calculen restas de números de hasta 2 dígitos, usando el algoritmo convencional.

Habilidad

Resolver problemas/argumentar y comunicar.

Gestión

En la primera parte de esta página, se sistematiza y justifica la “forma vertical” para restar números, usando material concreto. Se sugiere relacionar, paso a paso, las acciones que se efectúan con los cubos, con los cálculos que se hacen con el algoritmo:

1. Forme 38 cubitos agrupados de 10. Escriba la resta en forma vertical.

2. Saque 2 cubitos y pregunte: ¿Cuántos cubitos sueltos quedan? (6) ¿Qué número escribimos debajo del 2? (el 6)

3. Saque un grupo de 10 cubitos y pregunte: ¿Cuántos cubitos quedan? (20) ¿Cuántos grupos de 10 quedan? (2) ¿Qué número escribimos debajo del 1? (el 2) ¿Cuánto vale el 2 en esa posición? (20).

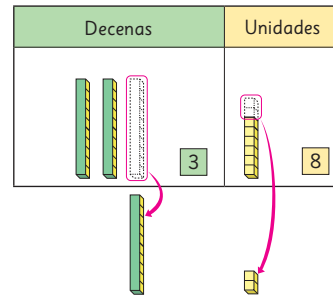
Posteriormente, solicite que realicen las restas de las actividades 2 y 3.

En los ejercicios siguientes, los propios niños deben ubicar los dígitos para restar en forma vertical.

Evaluación formativa

Pídales que analicen la siguiente situación:

“Un niño hizo el cálculo 67-7 con la forma vertical. Obtuvo 6. ¿Qué error pudo haber cometido?”.



Cómo restar 38-12 usando la forma vertical

38	→	38
- 12		- 12
-----		-----
26		26

$3 - 1 = 2$
 $8 - 2 = 6$

Escribe los números en cada columna.
 Resta los números en la misma columna.

2 Restar 29 - 6, usando la forma vertical.

29
- 6

23

3 Pensemos cómo encontrar los resultados, usando la forma vertical.

a) 34 - 14

34
- 14

20

b) 68 - 64

68
- 64

4

c) 48 - 8

48
- 8

40

Practica

Encontremos las respuestas, usando la forma vertical.

a) 76 - 32 = 44

d) 59 - 45 = 14

g) 36 - 24 = 12

b) 56 - 40 = 16

e) 58 - 5 = 53

h) 98 - 18 = 80

c) 43 - 42 = 1

f) 30 - 20 = 10

i) 45 - 5 = 40

¿Qué aprendí? • Ticket de salida página 62 • Tomo 1
Material didáctico

Consideraciones didácticas

Cabe observar que todas las restas que se estudian no tienen “reserva”. Esto permite que hagan las restas de los dígitos de las unidades y decenas en forma directa. Por lo mismo, pueden comenzar por la posición de las decenas sin ningún problema.

También pueden hacer las restas en forma mental, sin necesidad del algoritmo convencional. Por ejemplo: para el cálculo 45-5, pueden decir que el resultado es 40 por cómo se forma el número 45. Por esto, se sugiere incentivar que analicen la relación entre los números para decidir qué técnica usar.

¿Qué aprendí? ticket de salida página 62 • Tomo 1
Material didáctico

Planificación  45 minutos

TE  30 minutos

CA  15 minutos

Recursos

Bloques base 10.

Propósito

Que los estudiantes profundicen en el aprendizaje de los cálculos de restas, usando el algoritmo convencional.

Habilidad

Resolver problemas.

Gestión

Proyecte o presente en un cartel el enunciado verbal del problema 4 (sin la imagen de las láminas) y pídale que lo resuelvan. Pregúnteles: ¿Qué cálculo debemos hacer? Después de usar 24 láminas, ¿quedan menos o más láminas en el álbum? ¿Qué expresión se debe escribir? Otorgue un tiempo para que aborden el problema y realicen el cálculo de la resta. Luego haga una puesta en común para analizar el uso del algoritmo y la obtención de la respuesta.

Para continuar, invítelos a abrir el libro en la página 63 para que completen la expresión matemática y la respuesta al problema. Se sugiere solicitar a un niño que explique cómo funciona el algoritmo en relación con los bloques que se observan en la imagen. Pregunte: ¿Qué nos muestran las dos imágenes con los cubos? Luego pida a otro niño que verifique la respuesta del problema, apoyándose en las láminas de la imagen.

Después pídale que calculen las restas de los ejercicios 5 y 6.


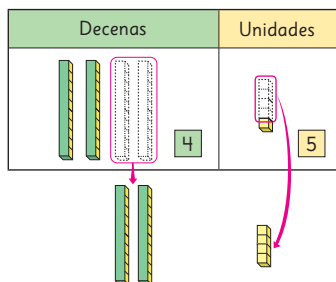
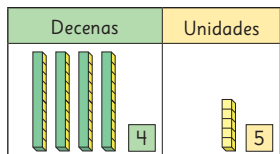
Para verificar que todos los cálculos estén correctos, pida a un par de estudiantes que hagan los cálculos en la pizarra. Escoja a quienes lo hicieron correctamente en su libro o cuaderno. Luego pregunte: ¿Por qué en el ejercicio a) hay un dígito que da 0 en el resultado? Pida que representen el ejercicio con el material concreto para confirmar que no quedan unidades.

4 Había 45 láminas de un álbum. Usé 24. ¿Cuántas quedan?

a) Escribe una expresión.

$$45 - 24$$

b) Pensemos cómo calcular.



Respuesta: 21 láminas.

5 Encontramos la respuesta para $53 - 21$, usando la forma vertical.

$$\begin{array}{r} 53 \\ - 21 \\ \hline 32 \end{array}$$






6 Pensemos cómo restar, usando la forma vertical.

a) $73 - 23$

$$\begin{array}{r} 73 \\ - 23 \\ \hline 50 \end{array}$$

b) $36 - 24$

$$\begin{array}{r} 36 \\ - 24 \\ \hline 12 \end{array}$$

 Cuaderno de Actividades página 30 • Tomo 1
 ¿Qué aprendí? • Ticket de salida página 63 • Tomo 1
 Material didáctico

Consideraciones didácticas

En estos momentos del proceso de aprendizaje, se espera que los niños usen el algoritmo convencional de la resta, sin necesidad de usar los bloques base 10 u otro material. Se recomienda usar los bloques base 10 sólo en el caso de que haya estudiantes que aún no comprendan el funcionamiento del algoritmo.

 Cuaderno de Actividades página 30 • Tomo 1

 ¿Qué aprendí? ticket de salida página 63 • Tomo 1

 Material didáctico

Propósito

Que los estudiantes ejerciten el cálculo de restas “sin reserva”, usando el algoritmo convencional.

Habilidad

Resolver problemas.

Gestión

El propósito de esta página es ejercitar las restas de números de dos cifras, usando el algoritmo. Pídeles que anticipen los resultados antes de usar el cálculo vertical. Se espera que no tengan mayores dificultades para realizar correctamente todos los cálculos.

En la sección Ejercicios, actividad 2, se presenta una situación asociada a la cantidad de estudiantes de un curso, de la cual derivan tres problemas, dos de ellos no rutinarios.

En el problema a), reconocen que la resta $29-3$ permite encontrar la cantidad de estudiantes que hay hoy en el curso de Álvaro. Para encontrar el resultado, pueden contar hacia atrás, usar la técnica de descomposición o usar el algoritmo.

En el problema b) reconocen sin dificultad que, si al día siguiente falta un alumno, entonces asisten 28 niños ($29-1$).

El problema c) involucra la siguiente pregunta: ¿Cuánto se debe restar a 29 para obtener 20? Para encontrar el número, se debe calcular $29-20$. Asimismo, pueden recurrir a la relación inversa entre la suma y la resta: ¿Cuánto le falta a 20 para obtener 29?

7 Piensa cómo restar $35 - 13$ usando la forma vertical.

$$\begin{array}{r} 35 \\ - 13 \\ \hline 22 \end{array}$$

Considerar unidades y decenas.



Practica

Calcula de manera vertical:

a) $98 - 12 = 86$ b) $59 - 19 = 40$ c) $47 - 6 = 41$ d) $69 - 45 = 24$

Ejercicios



1 Calculemos de manera vertical:

a) $74 - 31 = 43$ d) $95 - 55 = 40$ g) $69 - 37 = 32$
 b) $85 - 54 = 41$ e) $37 - 10 = 27$ h) $49 - 32 = 17$
 c) $27 - 6 = 21$ f) $83 - 13 = 70$ i) $29 - 8 = 21$

2 El curso de Álvaro tiene 29 alumnos.

a) Hoy faltan 3. ¿Cuántos están presentes? **Están presentes 26 alumnos.**

b) Al día siguiente solo falta un alumno. ¿Cuántos de los 3 que faltaron volvieron a clases? **Vuelven 2 de los 3 que faltaron a clases.**

c) ¿Cuántos alumnos deben faltar para que en el curso estén 20 alumnos presentes? **Deben faltar 9 alumnos.**

Usa fichas para resolver el problema.



Cuaderno de Actividades página 31 • Tomo 1

¿Qué aprendí? • Ticket de salida página 64 • Tomo 1

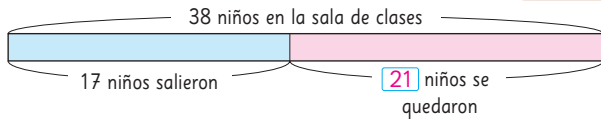
Consideraciones didácticas

Se recomienda usar los cubos después de que resuelvan los problemas, para verificar el resultado, especialmente, en los problemas b) y c) en que les puede resultar complejo comprender la situación involucrada.

La relación entre la suma y la resta

- 1 Había 38 niños en la sala de clases.
17 salieron a jugar.

¿Cuántos quedaron?



- a) Encontramos el resultado.

$$\begin{array}{|c|} \hline 38 \\ \hline \end{array} - \begin{array}{|c|} \hline 17 \\ \hline \end{array} = \begin{array}{|c|} \hline 21 \\ \hline \end{array}$$

resultado

- b) Si los 17 niños que estaban afuera vuelven, ¿cuántos niños habrá en la sala?

$$\begin{array}{|c|} \hline 21 \\ \hline \end{array} + \begin{array}{|c|} \hline 17 \\ \hline \end{array} = \begin{array}{|c|} \hline 38 \\ \hline \end{array}$$

resultado

Este método puede usarse para revisar los resultados en la resta.



Practica

Calculemos y revisemos las respuestas, usando el método anterior.

a) $76 - 51 = 25$ b) $36 - 32 = 4$ c) $48 - 5 = 43$ d) $57 - 7 = 50$
 $25 + 51 = 76$ $32 + 4 = 36$ $43 + 5 = 48$ $50 + 7 = 57$

¿Qué aprendí? • Ticket de salida página 65 • Tomo 1

65

Consideraciones didácticas

Las acciones de quitar y agregar de una misma cantidad de objetos a una colección ayudan a reconocer que una suma puede revertir el efecto de la resta. En los dos problemas estudiados, se da la relación $38 - 17 + 17 = 38$. Así, en términos generales, si se quita y luego agrega una misma cantidad a una colección, queda la misma cantidad. Esta idea sirve para verificar el resultado de una resta. Por ejemplo: si $40 - 28 = 12$, entonces $28 + 12$ debe dar 40.

Propósito

Que los estudiantes analicen problemas para reconocer la relación de reversibilidad entre la suma y la resta.

Habilidad

Resolver problemas/argumentar y comunicar.

Gestión

En esta página se estudia un nuevo tema: la relación de reversibilidad entre la suma y la resta. Presente en un cartel los problemas 1 a) y b) y dé un tiempo para que los resuelvan. Luego haga una puesta en común para compartir los resultados y las estrategias que usaron.

No debieran tener mayores dificultades para encontrar la respuesta al problema. Calculan $38 - 17$, obteniendo 21 de resultado. Así, quedan 21 niños en la sala.

Luego, para resolver el problema b), es posible que algunos alumnos reconozcan que no es necesario realizar cálculo alguno, ya que si llegan a la sala los niños que salieron a jugar, quedará la misma cantidad que había inicialmente. Es posible también que otros hagan el cálculo $21 + 17$, para identificar que hay 38 niños en la sala; es decir, la misma cantidad que había inicialmente.

Destaque que la suma y la resta están relacionadas. Si a una cantidad inicial le quito y luego le agrego una misma cantidad, la cantidad inicial se mantiene. Luego pida abran la página del Texto del Estudiante, analicen la información y completen con números en los espacios señalados. Finalmente, pídeles que realicen las restas de los ejercicios y comprueben los resultados sumando.

Propósito

Que los estudiantes estudien problemas para reconocer la relación de reversibilidad entre la suma y la resta.

Habilidad

Resolver problemas/argumentar y comunicar.

Gestión

En esta página se continúa el aprendizaje de la reversibilidad de la suma y la resta. Esta vez se realiza primero la acción de agregar y luego la acción de quitar.

Presente los problemas en un cartel, dé un tiempo para que los resuelvan y luego pida que hagan una puesta en común para compartir los resultados y las estrategias.

No debieran tener mayores dificultades para encontrar la respuesta al primer problema. Calculan $8 + 4$, obteniendo 12 de resultado. Así, quedan 12 niños jugando.

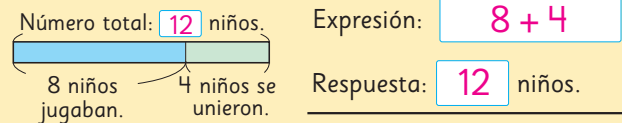
Luego, para resolver el siguiente problema, dada la experiencia de los problemas anteriores, se espera que indiquen, sin calcular, que quedan 8 niños. ¿Por qué queda la misma cantidad? (Si llegan 4 y luego se van 4, queda la misma cantidad).

Pídales que abran la página del texto, analicen la información y completen con números en los espacios señalados. Ayúdelos a que establezcan las relaciones que se da entre los datos y la incógnita en los diagramas de cada problema.


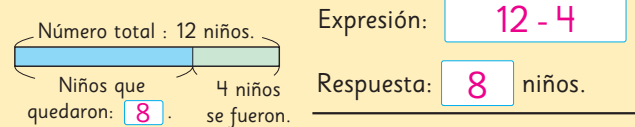
¿Qué tipo de cálculo es este?

1 Comparemos los dos problemas.

- a) 8 niños estaban jugando. 4 niños más se unieron.
¿Cuántos niños hay ahora jugando?



- b) Había 12 niños jugando juntos. 4 de ellos se fueron a sus casas. ¿Cuántos quedaron?



66

Consideraciones didácticas

Las acciones de agregar y quitar una misma cantidad de objetos a una colección ayudan a reconocer que una resta puede revertir el efecto de la suma. En los dos problemas estudiados, se da la relación $8 + 4 - 4 = 8$. Así, en términos generales, si se agrega y luego quita una misma cantidad a una colección, queda la misma cantidad.

Planificación  45 minutosTE  35 minutosCA  10 minutos**Propósito**

Que los estudiantes analicen problemas para reconocer la relación de reversibilidad entre la suma y la resta.

Habilidad

Resolver problemas/argumentar y comunicar/modelar.

Gestión

En esta página se continúa el aprendizaje de la reversibilidad de la suma y la resta. Esta vez, mediante la acción de juntar y separar.

Presente los problemas en un cartel, dé un tiempo para que los resuelvan y después pídale que hagan una puesta en común para compartir los resultados y las estrategias.

No debieran tener mayores dificultades para encontrar la respuesta al primer problema. Calculan $6 + 7$, obteniendo 13 de resultado. Así, hay 13 rosas en total.

Luego para resolver el siguiente problema, dado el primer problema resuelto, indican sin calcular que hay 6 rosas rojas. ¿Por qué? (Si $6 + 7 = 13$, entonces $13 - 7 = 6$).

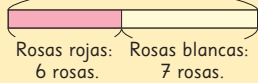
Pídale que abran la página del texto, analicen la información y completen con números en los espacios señalados. Ayúdelos a que establezcan las relaciones que se da entre los datos y la incógnita en los diagramas de cada problema.

Destaque que, si a una cantidad inicial le agrego y luego le quito una misma cantidad, la cantidad inicial se mantiene.

2 Comparemos los dos problemas.

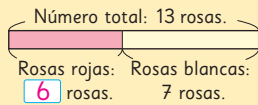
a) Hay 6 rosas rojas y 7 rosas blancas.

Número total: 13 rosas en total.



Expresión: $6 + 7$

Respuesta: 13 rosas.

b) Hay 13 rosas. 7 de ellas son blancas. El resto son rojas. ¿Cuántas rosas rojas hay?

Expresión: $13 - 7$



Respuesta: 6 rosas.

 Cuaderno de Actividades página 32 · Tomo 1
 ¿Qué aprendí? · Ticket de salida página 67 · Tomo 1

¿Cómo están relacionadas entre ellas?

**Consideraciones didácticas**

- Tres números están relacionados aditivamente (conectados) si la suma de dos de ellos da el otro. Así, si $6 + 7 = 13$, 6, 7 y 13 están conectados. Con ellos es posible formar y deducir diferentes relaciones aditivas (frases numéricas). Por ejemplo: si $6 + 7 = 13$, entonces $7 + 6 = 13$, $13 - 6 = 7$, $13 - 7 = 6$.
- La acción de separar es inversa a la acción de juntar. Las acciones de juntar y separar una misma cantidad de objetos a una colección ayudan a reconocer que una resta puede revertir el efecto de la suma y viceversa.

 Cuaderno de Actividades página 32 · Tomo 1
 ¿Qué aprendí? ticket de salida página 67 · Tomo 1

Recursos

Bloques base 10.

Propósito

Que los estudiantes ejerciten el cálculo y la resolución de problemas de restas.

Habilidad

Resolver problemas/argumentar y comunicar.

Gestión

En la actividad 1, se espera que usen el algoritmo convencional, y en la actividad 2, se pretende que puedan hacer los cálculos en forma mental. Para ello, recurren en forma implícita a la descomposición de los números. Por ejemplo: para calcular $58 - 32$, restan $50 - 30$, obteniendo 20, luego restan $8 - 2$, obteniendo 6 y luego suman los resultados obteniendo 26. Se sugiere que realicen los cálculos, usando el algoritmo para revisar los resultados.

En la actividad 3 se presenta un problema que requiere que los estudiantes modelen la situación como resta y anoten la expresión matemática $36 - 14$. Luego contesten la pregunta.

Finalmente, hay dos actividades que anticipan el aprendizaje del capítulo de longitud que viene a continuación. En a) pueden usar una longitud de referencia o medir usando una unidad no convencional, y en b) pueden contar los clips y luego comparar los números.

Ejercicios



1 Restar $76 - 23$, usando la forma vertical.

	7	6
-	2	3
	5	3



a) El resultado es **53**.

2 Calcula de forma vertical mentalmente.

a) $58 - 32 = 26$ e) $33 - 11 = 22$ i) $87 - 16 = 71$ m) $46 - 21 = 25$

b) $88 - 17 = 71$ f) $44 - 13 = 31$ j) $58 - 41 = 17$ n) $87 - 63 = 24$

c) $48 - 35 = 13$ g) $86 - 54 = 32$ k) $88 - 48 = 40$ ñ) $89 - 9 = 80$

d) $99 - 22 = 77$ h) $89 - 88 = 1$ l) $89 - 34 = 55$ o) $71 - 60 = 11$



3 Hugo tenía 36 dulces. Le dio 14 a su hermano.



¿Cuántos dulces le quedaron?

Le quedaron 22 dulces.

¿Lo recuerdas?

¿Cuál es más largo?

a) (A)  (B) 

b) (A)  (B) 

¿Qué aprendí? • Ticket de salida página 68 • Tomo 1

1 Restemos de forma vertical y revisemos los resultados.

- | | | | |
|----------------------|----------------------|----------------------|----------------------|
| a) $67 - 42$
= 25 | e) $59 - 30$
= 29 | i) $96 - 16$
= 80 | m) $98 - 19$
= 79 |
| b) $98 - 30$
= 68 | f) $56 - 42$
= 14 | j) $87 - 2$
= 85 | n) $33 - 20$
= 13 |
| c) $82 - 11$
= 71 | g) $95 - 34$
= 61 | k) $27 - 4$
= 23 | ñ) $59 - 48$
= 11 |
| d) $27 - 5$
= 22 | h) $81 - 20$
= 61 | l) $76 - 75$
= 1 | o) $43 - 33$
= 10 |

2 Hay 93 alumnos en segundo básico en el colegio de Ignacia. 50 de ellos son niñas. ¿Cuántos niños hay?

Hay 43 niños.

3 Hay 79 alumnos en segundo básico en el colegio de Matilde. 39 de ellos son niñas. ¿Cuántos niños hay?

Hay 40 niños.

¿Hay que sumar o restar?

Hay que restar.

4 Encontramos los errores y escribamos los resultados correctos en los ().

- | | | | |
|---|---|---|---|
| a) $\begin{array}{r} 77 \\ - 41 \\ \hline 38 \end{array}$
(36) | b) $\begin{array}{r} 65 \\ - 43 \\ \hline 12 \end{array}$
(22) | c) $\begin{array}{r} 96 \\ - 16 \\ \hline 86 \end{array}$
(80) | d) $\begin{array}{r} 97 \\ - 66 \\ \hline 41 \end{array}$
(31) |
|---|---|---|---|

Cuaderno de Actividades página 33 • Tomo 1
¿Qué aprendí? • Ticket de salida página 69 • Tomo 1

Propósito

Que los estudiantes ejerciten el cálculo y la resolución de problemas de restas.

Habilidad

Modelar/resolver problemas.

Gestión

Permita que desarrollen los ejercicios de manera autónoma. En la actividad 1, se pide que realicen los cálculos usando la forma vertical. Monitoree el trabajo para verificar que todos lo utilicen en forma correcta. Invítelos nuevamente a auto-evaluarse y luego intercambiar estrategias para evitar errores.

En las actividades 2 y 3, resuelven problemas en que pueden hacer los cálculos usando la forma vertical o con cálculo mental.

En la actividad 4, se les pide que identifiquen y luego corrijan los errores que se ha cometido usando la forma vertical.

En a), el 7 con el 1 se sumaron en vez de restarse; en b), $6 - 4$ no es 1, sino 2. En c) $6 - 6$ es 0, no 6. En d) $9 - 6$ es 3, no 4.

Planificación 45 minutos

TE 30 minutos

CA 15 minutos

Recursos

Bloques base 10.

Propósito

Que los estudiantes calculen restas de números de hasta 2 dígitos, usando el algoritmo convencional.

Habilidad

Resolver problemas/argumentar y comunicar.

Gestión

Presénteles el problema, asegurándose de que comprendan la situación involucrada. Esto es:

Deben encontrar las cifras faltantes, representadas por los recuadros, en la resta de números de 2 dígitos.

Posteriormente, solicite que realicen las restas de las actividades 1 a) y b).

En la actividad 2, los niños deben crear más de este tipo de ejercicios, intercambiarlos con sus compañeros y que los resuelvan.

Evaluación formativa

Pídales que analicen la siguiente situación:

“Un niño hizo el cálculo $67-7$ con la forma vertical. Obtuvo 6. ¿Qué error pudo haber cometido?”.

Problemas 2

- 1 ¿Qué números fueron comidos por insectos? Escribe cómo resolver el problema.

Ejemplo

$$\begin{array}{r} (b) \ 8 \ 5 \\ - \ 1 \ (a) \ 4 \\ \hline 7 \ 1 \end{array}$$

(a) es un número tal que $5 - (a) = 1$, entonces (a) es 4.

(b) es un número tal que $(b) - 1 = 7$, entonces (b) es 8.

a)

$$\begin{array}{r} 9 \ 7 \\ - (b) \ 3 \ 1 \\ \hline 6 \ (a) \ 6 \end{array}$$

b)

$$\begin{array}{r} 6 \ (a) \ 9 \\ - 1 \ 2 \\ \hline (b) \ 5 \ 7 \end{array}$$

- 2 Crea más de estos problemas. Intercámbialos con tus amigos y resuélvanlos.

Cómo crear un problema

- a) Haz un cálculo correcto.

- b) Decide qué números reemplazarás por .

- c) Resuelve el problema para ver si tiene solución.

Ejemplo 1

$$\begin{array}{r} 3 \ 4 \\ + 2 \ 4 \\ \hline 5 \ 8 \end{array} \rightarrow \begin{array}{r} \square \ 4 \\ + 2 \ \square \\ \hline 5 \ 8 \end{array}$$

Ejemplo 2


$$\begin{array}{r} 8 \ 8 \\ - 2 \ 7 \\ \hline 6 \ 1 \end{array} \rightarrow \begin{array}{r} 8 \ \square \\ - \square \ 7 \\ \hline 6 \ 1 \end{array}$$

Cuaderno de Actividades página 34 • Tomo 1

¿Qué aprendí? • Ticket de salida página 70 • Tomo 1

Cuaderno de Actividades página 34 • Tomo 1

¿Qué aprendí? ticket de salida página 70 • Tomo 1









¿Quién tiene la cinta más larga?



Compara tu cinta con la de un amigo.

▶▶ Juguemos al cachipún.



Juega al cachipún y si ganas con  te toca cinta , con  te toca cinta , y si ganas con  te toca cinta .

Ve uniendo las cintas cuando las obtienes.



71

Gestión

Explique las reglas del juego. Organice al curso en parejas y entregue un set de cintas a cada una. Los niños comienzan a jugar y van formando sus cintas en el suelo con las cintas que van ganando durante el juego cachipún. Cuando hayan completado 10 jugadas, cada uno tendrá una cinta de distinta longitud. Invite al curso a sentarse en el piso, de tal manera que queden alrededor de las cintas de todo el curso. Ponga una letra a cada cinta para poder identificarlas y compararlas.

Observe que los niños coloquen una cinta a continuación de la otra (yuxtaponer) para que no queden espacios entre ellas, y que las pongan en línea recta.

Capítulo 6. Longitud

🕒 12 horas pedagógicas.

Visión general

En este capítulo, se continúa el estudio de las longitudes que se inició en 1° básico. Se profundiza la tarea de comparar longitudes usando medidas estandarizadas como el centímetro y el metro. Interesa que los niños reconozcan el sentido de la magnitud cm y m; es decir, que tengan conciencia de la cantidad de medida y que reconozcan, por tanto, qué objetos conviene medir con centímetros o con metros.

Objetivos del capítulo

OA19: Determinar la longitud de objetos, usando unidades de medidas no estandarizadas y unidades estandarizadas (cm y m), en el contexto de la resolución de problemas.

Aprendizajes previos

- Identificar y comparar la longitud de objetos, usando palabras como largo y corto.

Actitud

Abordar de manera flexible y creativa la búsqueda de soluciones a problemas.

P. 71 | TE | Longitud

6

Planificación 🕒 45 minutos

Recursos

Un set de cintas para cada pareja de alumnos: 6 cintas rojas de 10 cm, 6 cintas de amarillas de 20 cm y 6 cintas verdes de 30 cm. Un set de 20 cintas rojas de 10 cm para el profesor. Letreros con letras o números (tantos letreros como cintas haya).

Propósito

Que los estudiantes comparen longitudes, usando diferentes estrategias.

Habilidad

Resolver problemas/argumentar y comunicar.

Recursos

Un set de cintas para cada pareja de alumnos: 6 cintas rojas de 10 cm, 6 cintas de amarillas de 20 cm y 6 cintas verdes de 30 cm. Un set de 20 cintas rojas de 10 cm para el profesor. Letreros con letras o números (tantos letreros como cintas haya).

Propósito

Que los estudiantes comparen longitudes, usando diferentes estrategias.


Habilidad

Resolver problemas/argumentar y comunicar.


Gestión

Dado que las cintas no se podrán mover de lugar (se desarmarán y será complejo su traslado de un lugar a otro), tendrán que aplicar diferentes estrategias y conocimientos para compararlas. Haga preguntas para que comparen las cintas, utilizando conocimientos de manera progresiva.

Favorezca en primer lugar la comparación perceptiva, pidiendo que comparen cintas que son notoriamente diferentes a la vista. Luego, la comparación por emparejamiento, si existe alguna pareja que haya formado sus cintas considerando una línea de inicio: por ejemplo, como en la cinta A y B de la foto del texto. Enseguida comparan cintas que tienen muy poca diferencia y que no están emparejadas o se encuentran muy lejanas; por lo tanto, no es suficiente observar para comparar. Así, se verán obligados a utilizar una medida auxiliar. Incentívelos a usar las cintas rojas para poder medir la longitud de ambas cintas o usar una cuerda para copiar la medida de ambas cintas, haciendo una marca de cada una en la cuerda.



Pensemos en formas de comparar longitudes.



La mía es igual a 6 baldosas.

La mía es igual a 5 baldosas.

La mía es igual a 17 pedazos de cinta roja. Es la más larga.

Cómo comparar

1 ¿Es la cinta de Marcelo realmente más larga que la de Adolfo?

Es fácil comparar si la cinta de Adolfo o de Jimena es la más larga.

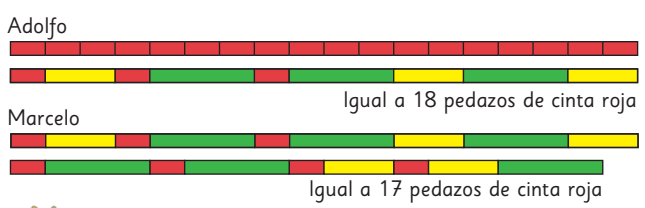


 ¿Qué aprendí? • Ticket de salida página 72 • Tomo 1

72

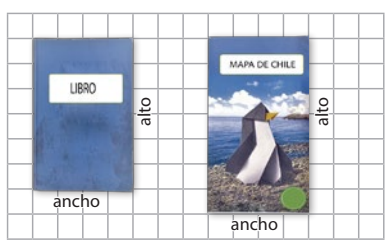
Consideraciones didácticas

Las reglas del juego provocarán que formen cintas con distintas longitudes, entre las cuales hay algunas que pueden comparar sin necesidad de medir, pues su diferencia es notoriamente distinta; otras cuya diferencia se logra percibir, pues las han colocado enfrentadas a partir de un mismo inicio, y finalmente, cintas en que no se puede comparar a simple vista, debido a que su diferencia es menor y se encuentran lejanas una de otra. En este caso, surge la necesidad de medir para determinar la cinta de menor o mayor longitud.



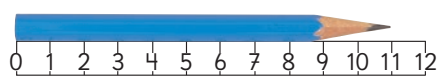
Para comparar longitudes, debes usar una misma unidad de medida.

- 2 Pusimos un libro y un mapa en un papel cuadrulado.
- a) ¿Cuántos cuadrados miden el alto y el ancho del libro y el mapa? Libro: ancho: 4 cuadrados, alto: 6 cuadrados. Mapa: ancho: 4 cuadrados, alto: 7 cuadrados.
 - b) ¿Cuál es más alto en cada caso? ¿Por cuánto?



Es más alto el mapa, por 1 cuadrado.

- 3 Cortemos un pedazo de papel cuadrulado para tener una herramienta de medición. Midamos varios objetos con esa herramienta.



Cuaderno de Actividades página 35 • Tomo 1
¿Qué aprendí? • Ticket de salida página 73 • Tomo 1

Consideraciones didácticas

Compruebe que utilicen la cinta de medir correctamente (desde el cero). Para favorecer la reflexión, permita que observen lo que sucede si se comienza a medir desde 1 y luego desde 0, y que expliquen por qué es necesario comenzar a medir desde cero.

Recursos

Cinta de medir graduada en cm.

Propósito

Que los estudiantes exploren cómo comparar longitudes, utilizando medidas no convencionales.

Habilidad

Representar.

Gestión

Para sistematizar la actividad exploratoria, invítelos a abrir su Texto del Estudiante y observar esta página y las páginas anteriores, para que reconozcan que, cuando no es posible comparar la longitud de dos o más objetos a simple vista, como es el caso de las cintas de Adolfo y Marcelo, es necesario utilizar una unidad de medida auxiliar; en este caso, las cintas rojas, contando cuántas veces cabe la cinta roja en la cinta que cada niño construyó. Pregunte: ¿Qué medida usaron Adolfo y Marcelo para comparar la longitud de sus cintas? ¿Es importante poner las cintas una al lado de la otra? (No, si se usa un referente; sí, cuando se compara de manera perceptiva).

En la actividad 2, pídales que observen la imagen, invítelos a que reconozcan que el papel cuadrulado tiene en la parte inferior una cinta que está numerada y muestra que cada cuadrado del cuaderno mide lo mismo que cada tramo de la cinta. Permita que desarrollen la actividad de manera autónoma y luego, que compartan sus respuestas de manera colectiva.

En la actividad 3, invítelos a reconocer que desde el 0 hasta el 1 hay una unidad, desde el 1 al 2 hay otra unidad y así sucesivamente; por tanto, el lápiz mide 11 unidades y el largo del libro se mide de esa misma forma.

Recursos

Cinta de medir graduada en cm.

Propósito

Que los estudiantes midan longitudes de objetos, utilizando medidas convencionales.

Habilidad

Representar.

Gestión

Pídales que observen el sobre que aparece en el Texto del Estudiante y determinen la medida del ancho. Luego, oriéntelos para que comprendan la sistematización que aparece en el recuadro. Incentívelos a que comprendan que entre un número y otro hay 1 cm de longitud, y que esta es una unidad que habitualmente se utiliza para medir. Para que dimensionen 1 centímetro, invítelos a observar que es un poco menor al ancho de un dedo.

Luego dígalos que miren la cinta que se encuentra al costado izquierdo de la página y pregunte: ¿Cuántos centímetros mide la cinta? ¿Qué tipo de objetos se puede medir con esta cinta? ¿Podrías medir con ella el largo de tu pie? ¿Y cuánto mide una cuarta? (muestre qué es una cuarta).

Enseguida, miden diferentes objetos que tengan en su escritorio, como largo del lápiz, largo de la goma, alto de un cuaderno, etc. Para ello, pueden utilizar la cinta de medir que está al costado izquierdo de la página.

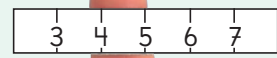
Cómo representar las longitudes

1 Midamos el ancho de un sobre, usando papel cuadriculado.



Existe una unidad de medida llamada "centímetro" y se utiliza para medir longitudes.

1cm 1cm



Para medir, se usan unidades del mismo tamaño.

El cm se usa en muchos países.



¿Cuántos cm mide el ancho del sobre?

Practica El ancho del sobre mide 15 cms.

Mide las longitudes de distintos objetos.



Evaluación formativa

Desafíelos a pensar o buscar en la sala distintos objetos que tengan 1 cm de longitud; por ejemplo, el ancho de un clip, el ancho de un lápiz, el lado de un cuadrado del cuaderno, etc.

Recursos

Cinta de medir graduada en cm.

Propósito

Que los estudiantes midan longitudes de objetos, utilizando medidas convencionales (cm).

Habilidad

Representar.

Gestión





En la actividad 2, procure que reconozcan que, para medir, deben hacer coincidir la línea del cero con el inicio de la línea o cinta, y el último número que coincide con el final de la cinta o línea es el que indica su medida.

El propósito de la actividad 3 es que reconozcan cuál es la longitud que se está midiendo; en este caso, el largo del mantel. Es importante que argumenten que la cinta debe colocarse al inicio del mantel y siguiendo la línea del largo y, por tanto, ni en el primer caso ni en el segundo caso se estaría midiendo el largo del mantel.


La actividad 4 los invita a que estimen y a buscar objetos que midan cerca de 10 cm. Para ello, es importante que dimensionen con sus manos esta medida; por ejemplo, que reconozcan que 10 cm son aproximadamente lo que mide el ancho de 7 dedos.

En la actividad 5, aprenden a medir objetos que tienen una medida inexacta. En este caso, pueden evaluar si las medidas son más cercanas al número menor o al mayor; por ejemplo, en el caso del palo, podrían reconocer que está más cercana a 7 que a 8 cm.

2 Mide la longitud de las cintas y líneas.

- a)  12 cm
- b)  4 cm
- c)  7 cm
- d)  5 cm

3 ¿En qué caso se mide correctamente?

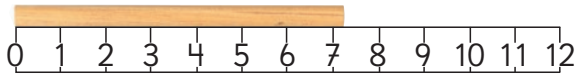


4 Encontramos objetos que tengan alrededor de 10 cm de largo.

Encuentra objetos que midan 10 cm aproximadamente.



5 ¿Cuánto mide este palo de largo? Conversemos.



¿Cómo podemos medir las longitudes que no son exactas?

Cuando algo mide más de 7 cm, diremos que "mide un poco más de 7 cm".



75

Evaluación formativa

Muestre distintos objetos y pida que estimen si mide más o menos de 10 cm. Luego, invítelos a verificar con una cinta de medir.

Planificación ⌚ 45 minutos

TE ⌚ 35 minutos | **CA** ⌚ 10 minutos

Recursos

Regla graduada en cm, hojas blancas.

Propósito

Que los estudiantes midan y construyan líneas a partir de una medida dada en cm y estimen longitudes.

Habilidad

Representar.





Gestión

En la actividad 6, los niños miden con regla graduada en cm longitudes cuyas medidas pueden ser exactas o no exactas. Favorezca que expresen las medidas no exactas; por ejemplo: "mide un poco más de 5 cm", "mide un poco menos de 6 cm". Es posible que algunos las expresen como "mide entre 5 y 6 cm". Recuérdeles constantemente cómo deben poner la regla o huincha de medir o la cinta del cuaderno.

Para la actividad 7, pídales que lean y comenten las instrucciones para construir una línea. Luego entregue hojas blancas y dígales que con su regla graduada, construyan las líneas con las medidas dadas.

Para realizar la sección Practica, organícelos en parejas, invítelos a observar distintos objetos de la sala de clases, que anoten en su cuaderno la medida que estiman que poseen y que luego verifiquen cuán cercana estuvo su estimación. Permita que compartan las técnicas que les permiten obtener una buena estimación.

6 Midamos las longitudes de las cintas y líneas que se muestran abajo.

- a)  Mide un poco más de 4 cm.
- b)  Mide un poco más de 12 cm.
- c)  Mide un poco más de 6 cm.
- d)  Mide un poco más de 9 cm.

7 Dibujemos líneas con las siguientes medidas.

- a) 8 cm
- b) 11 cm
- c) 15 cm



1. Marca un punto.



2. Coloca un extremo de la regla en el punto.



3. Marca un segundo punto que esté a 8 cm del primer punto marcado.



4. Une ambos puntos con la regla dibujando una línea.

Practica

Estima las longitudes de varios objetos y luego mídelos.

 Cuaderno de Actividades página 36 • Tomo 1

 ¿Qué aprendí? • Ticket de salida página 76 • Tomo 1

Consideraciones didácticas

Observe que utilicen la regla correctamente para dibujar líneas, colocando el primer punto en el cero y el último punto en el número que indica la medida del trazo. Procure que dibujen líneas en distintas orientaciones.

 Cuaderno de Actividades página 36 • Tomo 1

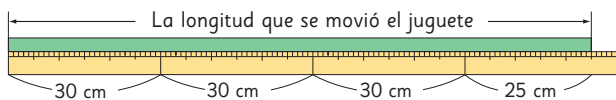
 ¿Qué aprendí? ticket de salida página 76 • Tomo 1

Metros

►► Hicimos una carrera con autos de juguete.



- 1 Jimena midió cuán lejos se movió su juguete, marcando la longitud con una cinta. Ella midió con la regla tres veces 30 cm y una vez 25 cm.



¿Cuánto recorrió el auto de juguete?



El auto de juguete recorrió 115 cm.

100 cm se llama 1 metro y se escribe 1 m.

$$100 \text{ cm} = 1 \text{ m}$$

Metro es otra unidad de medida para longitudes.

¿Qué aprendí? • Ticket de salida página 77 • Tomo 1

77

Consideraciones didácticas

En esta actividad se aborda la noción de distancia. Recuerde que la longitud tiene dos aspectos: uno es la dimensión y otra es la distancia. Las dimensiones se entienden como objetos “llenos”, donde la longitud tiene pleno sentido al tener algo material en que apoyarse. En cambio, en la distancia no nos referimos a ningún objeto, sino al espacio vacío entre dos objetos.

Recursos

Autitos de juguete, reglas de 30 cm.

Propósito

Que los estudiantes midan longitudes expresadas en metros.

Habilidad

Representar/resolver problemas.

Gestión

Organice al curso en grupos de 4 o 5 niños para que jueguen a la carrera de autitos. Una vez que cada uno lanza su auto, en conjunto miden la distancia recorrida. Se espera que reconozcan que la regla de 30 cm no es suficiente para medir; por ello, será necesario iterarla, o sea, usar más de una vez la regla, tal como se muestra en la imagen. Permita que busquen una manera de determinar la medida de la distancia recorrida y compartan las estrategias entre los distintos grupos.

Invítelos a abrir su Texto del Estudiante y observar la situación que se presenta. Pregunte: ¿Cómo se podría saber cuánto recorrió el autito de Jimena? Se espera que reconozcan que es necesario sumar todas las medidas, obteniendo 115 cm.

Pregunte: Si un 1 metro equivale a 100 cm, ¿el autito de Jimena recorrió más o menos de 1 metro? (más de 1 metro) ¿Cuánto más? (15 cm) ¿Cuánto recorrió el autito de Jimena? (115 cm o 1 metro y 15 cm).

Destaque la diferencia entre la longitud 1 cm y 1 m, permitiendo que visualicen y tomen conciencia de estas medidas. Por ejemplo: en la longitud de un dedo hay aproximadamente 1 cm y si se da un paso “largo” hay un metro. (El paso de un adulto es más cercano a un metro).

Planificación 🕒 45 minutos

TE 🕒 30 minutos | **CA** 🕒 15 minutos

Recursos

Un rollo de cinta, regla de 30 cm, cinta de medir de 1 metro.

Propósito

Que los estudiantes comparen longitudes, usando diferentes estrategias.

Habilidad

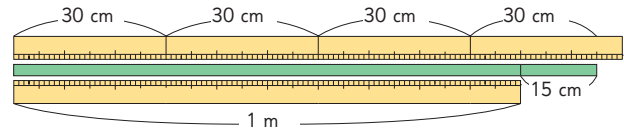
Representar/resolver problemas.

Gestión

Para sistematizar la actividad anterior, pídeles que observen cómo se formó 1 metro con la regla de 30 cm y cómo se presenta esta medida en la tabla. Enseguida, invítelos a desarrollar la actividad 2 de manera autónoma y después pídeles que comparan sus estrategias y respuestas.

Finalmente, en la sección ejercicios, desafíelos a cortar cintas cuya longitud sea lo más cercana posible a un metro. Pegue las cintas en la pizarra desde un mismo punto de partida y luego invítelos a verificar quién estuvo más cerca, utilizando una cinta que mida 1 metro.

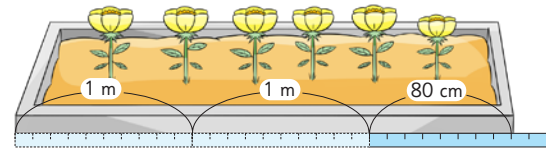
Al finalizar esta actividad, motíuelos a establecer acuerdos sobre cómo producir una medida cercana a 1 metro; por ejemplo: tomar la cinta y estirla tanto como lo permitan sus brazos.



El autito de Jimena se movió más de un metro. Ella midió 1 m y 15 cm.

m	cm
1	15

- 2** Midamos el largo de la jardinera de la siguiente forma. ¿Cuántos metros y centímetros tiene de largo?




El largo de la jardinera es de 2 m y 80 cm.

Practica

Corten una cinta que crean que puede medir 1 metro de longitud.

Pongan sus cintas alineadas y vean la de quién se acercó más a 1 m.

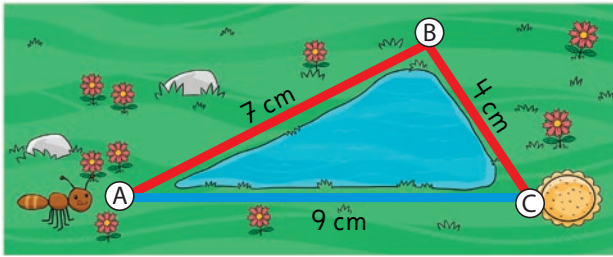


Consideraciones didácticas

Invite a los niños a buscar distintas maneras de formar 1 metro; por ejemplo: 30 cm + 70 cm, 10 cm + 90 cm, etc. Luego pregunte: ¿Cuánto falta para completar 1 metro si tengo 25 cm?

Pregunte: Si tuviéramos que medir el largo de un lápiz, ¿usamos centímetros o metros? ¿Y si tuviéramos que medir el largo de la sala?

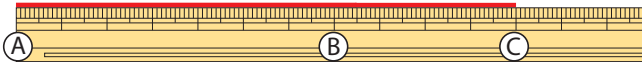
Encontremos las longitudes



1 Una hormiga se movió de A a C.

a) ¿Cuál es el largo total de las líneas ABC (roja)?

$$7 \text{ cm} + 4 \text{ cm}$$



La idea de Laura

El largo de **AB** es 7 cm. El largo de **BC** es 4 cm.
Por lo tanto **ABC** es 11 cm.

b) ¿Cuál es la diferencia entre las longitudes de las líneas ABC (roja) y AC (azul)?

Mide y revisa la diferencia.



La diferencia entre las longitudes es de 2 cm.

Práctica

1 Un elástico de 15 cm se estiró hasta una longitud de 38 cm. ¿Cuánto se estiró? **Se estiró 23 cm.**

2 Calculemos.

a) $12 \text{ cm} + 25 \text{ cm} = 37 \text{ cm}$

b) $26 \text{ cm} - 13 \text{ cm} = 13 \text{ cm}$

79

Consideraciones didácticas

En el primer problema de la ejercitación que se presentan al final de la página, tienen que reconocer que deben encontrar la diferencia entre lo que mide el elástico cuando está estirado y cuando no. Para ello, procure que elaboren un esquema, realizando preguntas como: ¿Cuál es la medida mayor que alcanza el elástico? (dibujan una línea que representa 38 cm) ¿Cuál es la medida del elástico sin estirar? (dibujan una línea debajo de la anterior que representa 15 cm). De esta manera, pueden darse cuenta de que necesitan calcular la diferencia restando $38 - 15$.

Recursos

Regla.

Propósito

Que los estudiantes midan las líneas rectas y sumen medidas de segmentos.

Habilidad

Resolver problemas.

Gestión

Proyete la imagen del texto en la pizarra y presente el problema: "¿Cuál es la longitud total de las líneas ABC que están marcadas en rojo?"

Invite a los niños a que den ideas de cómo determinar la longitud de ABC. Se espera que planteen medir primero el segmento AB, luego el segmento BC, y finalmente sumar ambos segmentos.

Enseguida, pida que saquen su texto y que analicen la imagen que se presenta en él. Pregunte: La estrategia que se presenta en el texto, ¿se parece a la que acaban de elaborar? Según lo que dice el texto, ¿cuánto mide el segmento AB? ¿Y el segmento BC? ¿Cuánto es $7 + 4$? Pida que pongan atención en la regla y que marquen hasta dónde debería llegar el segmento AB.

Posteriormente, desafíelos a resolver el problema b) de manera autónoma. Se espera que reconozcan que, para responder la pregunta, deben saber la medida de AC (que se encuentra en la ilustración) y luego restar la medida ABC y AC.

Invítelos a resolver los ejercicios que se presenta a continuación.

Planificación ⌚ 45 minutos

TE ⌚ 35 minutos | **CA** ⌚ 10 minutos

Recursos

Regla, cinta de papel blanco.

Propósito

Que los estudiantes midan líneas rectas y sumen medidas de segmentos.

Habilidad

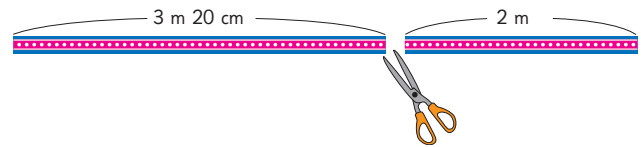
Resolver problemas.

Gestión

Proyecte la imagen en la pizarra y presente el problema: ¿Qué longitud tenía la cinta antes de cortarla? Dé un tiempo para que lo resuelvan de manera autónoma. Se espera que reconozcan que deben sumar ambas medidas, calculando los metros (3 m + 2 m) y luego los centímetros (5 m + 20 cm). Destaque que, cuando se presenta medidas expresadas en metros y centímetros, es importante sumar las medidas expresadas en la misma unidad. Posteriormente, invítelos a resolver los ejercicios que se presentan a continuación.

Enseguida, entregue la cinta de papel blanco para que construyan su huincha. Luego, invítelos a estimar las medidas de distintos objetos de la sala y luego, a verificar sus estimaciones midiéndolos con su huincha.

- 3 Se cortó una cinta en dos pedazos. Las longitudes de ambos pedazos se muestran abajo.



- a) ¿Qué largo tenía la cinta antes de cortarla?

El largo de la cinta antes de cortarla era de 5 m y 20 cm.

Practica

- 1 Hay una cuerda de 13 m de largo y una cuerda de 2 m de largo. ¿Cuántos metros es la diferencia entre las dos cuerdas?

La diferencia entre las dos cuerdas es de 11 m.

- 2 Calculemos.
- | | |
|---|---|
| a) $13\text{ cm} + 2\text{ cm} = 15\text{ cm}$ | c) $26\text{ cm} - 14\text{ cm} = 12\text{ cm}$ |
| b) $24\text{ cm} + 15\text{ cm} = 39\text{ cm}$ | d) $23\text{ cm} - 15\text{ cm} = 8\text{ cm}$ |

Anota intervalos para 1 cm, 10 cm y 1 m en diferentes colores.



Huincha de medir

- 4 Haz una huincha con cinta de papel y mide longitudes.



- a) Primero, estima sus longitudes.
b) Luego, mide las longitudes para confirmar.

📖 Cuaderno de Actividades página 38 • Tomo 1

😊 ¿Qué aprendí? • Ticket de salida página 80 • Tomo 1

Evaluación formativa:

Presente la siguiente situación: Ana tenía que calcular 2 m + 4 cm y llegó al siguiente resultado: 6 cm. ¿Es correcto lo que hizo Ana? ¿Por qué? Invítelos a indicar qué hay que considerar al momento de calcular medidas.

📖 Cuaderno de Actividades página 38 • Tomo 1

😊 ¿Qué aprendí? ticket de salida página 80 • Tomo 1

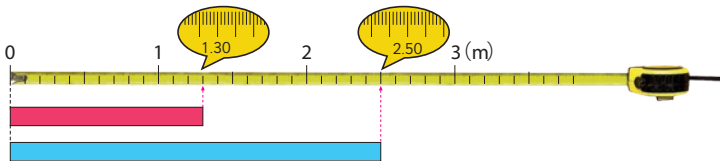
1 Midamos las longitudes de las líneas de abajo.

A  7 cm.

B  10 cm.

¿Cuántos centímetros mide cada línea?

2 Descubre las longitudes de las cintas de abajo.



a) ¿Cuántos metros y centímetros miden las cintas roja y azul? **Roja = 1 m 30 cm, Azul = 2 m 50 cm.**

b) ¿Cuántos centímetros miden las cintas roja y azul? **Roja = 130 cm, Azul = 250 cm.**

¿Lo recuerdas?

Le preguntamos a 14 niños cuál era su animal favorito.

- ¿Cuál es el animal más popular? ¿Cuántos niños eligieron ese animal?

El animal más popular es el perro. 5 niños lo eligieron.

- ¿A cuántos niños les gustan los conejos?

A 3 niños les gustan los conejos.



 ¿Qué aprendí? • Ticket de salida página 81 • Tomo 1

Recursos

Regla.

Propósito

Que los estudiantes ejerciten sobre la medición de longitudes y la construcción de trazos.

Habilidad

Representar.

Gestión

En la actividad 1, los niños deben medir longitudes en cm. Observe si hacen coincidir el cero con el inicio de la regla.

En la actividad 2, deben realizar la tarea inversa a la anterior. Es decir, producir longitudes dada una medida.

En la actividad "¿Lo recuerdas?", se espera que respondan las preguntas observando el gráfico. Esta actividad es para evaluar si poseen los conocimientos necesarios para iniciar el siguiente capítulo, que corresponde a "Tablas y gráficos".

Recursos

Regla.

Propósito

Que los estudiantes resuelvan problemas en que deban aplicar lo que han aprendido de la medición de longitudes.

Habilidad

Representar/modelar.

Gestión

En la actividad 1, discriminan cuál es la unidad de medida pertinente para medir cada longitud señalada.

En la actividad 2, ordenan las medidas; para ello, deben considerar la unidad en que cada una está expresada.

En la actividad 3, calculan sumas de medidas; para ello, pueden usar distintas técnicas de cálculo.

En la actividad 4 a) deben utilizar regla para medir, pues dado que las líneas están en distinta orientación y poseen muy poca diferencia de longitud, requerirán medir. Como una de las medidas no es exacta, pueden decir: "un poco más que". En la actividad 4 b), reconocen que no necesitan volver a dibujar ambas líneas, una a continuación de la otra, dado que pueden sumar sus medidas; así, si una mide 9 cm y la otra mide un poco más de 9, el total será un poco más de 18 cm.



Problemas 1

- 1 Escribe en el la unidad de medida que corresponde:
- El grosor de un cuaderno es 1 .
 - El ancho de una sala de clases es 7 .
 - El largo de un escritorio es 60 .
 - El alto del edificio de un colegio es 20 .

- 2 Ordena las siguientes medidas de la más larga a la más corta.


3 m 7 cm 2 m 80 cm

El orden de las medidas es:

3 m, 2 m, 80 cm, 7 cm

- 3 Calculemos.
- $7 \text{ cm} + 5 \text{ cm} = 12 \text{ cm}$
 - $13 \text{ cm} + 2 \text{ cm} = 15 \text{ cm}$
 - $32 \text{ m} + 12 \text{ m} = 44 \text{ m}$
 - $23 \text{ cm} - 11 \text{ cm} = 12 \text{ cm}$
 - $27 \text{ cm} - 5 \text{ cm} = 22 \text{ cm}$
 - $8 \text{ m} - 6 \text{ m} = 2 \text{ m}$

- 4 Contesta las siguientes preguntas sobre las longitudes de las líneas A y B.



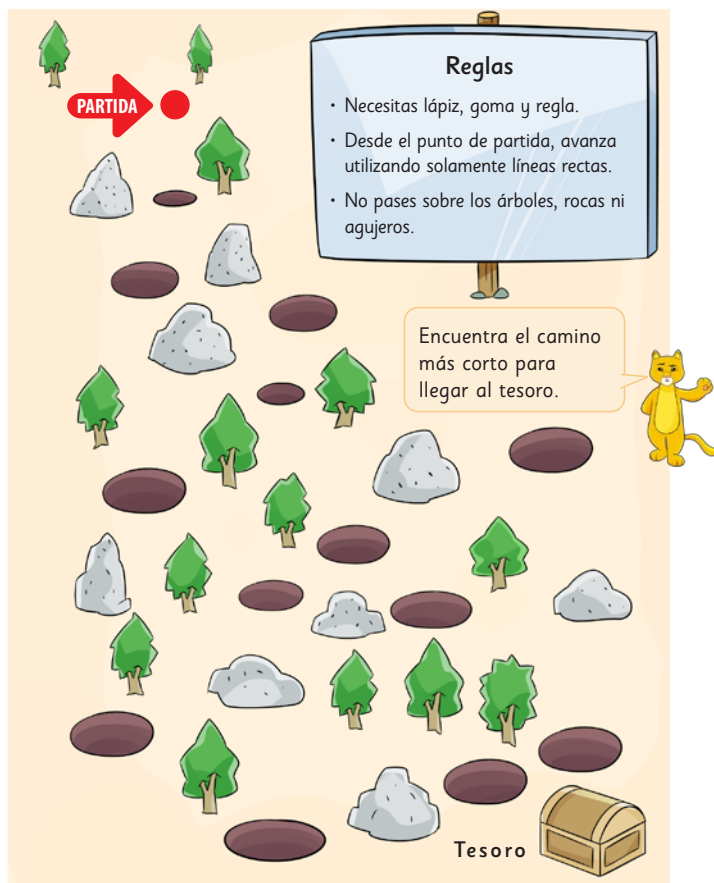
- ¿Cuál es más larga, A o B, y por cuánto?
- Si A y B se juntan, ¿cuál sería su longitud?

 ¿Qué aprendí? • Ticket de salida página 82 • Tomo 1

Evaluación formativa

Presente la siguiente situación: Ana dice que mide más que Pedro, porque ella mide 120 cm, y Pedro mide 1 m y 20 cm. ¿Crees que Ana tiene razón? ¿Por qué?

1 Sigue las reglas para llegar al tesoro.



Calcula la longitud de tu camino y compáralo con los demás.

Recursos

Regla.

Propósito

Que los estudiantes resuelvan un problema no rutinario asociado a la medida de longitudes.

Habilidad

Representar/resolver problemas.

Gestión

Explique las reglas de la actividad. Permita que exploren de manera autónoma y hagan una primera ruta. Enseguida, invítelos a compartir sus rutas y la longitud de cada una. Para ello, deben calcular lo que mide; es decir, sumar tantas veces como trazos hayan hecho. Una vez que hayan comparado sus caminos, desafíelos a encontrar uno más corto.

Al finalizar, reconocerán que el camino de menor longitud es el más cercano a una línea recta, a pesar de que, por las condiciones de la actividad, no podría ser una línea recta. De hecho, una vez terminada la actividad, se podría pedir que midan la distancia de la partida al cofre en línea recta. Si se pudiera realizar, el camino más corto sería la línea recta entre ambos puntos.

Destaque que la distancia entre la partida y el cofre es el espacio que hay entre esos dos puntos; sin embargo, para llegar desde un punto al otro, puede haber caminos con distintas longitudes.

Propósito

Que los estudiantes integren los aprendizajes de los temas abordados.

Habilidad

Representar/resolver problemas.

Gestión

Estos ejercicios permiten evaluar el nivel de logro de los capítulos abordados hasta el momento.


En la actividad 1, deben cuantificar la colección de puntos. Se espera que formen grupos de 10 (dos columnas de 5) para favorecer el conteo.

En la actividad 2, se espera que reconozcan que las horas que son mayores a 12:00 corresponden a las horas de la tarde, y que las horas menores a las 12:00 corresponden a horas de la mañana.

En la actividad 3, se espera que calculen las sumas propuestas, reconociendo cuándo es útil utilizar el algoritmo y cuándo conviene utilizar técnicas de cálculo mental. Por ejemplo: para $20 + 50$ no necesitan recurrir al algoritmo, se espera que lo resuelvan de manera mental. En cambio, para $65 + 33$ tiene más sentido utilizarlo; sin embargo, es posible que también lo hagan de manera mental.



- 1 Descubre el número de ●.



- a) ¿Cuántos grupos de 10 puedes hacer? **9 grupos de 10.**
 b) ¿Cuántos ● hay en total? **En total hay 94.**

- 2 Marca con **X** las horas de la tarde y con **O** las horas de la mañana.

- a) 15:00 21:00
 b) 4:30 1:30

- 3 Calcula:

- a) $62 + 17 = 79$ d) $34 + 55 = 89$ g) $5 + 73 = 78$ j) $41 + 28 = 69$
 b) $30 + 59 = 89$ e) $56 + 3 = 59$ h) $72 + 26 = 98$ k) $65 + 33 = 98$
 c) $20 + 50 = 70$ f) $80 + 10 = 90$ i) $63 + 6 = 69$ l) $45 + 44 = 89$

Evaluación formativa

Invítelos a describir qué tipo de cálculos pueden resolver de manera mental. Podrían decir que sumas de números terminados en ceros son fáciles de calcular mentalmente, ya que se desprenden de las sumas de dígitos, como $20 + 70$ se relaciona con la suma $2 + 7$, o bien representan la acción de agregar grupos de 10; por ejemplo: $45 + 20$ podría representar la acción de agregar 20 cubos a una colección de 45.

4 Encontramos las respuestas, usando la forma vertical o el cálculo mental.

- a) $78 - 43 = 35$ d) $88 - 60 = 28$ g) $66 - 53 = 13$ j) $29 - 9 = 20$
 b) $86 - 43 = 43$ e) $65 - 65 = 0$ h) $27 - 15 = 12$ k) $36 - 10 = 26$
 c) $90 - 30 = 60$ f) $60 - 10 = 50$ i) $48 - 5 = 43$ l) $83 - 21 = 62$

5 Daniela lee un libro de 99 páginas en total. Terminó de leer 87.



¿Cuántas páginas le quedan por leer?

Le quedan por leer 12 páginas.




6 Midamos las longitudes de las líneas.

¿Cuánto miden en centímetros?

- a)  12 cm.
 b)  8 cm.

7 ¿Cuáles son las medidas de longitud adecuadas para medir los siguientes objetos?

- a) El largo de un pasillo. b) El grosor de un libro de texto.



metros



centímetros

 ¿Qué aprendí? • Ticket de salida página 85 • Tomo 1

Recursos

Regla.

Propósito

Que los estudiantes integren los aprendizajes de los temas abordados.

Habilidad

Representar/resolver problemas.

Gestión

En la actividad 4, se espera que calculen las restas propuestas, reconociendo cuándo es útil utilizar el algoritmo y cuándo conviene utilizar técnicas de cálculo mental. Por ejemplo: para $90 - 30$, no necesitan recurrir al algoritmo, se espera que lo resuelvan de manera mental. En cambio, para $83 - 21$ tiene más sentido utilizarlo; sin embargo, es posible que también lo hagan de manera mental.

En la actividad 5, resuelven un problema que representa la acción de separar. Se espera que reconozcan que, cuando tienen el total y una parte, deben restar para determinar la otra parte. Esta resta pueden calcularla mediante el algoritmo o pensar cuánto le falta a 87 para completar 99, mediante la técnica de contar hacia adelante a partir de 87.

En la actividad 6, miden la longitud de las líneas dadas. Se espera que reconozcan cómo utilizar la regla para medirlas.

En la actividad 7, se espera que reconozcan que la unidad de medida "metros" es adecuada para medir longitudes "grandes"; en cambio, la unidad "centímetro" es adecuada para medir longitudes "pequeñas".

Capítulo 7. Tablas y gráficos

🕒 9 horas pedagógicas.

Visión general

En este capítulo, se continúa el aprendizaje de tablas, gráficos y pictogramas que se inició en 1° básico. Se abordan situaciones cotidianas y juegos aleatorios que generen interés en los estudiantes para organizar y registrar información en forma adecuada. Esto favorece la lectura, la inferencia y la comunicación de información cuantitativa.

Objetivos del capítulo

OA20: Recolectar y registrar datos para responder preguntas estadísticas sobre juegos con monedas y dados, usando bloques y tablas de conteo y pictogramas.

OA21: Registrar en tablas y gráficos de barra simple, resultados de juegos aleatorios con dados y monedas.

OA22: Construir, leer e interpretar pictogramas con escala y gráficos de barra simple.

Aprendizajes previos

• Contar y comparar con números hasta 60.

Actitud

Manifiestar un estilo de trabajo ordenado y metódico.

▶▶ Elige una de las tareas que haces en tu casa.



1 En el curso de Isabel, todos eligieron una tarea y pusieron su elección en el pizarrón.



a) ¿Cómo podrías contar el número de niños que eligió cada tarea?

¿Cómo lo hacías en 1° básico?



86

7

P. 86 | TE | Tablas y gráficos

Planificación 🕒 45 minutos

Recursos

Tarjetas con ilustraciones de tareas del hogar, rectángulos del mismo tamaño y de 6 colores diferentes (considere 15 tarjetas de cada color).

Propósito

Que los estudiantes exploren cómo representar gráficamente datos obtenidos de encuestas.

Habilidad

Representar/argumentar y comunicar

Gestión

Proyecte el enunciado del problema o preséntelo en un cartel y pídale que lo representen con material concreto (fichas, bloques base 10, cubos u otros materiales).

Después de dar un tiempo, haga una puesta en común para que compartan las maneras que han elegido para representar los datos del problema.

En la próxima página se analiza algunas posibles representaciones del problema que podrían hacer los estudiantes. Presente en la pizarra las tarjetas con las ilustraciones de las seis tareas o quehaceres del hogar que se muestra en el texto: “sacar la basura”, “lavar la ropa”, “ir de compras”, “limpiar el baño”, “lavar los platos”, “cocinar”. Invítelos a decir, uno a uno, cuál es el quehacer que más realizan en su casa e inmediatamente entregue un rectángulo de cartulina para que escriban esa actividad, procurando entregar siempre el mismo color para cada quehacer; por ejemplo: entregar el color celeste a todos los que responden “limpiar el baño”. Luego, cada niño pega su tarjeta en cualquier parte de la pizarra.

Pregunte: ¿Cómo sabemos cuál es la tarea que más eligieron? Se espera que reconozcan que, dado que las tarjetas están desordenadas, no se puede saber a simple vista, por lo que será necesario organizarlas.



Propósito

Que los estudiantes transfieran información de un gráfico a una tabla.

Habilidad

Representar/argumentar y comunicar

Gestión

Invite a los niños a observar las imágenes de la página anterior y la representación de los datos de esta página. Pregunte: ¿Este gráfico es similar al que se obtuvo en la clase? En este gráfico, ¿qué se prefiere más: ir de compras o cocinar? (tienen la misma preferencia). Procure que discutan sobre la importancia de poner las tarjetas ordenadas desde un mismo inicio; para ello, pueden utilizar una línea horizontal.

Haga preguntas para obtener información del gráfico, como: ¿Cuál es la tarea más elegida? ¿Cuál está en segundo lugar? ¿Se puede saber cuántos niños respondieron la pregunta en este curso? (si) ¿Cómo? (contando todas las tarjetas) ¿Qué otra información se puede obtener?

Sistematice que, si se utiliza una línea horizontal para comenzar a ubicar las tarjetas, se podrá comparar; de lo contrario no quedarán emparejadas.

En la actividad c), pídeles que completen la tabla con la información del gráfico.

b) Las tarjetas se organizaron como se muestra.

Conversen sobre cómo organizar las tarjetas para que puedan ver qué tareas hacen los niños del curso.



Escribamos las tareas elegidas en el pizarrón.

Pongamos las tarjetas en columnas.



c) Haz primero una tabla de conteo.

Tareas de la casa elegidas

Tarea	Limpiar el baño	Ir de compras	Sacar la basura	Cocinar	Lavar los platos	Lavar la ropa
Número de niños	7	4	5	4	9	3



 ¿Qué aprendí? • Ticket de salida página 87 • Tomo 1

Orientelos para que ordenen las tarjetas en columnas para que cada tarea quede emparejada con otra, como se muestra en la página siguiente.

Quando terminen, pregúnteles: ¿Ahora es más fácil saber cuál es la tarea más elegida? Desafíelos a obtener más información de la tabla; por ejemplo: ¿Cuál es la tarea menos elegida? ¿Hay dos tareas que tengan la misma preferencia?, etc.

Para finalizar, se sistematiza las ideas surgidas para registrar la información:

- 1) Conviene hacerlo en forma ordenada y utilizar distintos colores para distinguir cada tarea.
- 2) Por ello, es útil colocar una tarjeta arriba de la otra, a la misma altura de las demás.
- 3) Si ordenamos la información en un gráfico, podemos obtener información a simple vista.

Consideraciones didácticas

En 1° básico, los estudiantes disponían de tarjetas con dibujos que representaban una categoría; en cambio, en este nivel se presentan mediante palabras. Por ello, es importante que las tarjetas de una misma categoría sean de un mismo color para que puedan visualizarlas.

Para hacer este tipo de gráficas, los niños deben emparejar las tarjetas para poder comparar; por ende, las tarjetas deben tener el mismo tamaño y partir de un mismo punto.

Planificación 45 minutos

TE 35 minutos

CA 10 minutos

Propósito

Que los estudiantes construyan un gráfico a partir de los datos que se presenta en una tabla.

Habilidad

Representar/argumentar y comunicar

Gestión

Invite a los niños a comparar la tabla que completaron en la página anterior con la que se presenta en esta página.

En la actividad d), pintarán una barra que represente la cantidad de cada categoría sobre cada una de ellas.

Procure que valoren que, para comparar o determinar la diferencia entre dos cantidades, el gráfico permite una mejor visualización que la tabla, pero que si se quiere saber cuántas personas prefieren una determinada tarea, es más fácil usar la tabla.

Respecto de las preguntas e), f) y g), permita que las contesten de manera autónoma y que luego compartan sus respuestas.

Consideraciones didácticas

Invítelos a comparar la tabla que completaron en la página anterior con la que se presenta en esta página.

d) Completa la tabla con el número de niños que eligió cada tarea.

Tareas de la casa elegidas

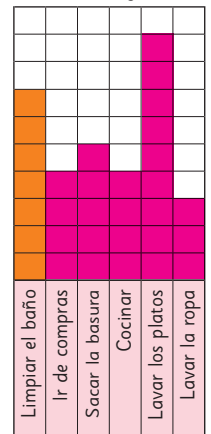
Tarea	Limpiar el baño	Ir de compras	Sacar la basura	Cocinar	Lavar los platos	Lavar la ropa
Número de niños	7	4	5	4	9	3

e) Pinta en el gráfico, los cuadros para representar el número de niños que eligieron cada tarea.

¿Es mejor mostrar los datos en la tabla o en el gráfico?



Tareas de la casa elegidas



f) ¿Cuál es la tarea que eligieron la mayoría de los niños?

La tarea más elegida fue "Lavar los platos"
9 niños eligieron esa tarea.

g) ¿Cuántos niños más lavan los platos que los que sacan la basura?

4 niños más.

h) ¿Cómo podemos hacer que el gráfico sea más fácil de leer?

¿Qué tal si dibujamos una línea horizontal más gruesa a lo largo del quinto cuadro?



¿Qué tal si escribimos 1,2,3,... a lo largo de la línea vertical del gráfico?



Cuaderno de Actividades página 39 • Tomo 1

¿Qué aprendí? • Ticket de salida página 88 • Tomo 1

1 Carlos investigó el tiempo en el mes de julio en su ciudad.


El tiempo en la ciudad de Carlos


1	2	3	4	5	6	7	8	9	10	11
Ventoso	Soleado	Soleado	Soleado	Nublado	Soleado	Soleado	Nublado	Lluvioso	Soleado	Soleado
12	13	14	15	16	17	18	19	20	21	22
Ventoso	Soleado	Nublado	Soleado	Nublado	Soleado	Soleado	Soleado	Soleado	Soleado	Ventoso
23	24	25	26	27	28	29	30	31		
Nublado	Ventoso	Ventoso	Soleado	Soleado	Soleado	Nublado	Soleado	Soleado		

a) Escribe el número de días para cada condición de tiempo en la siguiente tabla de más abajo.

El tiempo en la ciudad de Carlos

El tiempo en la ciudad de Carlos 				
Tiempo	Soleado	Nublado	Lluvioso	Ventoso
Número de días	19	6	1	5



b) En el gráfico de la derecha, representa el número de días pintando los cuadros .

c) ¿Hubo más días soleados o nublados? ¿Cuál fue la diferencia?

Hubo más días soleados.
La diferencia fue de 13 días.

 ¿Qué aprendí? • Ticket de salida página 89 • Tomo 1

Propósito

Que los estudiantes construyan gráficos y tablas de datos presentados a granel.

Habilidad

Representar/argumentar y comunicar.

Gestión

Pídales que observen la tabla que se presenta en el Texto del Estudiante. Pregunte: ¿Qué representan los números que están en las casillas celestes? (días del mes de julio). ¿Cómo estuvo el tiempo el 19 de julio? (soleado)

Luego, invítelos a organizar los datos primero en la tabla y luego, en el gráfico de la derecha. Basados en este, que respondan las preguntas b) y c).

Consideraciones didácticas

Procure que observen y comparen la información que obtienen en una tabla con datos a granel, con datos organizados en una tabla y con datos representados en una gráfica. Por ejemplo: si se quiere saber cómo estuvo un determinado día, no sirve observar la tabla o el gráfico, pero si se quiere saber cuántos días estuvieron nublados, es más fácil mirar la tabla, y si se quiere comparar los días nublados con los días soleados, es útil considerar la tabla o el gráfico, pero este último tiene una lectura más fácil.

Propósito

Que los estudiantes comparen la información de dos gráficos que contienen las mismas categorías.

Habilidad

Representar/argumentar y comunicar

Gestión

La actividad de esta página se basa en los datos recolectados por Cecilia sobre el tiempo de su ciudad, que es, de una ciudad diferente de la de Carlos. Así, las preguntas de esta página están orientadas a que comparen el gráfico de esta página con el de la página anterior. Antes de responder, lean en conjunto cada pregunta y pida que luego las analicen y respondan.

Note que los gráficos de ambas páginas contienen elementos que no permiten hacer una comparación visual, pues, por una parte, están en páginas diferentes y, por otra, el gráfico de la página anterior tiene menor tamaño y no contiene la misma cantidad de filas. Así, los estudiantes podrían pensar que en el gráfico de Cecilia hay menos días soleados que en el de Carlos, ya que a Cecilia le faltan 3 para completar el total y a Carlos le faltan sólo 2.

Para facilitar la lectura y comparación de ambos gráficos, los niños pueden proponer asignar un número a cada fila, asemejándose al eje vertical de un gráfico; de esta manera, no se necesitará contar, sino que bastará con mirar el número que le corresponde la última fila.

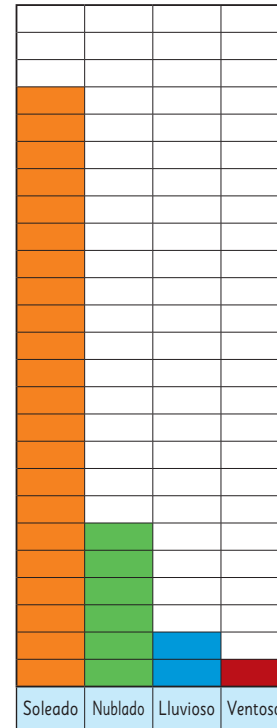
Destaque que es usual poner números ordenados de manera vertical para facilitar la lectura de gráficos, para que puedan ver rápidamente cuánto hay. Para evidenciar esto, puede mostrar imágenes de gráficos que aparecen en diarios, páginas web, etc.

1 Cecilia registró el tiempo en julio en su ciudad.

Sus datos están en el siguiente gráfico.

Responde las siguientes preguntas comparando este gráfico y el de la página anterior.

El tiempo en la ciudad de Cecilia



a) ¿Qué condición de tiempo tuvo el mismo número de días?
Nublado (6 días en ambas ciudades).

b) ¿Qué condición de tiempo tuvo la mayor diferencia entre los dos gráficos? ¿Cuál es la diferencia?

Escribe lo que averiguaste.
La condición de tiempo que tuvo mayor diferencia entre ambos gráficos es "Ventoso". La diferencia es de 4 días.

c) Escribe tus ideas en tu cuaderno y conversa acerca de ellas con tus amigos.

Evaluación formativa

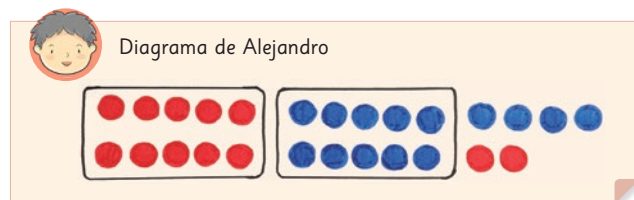
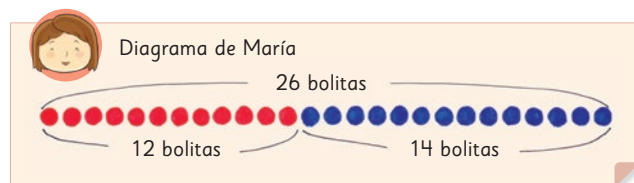
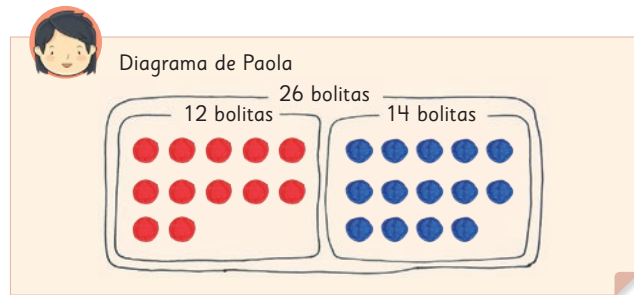
Muestre un gráfico que se hizo según los datos de una tabla e invítelos a verificar si se graficó correctamente y a enmendar el error.

►► Haz dibujos para las siguientes situaciones y problemas.

1 Hay 12 bolitas rojas y 14 bolitas azules.

En total, hay 26 bolitas.

a) Dibuja un diagrama para mostrar la situación.



91

8 P. 91 | TE | Suma y resta

Planificación 🕒 45 minutos

Recursos

Lápices de colores, cartulinas grandes o papel kraft.

Propósito

Que los estudiantes representen situaciones aditivas de suma, utilizando representaciones gráficas.

Habilidad

Representar y modelar.

Gestión

Esta actividad se realiza sin el Texto del Estudiante. El propósito es que los niños vivan el tránsito de la representación explícita de

Capítulo 8: Suma y resta

🕒 14 horas pedagógicas.

Visión general

El propósito de este capítulo es profundizar en la resolución de problemas aditivos rutinarios y no rutinarios, mediante el uso de diagramas (modelos de barras). Esto supone que los estudiantes realicen representaciones de la relación entre los datos e incógnita, para así decidir, justificadamente, cuál es la operación que resuelve el problema.

Objetivos del capítulo

OA9: Demostrar que comprende la adición y la sustracción en el ámbito del 0 al 100: > usando un lenguaje cotidiano y matemático para describir acciones desde su propia experiencia > resolviendo problemas con una variedad de representaciones concretas y pictóricas, de manera manual y/o usando software educativo > registrando el proceso en forma simbólica > aplicando los resultados de las adiciones y las sustracciones de los números del 0 a 20 sin realizar cálculos > aplicando el algoritmo de la adición y la sustracción sin considerar reserva > creando problemas matemáticos en contextos familiares y resolviéndolos.

OA10: Demostrar que comprende la relación entre la adición y la sustracción al usar la “familia de operaciones” en cálculos aritméticos y la resolución de problemas

Aprendizajes previos

- Sumar y restar números de hasta dos cifras.
- Resolver problemas aditivos simples.

Actitud

Abordar de manera flexible y creativa la búsqueda de soluciones a problemas.

cantidades hacia un tipo de representación que evoca esas cantidades.

Presente en un cartel el enunciado verbal de la situación aditiva que se plantea en el texto. Destaque que hay tres cantidades: bolitas rojas (una parte), bolitas azules (otra parte) y el total de bolitas (todo). Pídales que representen con dibujos la relación que se da entre las tres cantidades. Se sugiere que hagan sus dibujos con lápices de colores en pliegos de papel o cartulinas grandes para exponerlos después a sus compañeros. Otorgue tiempo para que diseñen sus esquemas y pídale que se visualice las tres cantidades involucradas.

Propósito

Que los estudiantes representen situaciones aditivas de suma mediante dibujos.

Habilidad

Representar / modelar.

Gestión

Se describe en esta página la gestión para que analicen los dibujos expuestos por los niños.

Se sugiere seleccionar 6 o menos, y que todos sean distintos y parecidos a los que se muestran en esta página y la anterior. Cada uno de los 6 niños presenta en la pizarra su dibujo y explica cómo lo hizo. Cuando todos hayan expuesto, permita que los analicen, estableciendo semejanzas y diferencias en las maneras de representar los tres datos de la situación aditiva. Finalmente, para sistematizar el trabajo anterior, pídeles que observen las páginas del Texto del Estudiante, analicen los diagramas hechos por los personajes del libro y los comparen con los que ellos hicieron. Se sugiere preguntas del tipo: ¿Aparecen todas las cantidades en los dibujos? ¿Por qué hay dos colores? ¿Por qué no hay un tercer color? ¿Por qué en algunos dibujos aparece un signo “más” y en otros no? ¿Por qué en el dibujo de José una barra es más corta que la otra?

Destaque que, de entre todos los diagramas, el de José tiene la ventaja de que se puede representar la situación sin necesidad de dibujar las bolitas una a una. Enfatice que:

- El rectángulo rojo representa las 12 bolitas rojas, es más corto que el rectángulo azul, que representa las 14 bolitas azules. Enfatice que el largo de los rectángulos (cintas) muestra las cantidades de manera comparativa y aproximada.
- Si juntamos las bolitas rojas y azules, tenemos un total de bolitas; por eso, los rectángulos están juntos.

Al dibujo de José lo llamaremos “diagrama” o “modelo de barras” y será de gran ayuda para resolver problemas.



Diagrama de Vicente

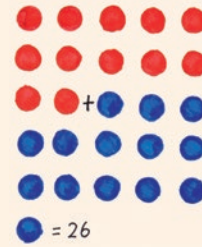


Diagrama de Amparo

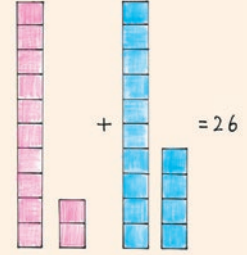
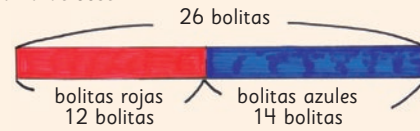


Diagrama de José



b) Hablemos sobre las buenas ideas de cada diagrama.

Es fácil ver las dos cantidades en todos ellos.

En algunos diagramas es fácil ver los grupos de 10.

Hay diagramas donde no tienes que dibujar las bolitas una a una.

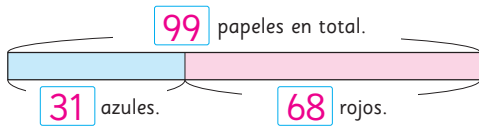
Algunos diagramas parecen útiles, aún con números más grandes.

Consideraciones didácticas

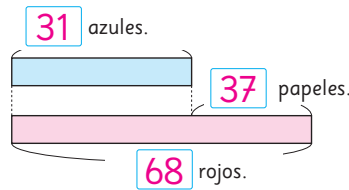
Cabe notar que los niños están representando una situación aditiva (no un problema, ya que no hay una incógnita que encontrar); es decir, una relación parte-todo entre tres cantidades.

Es importante diferenciar que, en la representación de los problemas, se intenta reflejar la acción de juntar involucrada en el problema y no la operación que lo resuelve. En ese sentido, los dibujos de Vicente y Amparo mezclan las cantidades y la acción de juntarlas con los signos “más” e “igual”. La idea, entonces, será hacer diagramas que no incluyan los signos formales para representar las acciones asociadas a los problemas.

- 2 Hay 31 papeles azules y 68 papeles rojos. Completa.

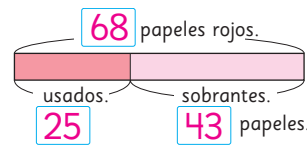


- b) ¿Hay más rojos o azules?
¿Cuántos más?
Hay más rojos.
Hay 37 más.



- c) Usé 25 papeles rojos.
¿Cuántos papeles rojos quedan?

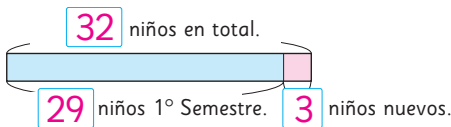
Quedan 43 papeles rojos.



- 3 En el primer semestre, había 29 niños en el curso de Hernán. Llegaron 3 niños nuevos a la clase el segundo semestre.

¿Cuántos niños hay ahora en el curso?

Ahora hay 32 niños.



 ¿Qué aprendí? • Ticket de salida página 93 • Tomo 1

93

Consideraciones didácticas

Es importante que identifiquen que, cuando hay dos cantidades, se las puede juntar o comparar. Si se juntan, las barras se yuxtaponen, y si se comparan, una barra se coloca abajo de la otra desde un mismo punto de partida. Esto es lo que sucede en los problemas a) y b) respectivamente.

En cambio, en los problemas c) y 3, hay una cantidad a la cual se le quita y agrega otra cantidad del mismo tipo. En cada caso, es complejo representar las acciones de agregar o quitar usando modelos de barras; por esto, aparecen dos barras yuxtapuestas en que una de ellas tiene un color distinto para reflejar la cantidad que se ha quitado o la que se ha agregado. Es decir, en los problemas en que aparezcan las acciones de juntar-separar y agregar-quitar, se representará dichas acciones de igual manera, con dos barras yuxtapuestas.

Recursos

Cartulinas, papel lustre (rectángulos de igual ancho pero distinto largo), cinta adhesiva y pegamento.

Propósito

Que los estudiantes resuelvan y representen con diagramas, problemas aditivos asociados a las acciones de juntar, comparar y quitar.

Habilidad

Representar / resolver problemas.

Gestión

Presente en un cartel el problema de la actividad 2, incluyendo el enunciado y las tres preguntas asociadas. Lean en conjunto el enunciado y de manera sucesiva cada pregunta. Dé un tiempo para que resuelvan cada problema, usando las cintas (barras) de papel lustre para elaborar los diagramas. Pregunte: ¿Cuál de los rectángulos debe ser más largo? ¿Cuánto más largo? ¿Por qué?

Cuando todos hayan terminado, haga una puesta en común para analizar los distintos diagramas. Se recomienda tener cartulinas en tamaño grande para que los alumnos las usen para formar los diagramas en la pizarra. Pregunte: ¿Por qué debemos poner los rectángulos rosados, celeste y rojos en diferentes lugares? (muestran diferentes operaciones).

En el problema a), las barras asociadas a las cantidades, 31 papeles azules y 68 rojos, se deben juntar, ya que se necesita encontrar el total de papeles.

En el problema b), las barras asociadas a las cantidades se deben ubicar una debajo de la otra desde un mismo punto de inicio, ya que se necesita compararlas.

En el problema c), a la barra asociada a la cantidad de papeles rojos se le debe sacar una parte, que corresponde a la cantidad de papeles que se usaron.

Realice la misma gestión para resolver el problema 3. Para calcular $29+3$, lo pueden hacer contando hacia adelante.

Cuando hayan resuelto los problemas, pídeles que analicen los diagramas de la página y los comparen con los que ellos hicieron. Luego, solicíteles que completen los recuadros, identificando los datos y la respuesta a todos los problemas.

 ¿Qué aprendí? ticket de salida página 93 • Tomo 1

Recursos

Cartulinas, papel lustre (rectángulos de igual ancho pero distinto largo), cinta adhesiva y pegamento.

Propósito

Que los estudiantes resuelvan y representen con diagramas, diversos problemas aditivos de comparación.

Habilidad

Representar/resolver problemas.

Gestión

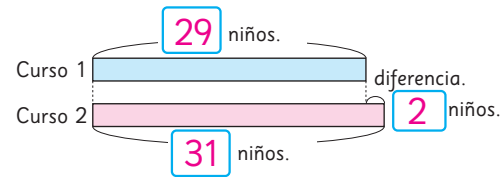
En esta página, se profundiza el aprendizaje de los problemas aditivos de comparación. Se recomienda seguir la misma gestión realizada anteriormente; es decir, dar un tiempo para que los niños los resuelvan usando diagramas, hacer una puesta en común y luego analizar los diagramas propuestos en el libro. Se sugiere hacer algunas preguntas para que examinen las características de los diagramas de comparación.

Para el problema 4: ¿Por qué la barra rosada es más larga que la celeste? (es más larga, porque en la clase 2 hay más alumnos que en la clase 1) ¿Podría ser más larga? (sí, pero es un poco más larga que la celeste, ya que el curso 2 tiene “un poco más” de niños que el curso 1).

Para el problema 5: ¿Se sabe la cantidad de piedras que recogió la niña? (Sí, 18 piedras) ¿Y la cantidad que recogió el profesor? (no se sabe). ¿Qué significa el 4? (son las piedras que recogió el profesor más que la niña) ¿Por qué la barra (cinta) rosada es más larga que la celeste? (es más larga, ya que el profesor recogió más piedras que la niña).

- 4 El curso 1 tiene 29 niños y el curso 2 tiene 31 niños.

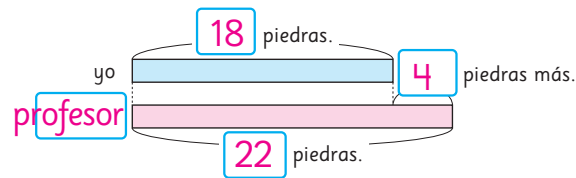
- a) ¿Cuál es la diferencia entre los dos cursos?



- b) ¿Cuántos niños menos hay en el curso 1 que en el curso 2?
Hay 2 niños menos.
- c) ¿Cuántos niños más hay en el curso 2 que en el curso 1?
Hay 2 niños más.

- 5 Recogí 18 hermosas piedras. El profesor dice que recogió 4 piedras más que yo.

¿Cuántas piedras recogió el profesor?



 ¿Qué aprendí? • Ticket de salida página 94 • Tomo 1

Consideraciones didácticas

Cabe notar que en el primer problema se da las dos cantidades y se pide encontrar su diferencia. Luego, los niños deben verbalizar esta diferencia de dos maneras distintas, pero equivalentes.

1. El curso 2 tiene 2 niños más que el curso 1.
2. El curso 1 tiene 2 niños menos que el curso 2.

De las dos maneras, es más evidente para los alumnos describir la relación de la primera forma. En el problema 2, de una naturaleza didáctica más compleja, se da una cantidad y la diferencia con otra, y se pide encontrar la otra cantidad que se compara.

Recursos

Cartulinas, papel lustre (rectángulos de igual ancho pero distinto largo), cinta adhesiva y pegamento.

Propósito

Que los estudiantes resuelvan y representen con diagramas, problemas aditivos asociados a las acciones de juntar, comparar y quitar.

Habilidad

Representar / resolver problemas.

Gestión

En esta página también se profundiza el aprendizaje de los problemas aditivos de comparación. Los problemas son más complejos que los estudiados hasta el momento. Se sugiere continuar con la misma gestión realizada para los problemas anteriores. Cuide de no dar el dibujo en el problema 7, ya que los niños pueden resolver el problema contando. Una vez que se analice el texto, pueden verificar la respuesta al problema contando.

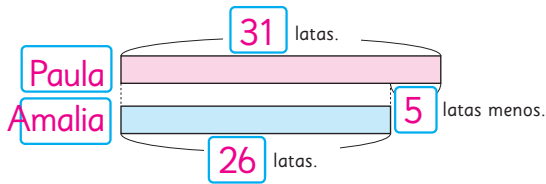
Se sugiere hacer algunas preguntas para que examinen las características de los diagramas de comparación.

Para el problema 6: ¿Por qué la barra rosada es un poco más larga que la celeste? (es un poco más larga, porque la diferencia es “pequeña”; es decir, 5 latas) ¿Se sabe la cantidad de latas que recogió Paula? (Sí, 31) ¿Y la cantidad que recogió Amalia? (no se sabe). ¿Qué significa el 5? (son las latas que recogió Amalia menos que Paula, es la diferencia entre las latas que recogieron las niñas).

Para el problema 7: ¿Cuántos niños están sentados? (8) ¿Cómo lo sabes? (porque hay 8 sillas) ¿Cuántos están de pie? (13) ¿Es posible saber la cantidad de niños que aparecen en la foto? (Sí, calculando $8 + 13$).

- 6 Paula recogió 31 latas y Amalia 5 menos. ¿Cuántas latas recogió Amalia?

Amalia recogió 26 latas.



- 7 En el curso de Pedro se tomaron una foto. 8 de ellos quedaron sentados y 13 de pie.

¿Cuántos niños salieron en la foto?

Salieron 21 niños en la foto.



¿Cuántos se sentaron?



 ¿Qué aprendí? • Ticket de salida página 95 • Tomo 1

95

Consideraciones didácticas:

En el problema 5, la diferencia se describe “4 piedras más que”; en cambio, en el problema 6 la diferencia se describe “5 latas menos que”. Para la representación con diagramas, es más evidente para los niños representar la primera relación más que la segunda, ya que les es difícil representar las “latas que no hay”. En resumen, la comparación “por diferencia entre dos cantidades” se puede enunciar de tres maneras diferentes, y se puede representar con un mismo diagrama. Por ejemplo:

1. Lorena tiene 8 lápices menos que Carlos.



2. Carlos tiene 8 lápices más que Lorena.



3. La diferencia entre la cantidad de lápices de Carlos y Lorena es 8.

Planificación  45 minutosTE  30 minutos | CA  15 minutos**Recursos**

Cartulinas, papel lustre (rectángulos de igual ancho pero distinto largo), cinta adhesiva y pegamento.

Propósito

Que los estudiantes resuelvan problemas aditivos en que la operación no se corresponde con la acción involucrada en el problema.

Habilidad

Representar/resolver problemas.

Gestión

Se sugiere continuar con la misma gestión realizada para los problemas anteriores.

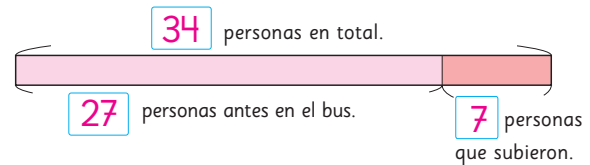
Después de que analicen el diagrama del Texto del Estudiante, pídeles que escriban la expresión matemática que representa la situación.

Observando el diagrama deducen que, si se conoce el total (34 personas que quedan en el bus) y una parte (27 personas que había), es posible saber la otra parte (personas que subieron) restando. Es decir, el cálculo $34 - 27$ permite encontrar la cantidad de personas que subieron al bus.

8 Un bus lleva 27 pasajeros.

Subieron más pasajeros y ahora hay 34 en total.

¿Cuántas personas más subieron al bus?



a) Escribe la frase numérica.

$$34 - 27$$

b) Completa el diagrama con los números y responde la pregunta.

Subieron **7** personas más.

 Cuaderno de Actividades página 42 • Tomo 1

 ¿Qué aprendí? • Ticket de salida página 96 • Tomo 1

Consideraciones didácticas

En esta página, se estudia un problema en que la acción del tipo agregar no se corresponde con la suma. En este tipo de problemas, el uso de diagramas es fundamental, ya que ayuda, en este caso, a comprender por qué se debe restar, siendo que la acción es del tipo agregar. La investigación señala que estos problemas son los más difíciles para los niños, ya que contravienen lo que han venido aprendiendo: la suma se asocia a agregar y la resta a quitar. Así, será fundamental que representen los datos y la incógnita con diagramas para luego identificar la operación que resuelve el problema.

 Cuaderno de Actividades página 42 • Tomo 1

 ¿Qué aprendí? ticket de salida página 96 • Tomo 1

Propósito

Que los estudiantes resuelvan problemas aditivos en que la operación no se corresponde directamente con la acción involucrada en el problema.

Habilidad

Representar / resolver problemas.

Gestión

En esta página, se estudia un problema en que la acción del tipo quitar no se corresponde con la resta, sino con la suma. Al igual que en el problema anterior, en este tipo de problemas es importante el uso de diagramas, ya que ayuda a los niños comprender por qué se debe sumar, aunque la acción sea del tipo quitar.

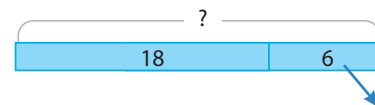
Una vez que analizan el diagrama del texto, pídeles que escriban la expresión matemática que representa la situación:

$$18 + 6$$

Observando el diagrama deducen que, si se conoce una parte (6 bolitas regaladas) y otra parte (bolitas que quedan), es posible saber el total (bolitas que tenía) sumando. Es decir, el cálculo $18+6$ permite encontrar la cantidad de bolitas que tenía al principio.

Consideraciones didácticas

En este caso y en los problemas anteriores, los niños pueden elaborar los diagramas sin describir las cantidades involucradas. (En tal caso, incítelos a que las describan). Asimismo, pueden usar símbolos para consensuar cuándo se está “quitando” o “agregando”. Por ejemplo: en el problema 9, pueden hacer un diagrama como el siguiente:



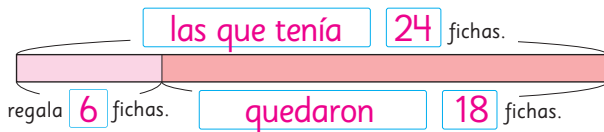
Lo que se quita puede tener el mismo color que lo que queda, ya que son parte de una misma cantidad. La flecha hacia abajo indica que esa cantidad se quita.

- 9 Tamara tenía algunas fichas. Le dio 6 a su hermana y en la bolsa quedaron 18.

¿Cuántas tenía al principio?



Si dice “le dio a su hermana”, ¿debo sumar o restar?



- a) Escribe la frase numérica.

$$18 + 6$$

- b) Completa los números que conoces y descubre cuántas fichas tenía al principio.

Al principio tenía 24 fichas.

 ¿Qué aprendí? • Ticket de salida página 97 • Tomo 1

Planificación  45 minutos

Recursos

Cartulinas, papel lustre (rectángulos de igual ancho pero distinto largo), cinta adhesiva y pegamento.

Propósito

Que los estudiantes resuelvan problemas aditivos en que la operación no se corresponde con la acción involucrada en el problema.

Habilidad

Representar/resolver problemas.

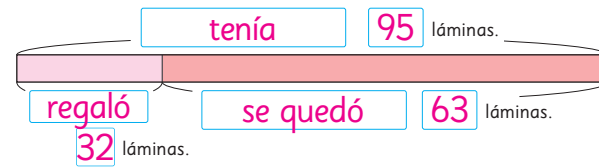
Gestión

Se sugiere continuar con la misma gestión realizada para los problemas anteriores.

Después de que analicen el diagrama del Texto del Estudiante, pídeles que escriban la expresión matemática que representa la situación.

- 10 Jorge tenía 95 láminas. Le dio algunas a su amiga y se quedó con 63.

¿Cuántas le dio a su amiga?



- a) Escribe la frase numérica.

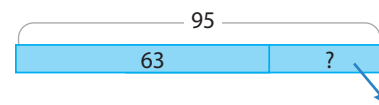
$$95 - 63$$

- b) Completa el diagrama y descubre el número de láminas que le dio a su amiga. **Le dio 32 láminas a su amiga.**

 ¿Qué aprendí? • Ticket de salida página 98 • Tomo 1

Consideraciones didácticas

Los niños pueden identificar que el cálculo $95-63$ permite encontrar la respuesta al problema, dejándose llevar por la palabra clave "regaló". Sin embargo, las 63 láminas no es la cantidad que regala a su amiga, sino las que quedan una vez que le regala a su amiga. Para que entiendan por qué es necesario hacer ese cálculo, es útil hacer un diagrama para representar la situación.



95 son las láminas que tenía, la flecha indica que se saca una cantidad desconocida de láminas, y la barra con el número 63 representa la cantidad de láminas que quedan.

 ¿Qué aprendí? ticket de salida página 98 • Tomo 1

11 Hay 20 cintas azules y 24 cintas rojas. En total hay 44.

a) Hagamos problemas usando estos números.



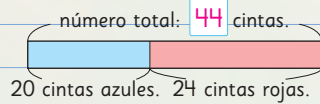
Problema de Laura

Yo hice un problema que pregunta por el número total.



Hay 20 cintas azules y 24 cintas rojas.

¿Cuántas cintas hay en total?



Frase numérica: $20 + 24$



Problema de Diego

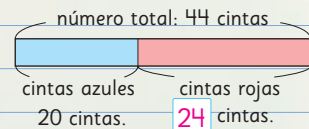
Yo hice un problema que pregunta por el número de cintas rojas.



Hay cintas azules y cintas rojas.

El número total de cintas es 44.

Hay 20 cintas azules. ¿Cuántas cintas rojas hay?



Frase numérica: $44 - 20$

99

Consideraciones didácticas

Existe una relación aditiva entre las partes dadas, que se llama parte-todo. Al juntarse, las dos partes forman el todo. Cintas azules y cintas rojas forman un total de cintas. Si $20 + 24 = 44$, entonces $44 - 20 = 24$ y $44 - 24 = 20$. Así, se puede decir que estos tres números están conectados en forma aditiva. Esta relación determina los problemas que se puede formular.

Propósito

Que los estudiantes creen problemas aditivos, usando datos y un contexto dado (dos partes y el total).

Habilidad

Representar / argumentar y comunicar.

Gestión

Presente a los niños los datos de la actividad 11. Dígalos que con esos datos deben crear un problema, manteniendo el contexto. Luego tienen que hacer un esquema que permita encontrar la respuesta al problema.

Cuando todos hayan creado su problema y esquema, haga una puesta en común para que los expongan y expliquen. Se sugiere seleccionar problemas y esquemas para enriquecer el análisis. En un ambiente de respeto y valoración del trabajo, genere las condiciones para que los comparen, identificando la claridad, la relación entre las barras y las cantidades, la redacción del problema, la incógnita, si la solución es la correcta, etc.

Cuando hayan analizado diversos problemas, pídale que analicen los problemas y esquemas de la página. Pregunte: ¿Se parecen a los que ustedes hicieron?

En el problema y el esquema creados por Laura, asociados a la acción de juntar, se dan las partes y hay que encontrar el total; es decir, la cantidad de cintas que hay en total.

En el problema y el esquema creados por Diego, asociados a la acción de separar, se da una parte y el total, y hay que encontrar la otra parte; es decir, la cantidad de cintas rojas.

Propósito

Que los estudiantes creen problemas aditivos a partir de esquemas dados.

Habilidad

Representar/ argumentar y comunicar.

Gestión

En la actividad b), se les pide que inventen un problema en que se pregunta por las cintas azules y que hagan un diagrama. Dé un tiempo para que lo elaboren y luego haga una puesta en común para analizarlos.

En la actividad 12, se les pide que formulen problemas, usando los esquemas que se dan.

En a), el esquema sugiere un problema como el siguiente:

Un niño tenía 15 barras de chocolate. Regaló algunas. Ahora tiene 9. ¿Cuántas barras regaló?

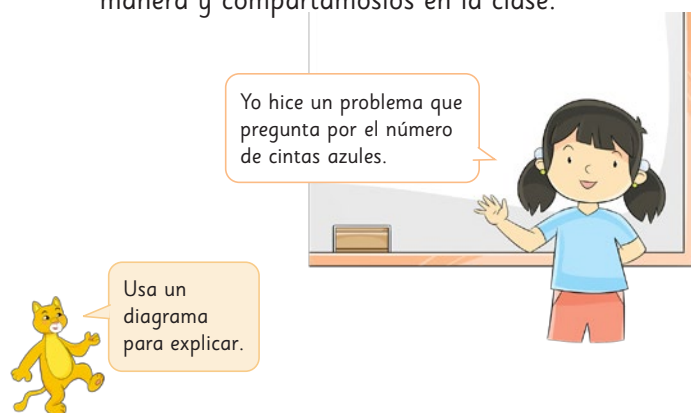
En b), el esquema sugiere un problema como el siguiente:

Un niño tenía 8 lápices. Compró más. Ahora tiene 18. ¿Cuántos lápices compró?

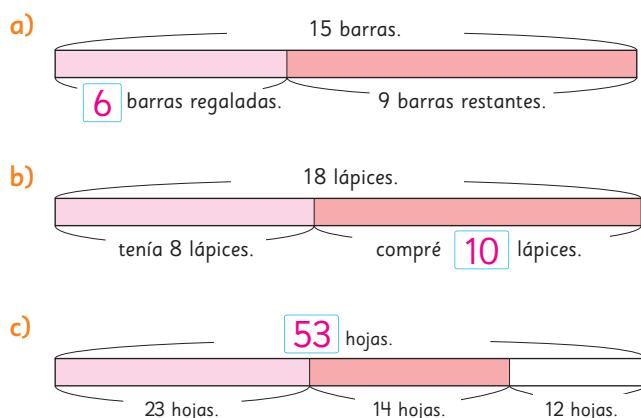
En c), el esquema sugiere un problema como el siguiente:

Un niño ha usado hojas de su cuaderno: 23 para hacer dibujos, 18 para matemáticas y 12 para lenguaje. ¿Cuántas páginas ha usado en total?

- b) Hagamos otros problemas matemáticos de la misma manera y compartámoslos en la clase.



- 12 Hagamos problemas basados en los diagramas siguientes.



 ¿Qué aprendí? • Ticket de salida página 100 • Tomo 1

Consideraciones didácticas

Es muy importante que los niños lean los datos de la actividad 12 que aparecen en los diagramas y los asocien al tamaño de las barras. En el primer problema, la palabra “regaladas” sugiere que el diagrama representa una acción de quitar. Por tanto, el problema debiera involucrar tres momentos (lo que había, lo que ocurrió y lo que queda). De la misma manera, en el segundo problema aparece la palabra “compradas”, que sugiere la acción de agregar. En el tercer problema no aparecen en los diagramas palabras que sugieran una acción; por ende, los niños podrían usar cualquier acción para crear un problema por ejemplo:

Usé 23 hojas de mi cuaderno para hacer avioncitos, 18 para hacer dibujos y regalé 12 a un compañero. ¿Cuántas hojas gasté?

13 Los niños están parados en una fila.

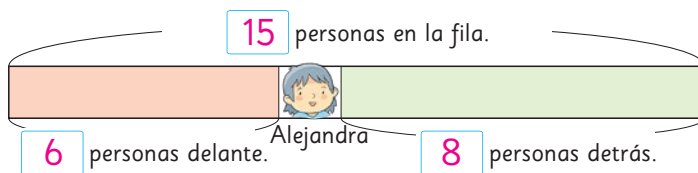
Resuelve los problemas siguientes.




- Fernando es el cuarto desde el principio de la fila. Lucía es la quinta detrás de Fernando. ¿Cuál es la posición de Lucía desde el principio? *La posición de Lucía desde el principio es 9°.*
- Hay 9 niños delante de Raúl. ¿En qué posición está Raúl desde el principio de la fila? *La posición de Raúl desde el principio es 10°.*
- Teresa es la quinta desde el principio de la fila, y es también la séptima desde atrás. ¿Cuántos niños hay en la fila? *Hay 11 niños en la fila.*

14 En la fila de Alejandra hay 6 personas delante de ella y 8 personas detrás.

¿Cuántas personas hay en la fila?



 Cuaderno de Actividades páginas 43 y 44 • Tomo 1
 ¿Qué aprendí? • Ticket de salida página 101 • Tomo 1

101

Propósito

Que los estudiantes resuelvan problemas aditivos no rutinarios en situaciones de ubicación espacial.

Habilidad

Representar / resolver problemas.

Gestión

Se estudian dos problemas aditivos en el contexto de números ordinales.

Pida que respondan las 3 preguntas de la actividad 13, apoyándose en la imagen de los niños de la fila.

En a), se espera que reconozcan que el cálculo $4 + 5$ permite encontrar la posición de Lucía desde el principio.


En b), se espera que reconozcan que el cálculo $9 + 1$ permite encontrar la posición Raúl desde el principio.

En c), se espera que reconozcan que el cálculo $5 + 6$ o $5 + 7 - 1$ o $4 + 7$ permiten encontrar la cantidad de niños que hay en la fila.

En el problema 14, se presenta un problema parecido al c), pero sin apoyo gráfico; por tanto, guíelos para que hagan un esquema que represente la situación. Se espera que concluyan que $6 + 1 + 8$ es el cálculo que permite encontrar la cantidad de niños que hay en la fila.


Consideraciones didácticas

En el problema 13, se presenta la fila de niños; en cambio, en el problema 14, se espera que representen la situación con un diagrama. Asimismo, interesa que reconozcan que, para resolver cada problema, se puede sumar en vez de contar. De igual manera, si visualizan la situación de los niños en la fila, les puede ayudar a resolver el problema 14, incluso sin la necesidad de elaborar el diagrama.



Aventura Matemática

Hay fragmentos de la llave para el cofre del tesoro escondidos por todo el pueblo. Encontramos los fragmentos y armemos la llave. Para encontrar los fragmentos, responde las preguntas.



Los lugares de los fragmentos



- 1 De compras
- 2 Diciendo la hora
- 3 Midiendo en centímetros



P. 103 | TE | Aventura Matemática

Planificación  10 minutos

Propósito

Que los estudiantes comprendan de qué se tratará el desafío presentado.

Habilidad

Argumentar y comunicar.

Gestión

Lea y analice esta página junto con los niños.

Invítelos a asumir el desafío de abordar las actividades de las páginas siguientes, ya que por cada actividad superada podrán encontrar un fragmento de la llave con la cual podrán abrir el cofre del tesoro.

Motívelos, preguntándoles qué creen o les gustaría que haya dentro del cofre.

Aventura Matemática

 6 horas pedagógicas

Visión general

En estas páginas del texto, se abordan problemas no rutinarios que integran distintas habilidades matemáticas que se han estudiado en la primera parte del año. Los estudiantes aplican sus conocimientos de números y operaciones aditivas, mediante situaciones de compras, cálculo de intervalos de tiempo y longitudes. Como motivación para resolver estas desafiantes actividades, deben buscar los fragmentos de una llave con la cual podrán abrir el cofre del tesoro.

Objetivos del capítulo

OA9: Demostrar que comprende la adición y la sustracción en el ámbito del 0 al 100: › usando un lenguaje cotidiano y matemático para describir acciones desde su propia experiencia › resolviendo problemas con una variedad de representaciones concretas y pictóricas, de manera manual y/o usando software educativo › registrando el proceso en forma simbólica › aplicando los resultados de las adiciones y las sustracciones de los números del 0 a 20 sin realizar cálculos › aplicando el algoritmo de la adición y la sustracción sin considerar reserva › creando problemas matemáticos en contextos familiares y resolviéndolos.

OA18: Leer horas y medias horas en relojes digitales, en el contexto de la resolución de problemas.

OA19: Determinar la longitud de objetos, usando unidades de medidas no estandarizadas y unidades estandarizadas (cm y m), en el contexto de la resolución de problemas.

OA14: Representar y describir la posición de objetos y personas en relación a sí mismos y a otros objetos y personas, incluyendo derecha e izquierda y usando material concreto y dibujos.

Actitud

Manifestar curiosidad e interés por el aprendizaje de las matemáticas.

Propósito

Que los estudiantes analicen, interpreten y extraigan información desde una ilustración.

Habilidad

Argumentar y comunicar

Gestión

Otorgue tiempo breve para que los niños observen detenidamente la ilustración de estas páginas y después comenten lo que observan (un pueblo que está rodeado de bosques, que tiene un colegio, un banco, una estación de trenes, plazas, etc.).

Para favorecer la argumentación y comunicación, puede hacer preguntas como: ¿Qué hay cerca de la casa de Elena? (el hospital, el correo) Desde la casa de Elena hasta el correo, ¿se necesita cruzar el río? (si) ¿Y desde la casa de Javier? (no) ¿Quién tarda más tiempo en trasladarse al colegio: Elena o Javier. (Javier, porque él debe cruzar el río para llegar y en cambio Elena no) ¿Creen que Javier necesita tomar un autobús para llegar al parque? ¿Cómo podríamos describir el lugar donde se encuentra el auto rosado? (cerca o al lado del parque) El centro comercial, ¿está a tu derecha o a tu izquierda? (a mi izquierda).

Procure que anticipen lo que van a estudiar en estas páginas. Plantee que lo que ejercitarán a continuación serán problemas desafiantes que requerirán el trabajo colaborativo, donde es muy importante el aporte de todos.





Propósito

Que los estudiantes resuelvan un problema aditivo no rutinario en contexto de dinero y compartan sus estrategias y técnicas, valorando la más eficaz.

Habilidad

Resolver problemas/argumentar y comunicar.

Gestión

Proyete la página e invite a los niños a observarla y comentarla, para que calculen cuánto dinero gastará Jorge en comprar un queque, dos medialunas y cinco galletones.

Dé un tiempo para que resuelvan el problema en parejas. Mientras trabajan, observe sus estrategias, sin intervenir mayormente, pues luego las compartirán, contrastarán y validarán en una puesta en común. Dado que se trata de sumas en un ámbito numérico mayor a 100, identifique qué técnicas usan para hacer los cálculos: si descomponen, si usan el algoritmo convencional, u otras.

Consideraciones didácticas

Se puede abordar este tipo de problemas no rutinarios con diferentes estrategias; sin embargo, es importante identificar las que son más eficaces, ya sea por su economía de tiempo o facilidad de cálculo de acuerdo a la relación entre los números. Algunas pueden ser:


Estrategia 1: Calcular $60 + 80 + 80 + 40 + 40 + 40 + 40 + 40$. Se va realizando sumas parciales de izquierda a derecha de acuerdo a los resultados que se va obteniendo ($140+80...$)

Estrategia 2: Calcular $60 + 80 + 80 + 40 + 40 + 40 + 40 + 40$. Se asocia y descompone los números para formar 100 ($60 + 60 + 20 + 60 + 20 + 40 + 40 + 40 + 40 + 40$).

1 De compras

¿Qué compro?

a) Compremos pasteles.



b) Jorge compró 1 queque, 2 medialunas y 5 galletones. ¿Cuánto dinero gastó? **Gastó \$ 420.**

Estrategia 3: Se calcula lo que se gastará por tipo de queque y luego se suma todo ($60 + 160 + 200$).

Estrategia 4: Calcular considerando solo los dígitos, luego agregar los ceros al resultado y utilizar las propiedades aprendidas, como la asociatividad; por ejemplo:

$$6 + \underbrace{8 + 8}_{16} + \underbrace{4 + 4}_{16} + \underbrace{4 + 4}_{16} + 4 \rightarrow 16 + 16 + 10 \rightarrow 42 \rightarrow 420$$

Jorge tiene una moneda de 500 pesos, tres monedas de 100 pesos y tres monedas de 10 pesos.



Jorge tiene 7 monedas. Él quiere pagar por su compra y quedar con la mínima cantidad de monedas.



Bueno, un queque vale 60 pesos, dos medialunas valen $80 + 80$ pesos. Cinco galletones valen $40 + 40 + 40 + 40 + 40$ pesos.

¿Cuánto dinero tienes?



¿Cuánto le queda?

A



5 monedas

B



8 monedas

C



10 monedas

D



14 monedas



107

Consideraciones didácticas

Abordar este tipo de problemas implica abrir un espacio para que los niños planteen sus ideas, dudas, propuestas, y las argumenten. El profesor cumple un rol de mediador: guía la discusión y plantea preguntas para que debatan. Debe destinarles el tiempo necesario y no sancionar las respuestas incorrectas, sino que sean los mismos estudiantes quienes las validen y propongan ideas para enmendar los errores. Dada la complejidad del problema, es importante que simulen la situación con dinero para probar por ensayo y error distintas maneras de pagar para obtener la menor cantidad de monedas.

Recursos

Monedas de \$500, \$100, \$50 y \$10.

Propósito

Que los estudiantes resuelvan un problema aditivo no rutinario y compartan sus estrategias y técnicas, valorando la más eficaz.

Habilidad

Resolver problemas/argumentar y comunicar.

Gestión

Después de que encuentren la cantidad de dinero que gastará Jorge en comprar los pasteles, en la página anterior, invítelos a sacar su Texto del Estudiante y a resolver el nuevo desafío: pagar por los queques y quedar con la menor cantidad de monedas posibles.

Pregunte: ¿Cuánto dinero tiene Jorge? (\$830) ¿Le alcanza para comprar los queques? (sí, porque tiene más de \$420).

Se recomienda que trabajen en parejas y que utilicen dinero ficticio para que simulen la situación y lleguen a una respuesta. Luego, realice una puesta en común para compartir los resultados y estrategias. Algunas pueden ser:

Estrategia 1. Pagar con la moneda de \$500, obteniendo \$80 de vuelto. La menor cantidad de monedas que forman \$80 es 4, una moneda de \$50 y tres de \$10. Así, estas 4 monedas se suman a 3 de \$100 y 3 de \$10, obteniendo 10 monedas.

Estrategia 2. Pagar con la moneda de \$500, obteniendo \$80 de vuelto. Se recibe 8 monedas de \$10. Así, estas 8 monedas se suman a 3 de \$100 y 3 de \$10, obteniendo 14 monedas.

Estrategia 3. Pagar \$320 con 3 monedas de \$100 y 2 monedas de \$10. Luego, pagar con la moneda de \$500 por los \$100 que faltan, recibiendo \$400 de vuelto. Así, las 4 monedas de \$100 que se recibe de vuelto se suman a la moneda de \$10 que le quedó, obteniendo 5 monedas (que es la menor cantidad de monedas).

Estrategia 4. Pagar con una moneda de \$500 y dos de \$10, y recibir de vuelto \$100 ($520 - 420 = 100$). Así, esta moneda de \$100 se suma a 3 de \$100 y 1 de \$10, obteniendo 5 monedas.

Propósito

Que los estudiantes resuelvan un problema no rutinario que involucra orientarse en el espacio y calcular el tiempo transcurrido y las horas de inicio y de término de un recorrido.

Habilidad

Resolver problemas.

Gestión

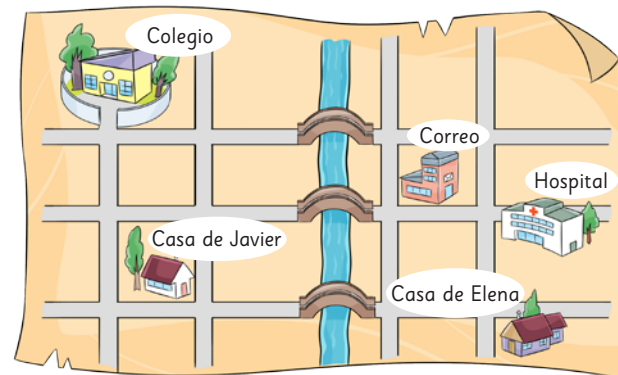
Proyete la página e invite a los niños a leer de manera colectiva la situación.

Destaque que la distancia es cuán lejos o cuán cerca están dos objetos; sin embargo, el camino o recorrido que se realice para llegar desde un lugar al otro puede tener diferentes longitudes y, por tanto, tardarse más o menos en llegar (muestre esta idea, dibujando distintos caminos desde un lugar a otro, caminos largos y caminos cortos).

Desafíelos a buscar posibles rutas para cada niño mirando su Texto del Estudiante, recalque que la ruta elegida debe contemplar que Javier y Elena se encontraron frente al hospital y, además, tardaron casi el mismo tiempo en llegar hasta ahí.

2 Diciendo la hora

El colegio, la casa de Elena y la casa de Javier están todos en calles ordenadas en cuadrículas. Ellos escribieron en sus diarios más abajo. Les tomó casi el mismo tiempo caminar y encontrarse.



Diario de Elena



(martes)

Salí del colegio a las 4:00 pm y me fui directo a mi casa. Me encontré con Javier frente al hospital.

Diario de Javier



(martes)

Salí de mi casa y pasé frente al correo para ir al hospital.

Me encontré con Elena frente al hospital.



Hablemos sobre lo que dijeron en sus diarios.



Pensemos a qué hora salió Javier de su casa.



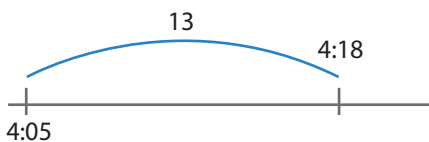
109

Orientélos para que entiendan que:

- Si Javier tardó 13 minutos desde su casa hasta el hospital, salió de su casa después de que Elena salió de su colegio.
- Si Elena salió a las 4:00 PM desde el colegio y tardó 18 minutos en llegar al hospital, entonces pasó por ahí a las 4:18 horas.
- Entonces, Elena y Javier se encontraron en el hospital a las 4:18 horas.
- Así, para saber a qué hora salió Javier de su casa, se debe restar 13 minutos a las 4:18 horas; o sea, salió a las 4:05 horas.

Consideraciones didácticas

Grafique recorrido de Javier:



Propósito

Que los estudiantes resuelvan un problema no rutinario que involucra orientarse en el espacio y calcular el tiempo transcurrido y las horas de inicio y de término de un recorrido.

Habilidad

Resolver problemas/argumentar y comunicar.

Gestión

Una vez que cada niño haya explorado las rutas en la página anterior, pídale que observen el mapa de esta página e incentívelos para que reconozcan que recorrer cada cuadra tiene una duración de tiempo diferente, porque tienen distinta longitud. Organícelos en grupos de 4 para que compartan su ruta con los compañeros de equipo y expondrán su hipótesis sobre cuál creen es una posible ruta que recorrieron Elena y Javier.

Orientélos para que no olviden considerar que ambos tardaron "casi el mismo tiempo" en hacer el recorrido. Para ello, deberán calcular los tiempos de recorrido de Elena y de Javier. Luego, invítelos a resolver la segunda parte del problema: ¿A qué hora salió Javier desde su casa?

Finalmente, cada equipo presenta su solución, mientras el resto valida las respuestas y aporta a la discusión. Posibles respuestas:

- Si Javier pasó por el correo, entonces sus recorridos pudieron haber sido:
 $\uparrow 3 \text{ min} + \rightarrow 6 \text{ min} + \rightarrow 4 \text{ min} = 13 \text{ minutos}$ ó
 $\rightarrow 6 \text{ min} + \rightarrow 4 \text{ min} + \uparrow 3 \text{ min} = 13 \text{ minutos}$.
- Si Elena iba a su casa y pasó por el hospital, sus recorridos pudieron haber sido:
 $\rightarrow 5 \text{ min} + \rightarrow 6 \text{ min} + \rightarrow 4 \text{ min} + \downarrow 3 \text{ min} = 18 \text{ min}$
 $\downarrow 3 \text{ min} + \rightarrow 5 \text{ min} + \rightarrow 6 \text{ min} + \rightarrow 4 \text{ min} = 18 \text{ min}$.

Recursos

2 set de barras de cartulina de 3 cm y 8 cm por pareja de alumnos.

Propósito

Que los estudiantes resuelvan un problema no rutinario que involucra el cálculo de longitudes, mediante la composición y descomposición de longitudes.

Habilidad

Resolver problemas/argumentar y comunicar.

Gestión

Proyete la página 110 en la pizarra y motíuelos a leer y comentar lo que observan en la ilustración. Luego analicen juntos la situación del problema de la página 110. Deténgase para que reconozcan cómo se logra obtener una barra de 11 cm y otra de 5 cm.

Luego organice al curso en parejas. Entregue a cada pareja dos barras de 3 cm y dos de 8 cm. Desafíelos a encontrar la mayor cantidad de medidas utilizando las barras.

Motíuelos a explorar y anotar las medidas que encuentran, usando alguna representación; esto les ayudará en la segunda parte del problema.

Por ejemplo:

1)

8	8
3	3

$$16 - 6 = 10$$

2)

8	8	3
---	---	---

$$16 + 3 = 19$$

3)

8	3	3
---	---	---

$$8 + 6 = 14$$

4)

8	
3	3

$$8 - 6 = 2$$


3 Midiendo en centímetros

Vamos a la tienda de dulces. Están haciendo dulces en barra. Para cortarlos del mismo largo, usan palitos como medida. Usan dos palitos diferentes para hacer dos tipos de dulces.

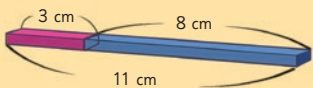




Hay dos barras. Una mide 3 cm y la otra 8 cm. Descubre cuántas longitudes diferentes puedes medir, usando estas dos barras.



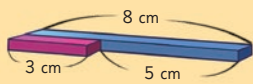
Las barras de 3 cm y 8 cm juntas suman 11 cm.



Puedes medir **11 cm**.



8 cm de una barra y 3 cm de otra barra puestas una junto a la otra.

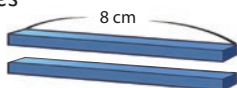


Puedes medir **5 cm**.

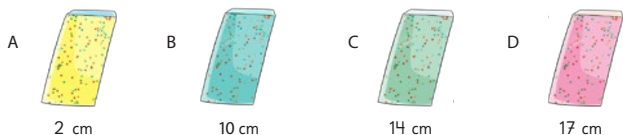
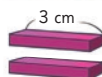


Puedes medir diferentes longitudes cuando usas estas barras.

a) ¿Cuántas longitudes diferentes puedes medir si tienes dos juegos de estas barras?



b) No puedes medir una de las alternativas de abajo. ¿Puedes distinguir cuál?



Enseguida, invítelos a resolver la segunda parte del desafío, procure que lo resuelvan de manera autónoma y que luego comuniquen y argumenten sus respuestas en una puesta en común. Conciérrdan que la longitud de medida 17 cm no se puede construir con las longitudes dadas.

Finalmente, destaque ideas surgidas en la clase, mostrando las barras para representar cada una de ellas:

- Si se junta dos medidas, se puede obtener otra mayor.
- Si se coloca una debajo de otra, obtenemos otra medida que es lo que le "sobra" a una en relación con la otra, y esa medida se obtiene restando.

Finalmente, invítelos a recortar otro fragmento de la llave.

Consideraciones didácticas

En esta actividad, los estudiantes aplican las competencias desarrolladas en el capítulo 8, donde se estudia los diagramas para representar acciones de juntar y comparar cantidades.

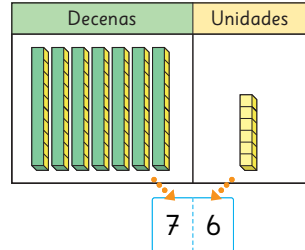
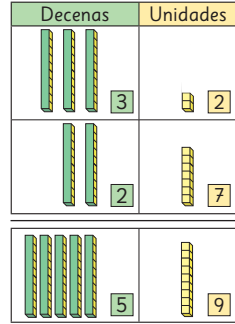

Gestión

Muestre esta página a sus estudiantes al término de cada concepto y dígales que pueden consultarlas si tienen alguna duda o simplemente para releerlo o mirar los dibujos.

Para finalizar el estudio de las unidades del año escolar, invítelos a repasar cada una de las ideas principales estudiadas por medio de las imágenes y nociones de este glosario.

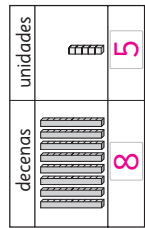
Invítelos a hacer un recorrido por algunos temas e ideas que aprendieron y plantee preguntas que los ayuden a recordar y comunicar ideas. Es importante que durante esta instancia contrasten sus ideas, escuchen respetuosamente a sus compañeros, hagan aportes, etc. Para ello, puede hacer preguntas como:

- **Valor posicional:** ¿Recuerdan cómo se forman los números? ¿Qué representan las decenas? ¿Qué representan las unidades? ¿En qué parte del número se registran los grupos de 10? ¿Y las unidades?
- **Suma vertical:** ¿En qué consiste la estrategia de sumar verticalmente?
- **Resta vertical:** ¿En qué consiste la estrategia de restar verticalmente?

<p>Valor posicional</p>	
<p>Suma vertical</p>	 <div data-bbox="1310 580 1588 683" style="border: 1px solid orange; border-radius: 10px; padding: 5px; display: inline-block;"> <p>Suma unidades con unidades y decenas con decenas. </p> </div>
<p>Resta vertical</p>	$\begin{array}{r} 38 \\ - 12 \\ \hline \end{array} \rightarrow \begin{array}{r} 38 \\ - 12 \\ \hline 26 \end{array}$ <p style="text-align: center; color: green;">3 - 1 = 2 8 - 2 = 6</p>

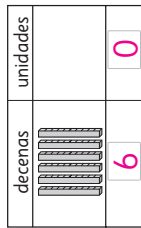
Cuaderno de Actividades y sus respuestas

1 ¿Cuántos cubos hay?



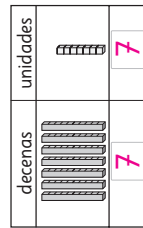
85 unidades.

2



60 unidades.

3



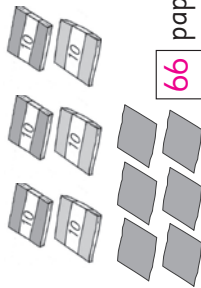
77 unidades.

4 ¿Cuántos hay?



80 lápices.

5 ¿Cuántos papeles lustre hay?



66 papeles.

6 Completa.

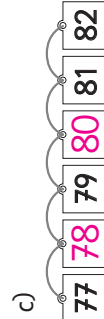
- a) 9 decenas y 4 unidades son: 94
- b) 7 decenas y 8 unidades son: 78
- c) 6 decenas y 2 unidades son: 60
- d) 8 decenas y 2 unidades son: 82

1 Completa.

a) 10 decenas es igual a: 100

b) 10 monedas de 10 pesos es igual a: 100

2 Completa.



3 Encierra el mayor.

a) 83

84

b) 61

59

c) 62

72

d) 98

100

4 Completa.

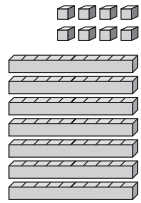
a) 5 más que 95 es igual

a: 100


b) 8 menos que 100 es igual a: 92

Números hasta 100

1 Completa.




- a) Hay **7** barras de 10 y **8** cubos sueltos.
 b) **7** barras de 10 son **70** unidades.
 c) Los cubos son **78**.



Números hasta 100

1 Completa.

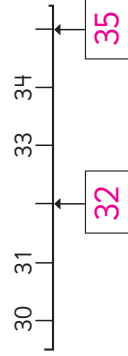
- a) 5 decenas y 3 unidades. **53**
 b) 1 decena y 6 unidades. **16**
 c) 7 decenas y 2 unidades. **72**
 d) 9 unidades. **9**
 e) 6 decenas. **60**



2 Completa.

- a) **21** **22** **23** **24** **25** **26**
 b) **40** **50** **60** **70** **80** **90**
 c) **90** **80** **70** **60** **50** **40**



3 Completa.







Leamos los números con cuidado.



1 Escribe los signos $>$, $<$ o $=$.

a)  **6** $>$  **1**

b)  **20** $<$  **24**

c)  **5** $=$  **5**

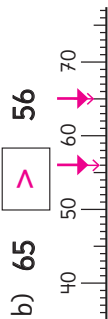
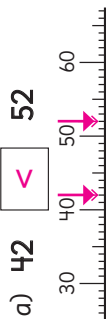
4 Escribe los signos $>$, $<$ o $=$.

30 $<$ **56** **99** $>$ **66**

16 $=$ **16** **88** $>$ **77**

2 Escribe los signos $>$ o $<$.

Ubica los números en la recta numérica.



3 Escribe los signos $>$ o $<$.

a) **20** $<$ **30** e) **77** $<$ **88**

b) **32** $>$ **23** f) **12** $<$ **18**

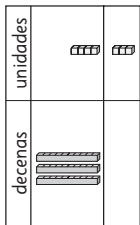
c) **5** $<$ **50** g) **35** $<$ **65**

d) **74** $>$ **47** h) **67** $>$ **63**

3 Tengo **34** pegatinas. Mi hermana mayor me dio **3**. ¿Cuántas tengo en total?

a) **34** + **3**

b) Piensa cómo encontrar el resultado.



Suma unidades con unidades y decenas con decenas.

En total hay **3** decenas y **7** unidades.

c) Tengo **37** pegatinas en total.

4 Suma.

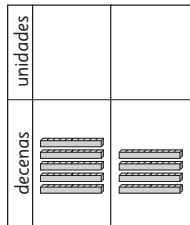
a) **71** + **4** = **75**

b) **5** + **23** = **28**

1 Manuel tiene **50** hojas de papel lustre y Matilde tiene **40**. ¿Cuántos papeles tienen en total?

a) **50** + **40**

b) Piensa cómo encontrar el resultado.



Suma los grupos de **10**.



c) Hay **90** papeles en total.



2 Suma.



a) **60** + **20** = **80**

b) **80** + **20** = **100**

1 Escribe los signos $>$, $<$ o $=$.

a)  **6** $>$  **1**

b)  **20** $<$  **24**

c)  **5** $=$  **5**

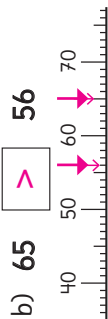
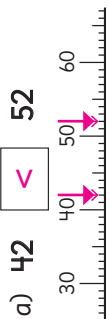
4 Escribe los signos $>$, $<$ o $=$.

30 $<$ **56** **99** $>$ **66**

16 $=$ **16** **88** $>$ **77**

2 Escribe los signos $>$ o $<$.

Ubica los números en la recta numérica.



3 Escribe los signos $>$ o $<$.

a) **20** $<$ **30** e) **77** $<$ **88**

b) **32** $>$ **23** f) **12** $<$ **18**

c) **5** $<$ **50** g) **35** $<$ **65**

d) **74** $>$ **47** h) **67** $>$ **63**

Página **10**

Números hasta 100

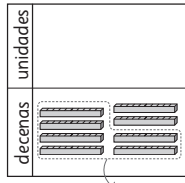
Temas del Español
Pág. 19
o
Pág. 20

10 minutos

1 Tenía **80** galletas. Regalé **60**. ¿Cuántas me quedan?

a) $80 - 60$

b) Piensa cómo encontrar el resultado.



Resta los grupos de **10**.

c) Me quedan **20** galletas.

2 Resta.

a) $70 - 50 = 20$

b) $90 - 30 = 60$

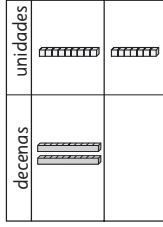
c) $100 - 70 = 30$

10

3 Hay **29** flores rojas, y **7** flores blancas. ¿Cuál es la diferencia?

a) $29 - 7$

b) Piensa cómo encontrar el resultado.



Resta los números de acuerdo a su valor posicional.

Quedan **2** decenas y **2** unidades.

c) La diferencia es **22**.

4 Resta.

a) $39 - 4 = 35$

b) $45 - 2 = 43$

c) $87 - 7 = 80$

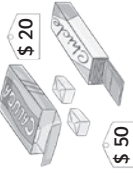
Página **11**

Números hasta 100

Temas del Español
Pág. 21

15 minutos

1 Compré calugas por **\$20** y chicles por **\$50**. ¿Cuánto pagué en total?



$20 + 50 = 70$

Respuesta: **70** pesos.

2 Completa las sumas.

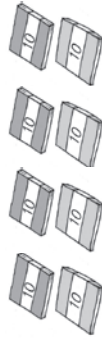
$20 + 70 = 90$

$60 + 40 = 100$

$30 + 40 = 70$

$40 + 40 = 80$

3 De **80** hojas de colores usé **30**. ¿Cuántas me quedan?



$80 - 30 = 50$

Respuesta: **50** hojas.

4 Completa las restas.

$50 - 40 = 10$

$90 - 50 = 40$

$50 - 20 = 30$

$90 - 30 = 60$

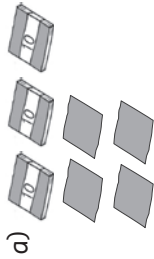
5 Hernán compra **2** hojas chicas y **2** hojas grandes de papel. Una hoja chica vale **\$10**, una grande vale **\$20**.

Él tiene una moneda de **\$50** y tres monedas de **\$10**. Después de pagar, ¿cuánto dinero le queda?

Respuesta: le quedan **20** pesos.

11

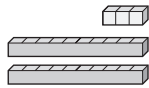
1 ¿Cuántos hay?



a)

Respuesta: **34** hojas.

b)



Respuesta: **23** cubos.

2 Completa.

a) **9** decenas y **4** unidades son: **94**

b) **7** decenas y **9** unidades son: **79**

c) **3** unidades menos que **60** es: **57**

d) **2** más que **98** son: **100**

3 Escribe.

a)

21 **22** **23** **24** **25** **26**

b)

40 **50** **60** **70** **80** **90**

4 Calcula.

a) **30 + 50 = 80**

b) **80 - 40 = 40**

c) **85 - 5 = 80**

d) **43 + 6 = 49**

e) **100 - 30 = 70**

f) **9 + 30 = 39**

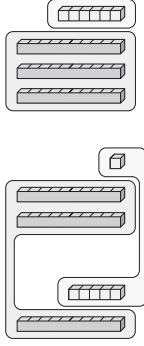
5 En el bus hay **7** adultos y **28** niños. ¿Cuál es la diferencia entre niños y adultos? **28 - 7 = 21**

Respuesta:

La diferencia es de **21**.

1 Alfredo tiene **15** caramelos y Tiago tiene **21**. ¿Cuántos caramelos tienen en total?

15 + 21



3 grupos de **10**.

6 cubos.

36 en total.

15 + 21 = 36

Respuesta: **36** caramelos.



Se puede calcular con grupos de **10**.

2 Hay **22** manzanas y **11** mandarinas. ¿Cuántas frutas hay en total?

22 + 11 = 33

Respuesta: **33** frutas.

3 Mateo tiene **20** caramelos y Tatiana tiene **23**. ¿Cuántos hay en total?

20 + 23 = 43

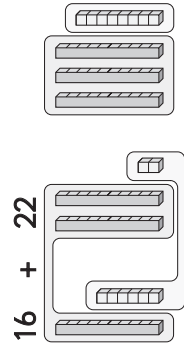
Respuesta: **43** caramelos.

4 Hay **42** flores rojas y **34** flores blancas. ¿Cuántas hay en total?

42 + 34 = 76

Respuesta: **76** flores.

1 Elisa tiene 16 fichas e Inés tiene 22, ¿cuántas tienen en total?
 a) $16 + 22$
 b) Piensa cómo encontrar el resultado.



3 grupos de 10.
 8 cubos.
 38 en total.

Respuesta: 38 fichas.

2 En el curso 2A hay 28 niños. En 2B son 30, y en el 2C son 31.

a) ¿Cuántos niños hay en total en 2A y 2B?
 $28 + 30 = 58$

Respuesta: 58 niños.

b) Si sumamos los niños de los cursos 2B y 2C, ¿cuántos hay en total?

$30 + 31 = 61$

Respuesta: 61 niños.

3 Hay 15 pelotas rojas y 23 pelotas azules. ¿Cuántas pelotas hay?

$15 + 23 = 38$

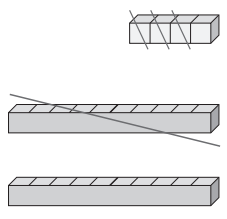
Respuesta: 38 pelotas.

4 En el parque andan 11 niños en bicicleta. Llegan 15 niñas más. ¿Cuántos niños y niñas en total andan ahora en bicicleta?

$11 + 15 = 26$

Respuesta: 26 niños y niñas.

1 Marta tenía 24 caramelos y le regaló 13 a Patricio. ¿Cuántos caramelos quedan?



El 24 se descompone en 20 y 4 .

El 13 se descompone en 10 y 3 .

$20 - 10 = 10$

$4 - 3 = 1$

Sumamos 10 y 1 y da 11 .

Respuesta: 11 caramelos.

2 Mario tenía 21 galletas. Se comió 10, ¿cuántas le quedan?

$21 - 10 = 11$

Respuesta: 11 galletas.

3 Había 35 personas en el bus. En la siguiente parada se bajaron 12. ¿Cuántas personas quedaron en el bus?

$35 - 12 = 23$

Respuesta: 23 personas.

4 Karla tenía 28 hojas de colores. Usó 12. ¿Cuántas le quedan?

$28 - 12 = 16$

Respuesta: 16 hojas de colores.

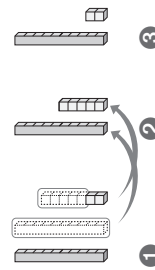
- 1** Tenía **27** manzanas. Me comí **15**.
¿Cuántas quedan?

$$\boxed{27} - \boxed{15} = \boxed{12}$$

Cantidad de manzanas que tenía **27**.
Las que me comí **15**.

Le restamos **1** decena a las dos decenas y a las **7** unidades le restamos **5** unidades.

Quedan **1** decena y **2** unidades.



1
Respuesta: **12** manzanas.

- 2** Daniela tenía **25** lápices.
a) Si regala **10**, ¿cuántos le quedan?

$$\boxed{25} - \boxed{10} = \boxed{15}$$

Respuesta: **15** lápices.

- b) Si regala **15**, ¿cuántos le quedan?

$$\boxed{25} - \boxed{15} = \boxed{10}$$

Respuesta: **10** lápices.

- 3** Hay **23** niños en el parque. Se van **11**.
¿Cuántos quedan?

$$\boxed{23} - \boxed{11} = \boxed{12}$$

Respuesta: **12** niños.

- 4** En un árbol hay **26** pájaros. Se vuelan **14**.
¿Cuántos quedan?

$$\boxed{26} - \boxed{14} = \boxed{12}$$

Respuesta: **12** pájaros.

- 1** Hay una caja con **24** chocolates y otra con **23**.
¿Cuántos hay en total?

$$\boxed{24} + \boxed{23} = \boxed{47}$$

Respuesta: **47** chocolates.

- 2** Rosario tiene **25** botones. Usó **13**. ¿Cuántos botones le quedan?

$$\boxed{25} - \boxed{13} = \boxed{12}$$

Respuesta: **12** botones.

- 3** Hay una bolsa con **38** pegatinas. Si se regalan **15**, ¿cuántas quedan?

$$\boxed{38} - \boxed{15} = \boxed{23}$$

Respuesta: **23** pegatinas.

- 4** Hay **37** personas en el tren.
a) ¿Cuántas personas habrá en el tren si suben **11** más?

$$\boxed{37} + \boxed{11} = \boxed{48}$$

Respuesta: **48** personas.

- b) Si se bajan **14**, ¿cuántas personas quedan?

$$\boxed{37} - \boxed{14} = \boxed{23}$$

Respuesta: **23** personas.

- 5** En un bus viajan **35** personas. Si en el próximo paradero se suben **24**, ¿cuántas personas habrán entonces?

$$\boxed{35} + \boxed{24} = \boxed{59}$$

Respuesta: **59** personas.

La hora y el tiempo

1 Carla entra a las **8:00** al colegio y sale a las **16:00**.

- a) ¿Cuántas horas está en el colegio? **8 horas.**
- b) Los viernes sale dos horas antes. ¿A qué hora sale? **14:00 horas**

2 Completa.

mañana	tarde
6:00	18:00
7:00	19:00
8:00	20:00
9:00	21:00

3 Completa.

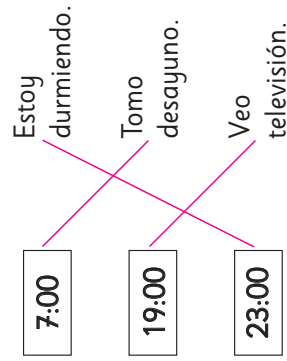
mañana	tarde
2:00	14:00
5:00	17:00

La hora y el tiempo

1 Responde.

- a) ¿A qué hora te levantas en la mañana? **variable**
- b) ¿A qué hora entras al colegio? **variable**
- c) ¿A qué hora te acuestas? **variable**

2 Une.



3 Encierra la correcta.

- a) Si Marcelo almuerza a las 13:30 y se demora media hora. ¿A qué hora termina de almorzar? **14:00**
- b) Media hora antes del recreo de las **10:00**, Marcelo fue a la enfermería. ¿A qué hora fue a la enfermería? **10:30**
- c) Marcelo salió a andar en bicicleta y llegó a las seis y media a su casa. ¿Cuándo salió a andar en bicicleta? **17:00**
- d) Marcelo comió a las **20:30** y se fue a dormir una hora y media más tarde. ¿A qué hora se acostó a dormir? **22:00**

1 Suma.

a)
$$\begin{array}{r} 15 \\ + 23 \\ \hline 38 \end{array}$$

b)
$$\begin{array}{r} 34 \\ + 12 \\ \hline 46 \end{array}$$

c)
$$\begin{array}{r} 41 \\ + 37 \\ \hline 78 \end{array}$$

d)
$$\begin{array}{r} 63 \\ + 26 \\ \hline 89 \end{array}$$

e)
$$\begin{array}{r} 42 \\ + 55 \\ \hline 97 \end{array}$$

f)
$$\begin{array}{r} 31 \\ + 14 \\ \hline 45 \end{array}$$

g)
$$\begin{array}{r} 73 \\ + 21 \\ \hline 94 \end{array}$$

h)
$$\begin{array}{r} 35 \\ + 34 \\ \hline 69 \end{array}$$

i)
$$\begin{array}{r} 16 \\ + 72 \\ \hline 88 \end{array}$$

j)
$$\begin{array}{r} 43 \\ + 24 \\ \hline 67 \end{array}$$

k)
$$\begin{array}{r} 41 \\ + 15 \\ \hline 56 \end{array}$$

l)
$$\begin{array}{r} 32 \\ + 52 \\ \hline 84 \end{array}$$

m)
$$\begin{array}{r} 28 \\ + 51 \\ \hline 79 \end{array}$$

n)
$$\begin{array}{r} 13 \\ + 73 \\ \hline 86 \end{array}$$

ñ)
$$\begin{array}{r} 31 \\ + 44 \\ \hline 75 \end{array}$$

o)
$$\begin{array}{r} 25 \\ + 33 \\ \hline 58 \end{array}$$

p)
$$\begin{array}{r} 36 \\ + 51 \\ \hline 87 \end{array}$$

q)
$$\begin{array}{r} 22 \\ + 14 \\ \hline 36 \end{array}$$

r)
$$\begin{array}{r} 47 \\ + 42 \\ \hline 89 \end{array}$$

s)
$$\begin{array}{r} 54 \\ + 23 \\ \hline 77 \end{array}$$

Alinea los números de acuerdo con su valor posicional.

$$\begin{array}{r} 12 \\ + 23 \\ \hline \end{array}$$

1 + 2 = 3 2 + 3 = 5

Suma los números en el lugar de las unidades, y los números en el lugar de las decenas.

¿Cómo sumar $12 + 23$ usando la forma vertical?

2 Calcula.

a) $37 + 2$

$$\begin{array}{r} 37 \\ + \quad 2 \\ \hline \end{array}$$

b) $4 + 64$

$$\begin{array}{r} \quad 4 \\ + 64 \\ \hline \end{array}$$

c) $22 + 4$

$$\begin{array}{r} 22 \\ + \quad 4 \\ \hline \end{array}$$

d) $8 + 91$

$$\begin{array}{r} \quad 8 \\ + 91 \\ \hline \end{array}$$

e) $30 + 7$

$$\begin{array}{r} 30 \\ + \quad 7 \\ \hline \end{array}$$

1 Observa y marca con un los cálculos correctos. En caso contrario, corrige.

a)
$$\begin{array}{r} 2 \\ + 13 \\ \hline 15 \end{array}$$

b)
$$\begin{array}{r} 52 \\ + 1 \\ \hline 62 \end{array}$$

$$\begin{array}{r} 52 \\ + 1 \\ \hline 53 \end{array}$$

c)
$$\begin{array}{r} 3 \\ + 21 \\ \hline 51 \end{array}$$

$$\begin{array}{r} 3 \\ + 21 \\ \hline 24 \end{array}$$

d)
$$\begin{array}{r} 6 \\ + 71 \\ \hline 77 \end{array}$$

e)
$$\begin{array}{r} 5 \\ + 30 \\ \hline 8 \end{array}$$

$$\begin{array}{r} 5 \\ + 30 \\ \hline 35 \end{array}$$

$$\begin{array}{r} 5 \\ + 30 \\ \hline 35 \end{array}$$

La suma vertical



1 Calcula.

a)
$$\begin{array}{r} 56 \\ + 10 \\ \hline 66 \end{array}$$

b)
$$\begin{array}{r} 66 \\ + 20 \\ \hline 86 \end{array}$$

c)
$$\begin{array}{r} 27 \\ + 30 \\ \hline 57 \end{array}$$

d)
$$\begin{array}{r} 30 \\ + 34 \\ \hline 64 \end{array}$$

e)
$$\begin{array}{r} 24 \\ + 20 \\ \hline 44 \end{array}$$

f)
$$\begin{array}{r} 24 \\ + 2 \\ \hline 26 \end{array}$$

g)
$$\begin{array}{r} 36 \\ + 20 \\ \hline 56 \end{array}$$

h)
$$\begin{array}{r} 36 \\ + 2 \\ \hline 38 \end{array}$$

i)
$$\begin{array}{r} 65 \\ + 2 \\ \hline 67 \end{array}$$

j)
$$\begin{array}{r} 43 \\ + 13 \\ \hline 56 \end{array}$$

k)
$$\begin{array}{r} 72 \\ + 25 \\ \hline 97 \end{array}$$

l)
$$\begin{array}{r} 95 \\ + 4 \\ \hline 99 \end{array}$$

m)
$$\begin{array}{r} 56 \\ + 13 \\ \hline 69 \end{array}$$

n)
$$\begin{array}{r} 58 \\ + 41 \\ \hline 99 \end{array}$$

ñ)
$$\begin{array}{r} 37 \\ + 52 \\ \hline 89 \end{array}$$

o)
$$\begin{array}{r} 83 \\ + 15 \\ \hline 98 \end{array}$$

2 Hay 15 libros de animales y 23 libros de cuentos en la biblioteca. ¿Cuántos libros hay en total?
Respuesta: Hay 38 libros en total.

La suma vertical



1 Calcula.

a)
$$\begin{array}{r} 35 \\ + 14 \\ \hline 49 \end{array}$$

b)
$$\begin{array}{r} 67 \\ + 12 \\ \hline 79 \end{array}$$

c)
$$\begin{array}{r} 58 \\ + 21 \\ \hline 79 \end{array}$$

d)
$$\begin{array}{r} 41 \\ + 38 \\ \hline 79 \end{array}$$

f)
$$\begin{array}{r} 19 \\ + 20 \\ \hline 39 \end{array}$$

g)
$$\begin{array}{r} 37 \\ + 41 \\ \hline 78 \end{array}$$

h)
$$\begin{array}{r} 56 \\ + 31 \\ \hline 87 \end{array}$$

i)
$$\begin{array}{r} 75 \\ + 21 \\ \hline 96 \end{array}$$

k)
$$\begin{array}{r} 12 \\ + 54 \\ \hline 66 \end{array}$$

l)
$$\begin{array}{r} 21 \\ + 45 \\ \hline 66 \end{array}$$

m)
$$\begin{array}{r} 34 \\ + 55 \\ \hline 89 \end{array}$$

n)
$$\begin{array}{r} 25 \\ + 44 \\ \hline 69 \end{array}$$

o)
$$\begin{array}{r} 63 \\ + 36 \\ \hline 99 \end{array}$$

p)
$$\begin{array}{r} 14 \\ + 53 \\ \hline 67 \end{array}$$

q)
$$\begin{array}{r} 12 \\ + 34 \\ \hline 46 \end{array}$$

r)
$$\begin{array}{r} 56 \\ + 31 \\ \hline 87 \end{array}$$

s)
$$\begin{array}{r} 85 \\ + 13 \\ \hline 98 \end{array}$$

ñ)
$$\begin{array}{r} 72 \\ + 27 \\ \hline 99 \end{array}$$

j)
$$\begin{array}{r} 13 \\ + 72 \\ \hline 85 \end{array}$$

e)
$$\begin{array}{r} 63 \\ + 26 \\ \hline 89 \end{array}$$

1 Calcula.

a)
$$\begin{array}{r} 56 \\ + 10 \\ \hline 66 \end{array}$$

b)
$$\begin{array}{r} 66 \\ + 30 \\ \hline 96 \end{array}$$

c)
$$\begin{array}{r} 27 \\ + 22 \\ \hline 49 \end{array}$$

d)
$$\begin{array}{r} 30 \\ + 24 \\ \hline 54 \end{array}$$

e)
$$\begin{array}{r} 24 \\ + 30 \\ \hline 54 \end{array}$$

f)
$$\begin{array}{r} 24 \\ + 12 \\ \hline 36 \end{array}$$

g)
$$\begin{array}{r} 36 \\ + 20 \\ \hline 56 \end{array}$$

h)
$$\begin{array}{r} 36 \\ + 32 \\ \hline 68 \end{array}$$

i)
$$\begin{array}{r} 65 \\ + 12 \\ \hline 77 \end{array}$$

j)
$$\begin{array}{r} 43 \\ + 12 \\ \hline 55 \end{array}$$

k)
$$\begin{array}{r} 72 \\ + 24 \\ \hline 96 \end{array}$$

l)
$$\begin{array}{r} 75 \\ + 4 \\ \hline 79 \end{array}$$

m)
$$\begin{array}{r} 56 \\ + 11 \\ \hline 67 \end{array}$$

n)
$$\begin{array}{r} 58 \\ + 31 \\ \hline 89 \end{array}$$

ñ)
$$\begin{array}{r} 35 \\ + 51 \\ \hline 86 \end{array}$$

o)
$$\begin{array}{r} 73 \\ + 15 \\ \hline 88 \end{array}$$

2 Pedro tiene 15 pegatinas y Rosa 12.

¿Cuántas pegatinas tienen entre los dos?

Respuesta: Tienen 27 pegatinas entre los dos.

2 Calcula.

a)
$$\begin{array}{r} 82 \\ + 17 \\ \hline 99 \end{array}$$

b)
$$\begin{array}{r} 93 \\ + 5 \\ \hline 98 \end{array}$$

c)
$$\begin{array}{r} 61 \\ + 26 \\ \hline 87 \end{array}$$

d)
$$\begin{array}{r} 43 \\ + 36 \\ \hline 79 \end{array}$$

e)
$$\begin{array}{r} 55 \\ + 11 \\ \hline 66 \end{array}$$

f)
$$\begin{array}{r} 19 \\ + 70 \\ \hline 89 \end{array}$$

g)
$$\begin{array}{r} 27 \\ + 41 \\ \hline 68 \end{array}$$

h)
$$\begin{array}{r} 30 \\ + 22 \\ \hline 52 \end{array}$$

i)
$$\begin{array}{r} 45 \\ + 50 \\ \hline 95 \end{array}$$

j)
$$\begin{array}{r} 32 \\ + 7 \\ \hline 39 \end{array}$$

a)
$$\begin{array}{r} 29 \\ + 20 \\ \hline 49 \end{array}$$

b)
$$\begin{array}{r} 63 \\ + 30 \\ \hline 93 \end{array}$$

c)
$$\begin{array}{r} 14 \\ + 80 \\ \hline 94 \end{array}$$

d)
$$\begin{array}{r} 7 \\ + 50 \\ \hline 57 \end{array}$$

e)
$$\begin{array}{r} 6 \\ + 20 \\ \hline 26 \end{array}$$

f)
$$\begin{array}{r} 46 \\ + 10 \\ \hline 56 \end{array}$$

La suma vertical

1 Calcula.

a)
$$\begin{array}{r} 4 \\ + 23 \\ \hline 27 \end{array}$$

b)
$$\begin{array}{r} 28 \\ + 31 \\ \hline 59 \end{array}$$

c)
$$\begin{array}{r} 47 \\ + 20 \\ \hline 67 \end{array}$$

d)
$$\begin{array}{r} 58 \\ + 21 \\ \hline 79 \end{array}$$

e)
$$\begin{array}{r} 77 \\ + 22 \\ \hline 99 \end{array}$$

f)
$$\begin{array}{r} 61 \\ + 5 \\ \hline 66 \end{array}$$

g)
$$\begin{array}{r} 13 \\ + 35 \\ \hline 48 \end{array}$$

h)
$$\begin{array}{r} 87 \\ + 2 \\ \hline 89 \end{array}$$

i)
$$\begin{array}{r} 28 \\ + 11 \\ \hline 39 \end{array}$$

j)
$$\begin{array}{r} 71 \\ + 18 \\ \hline 89 \end{array}$$

2 Calcula.

a) $26 + 62$

b) $2 + 36$

c) $17 + 70$

d) $8 + 10$

e) $1 + 80$

f) $19 + 40$

	+		2	6
	+		6	2
	+		8	8
	+			2
	+		3	6
	+		3	8
	+		1	7
	+		7	0
	+		8	7
	+			8
	+		1	0
	+		1	8
	+			1
	+		8	0
	+		8	1
	+		1	9
	+		4	0
	+		5	9

La suma vertical

1 Calcula y luego invierte la suma para comprobar el resultado.

a) $14 + 43 = 57$
 $43 + 14$

b) $13 + 65 = 78$
 $65 + 13$

c) $60 + 24 = 84$
 $24 + 60$

2 Completa.

a) $39 + 52 = 52 + \boxed{39}$

b) $3 + 47 = \boxed{47} + 3$

c) $(47 + 10) + 29 = 47 + (10 + \boxed{29})$

3 Calcula $35 + 4 + 6$. Completa.

$4 + 6 = \boxed{10}$
por eso, $\begin{array}{r} 35 \\ + 10 \\ \hline 45 \end{array}$

A $\boxed{35}$ le sumamos $\boxed{10}$.

4 Calcula de manera más fácil.

a) $21 + 13 + 7 = \boxed{41}$

b) $18 + 40 + 12 = \boxed{70}$

c) $36 + 34 + 28 = \boxed{98}$

d) $5 + 27 + 55 = \boxed{87}$

e) $2 + 29 + 8 = \boxed{39}$

f) $19 + 46 + 11 = \boxed{76}$

g) $34 + 18 + 6 = \boxed{58}$

1 Calcula.

a)
$$\begin{array}{r} 13 \\ + 51 \\ \hline 64 \end{array}$$

b)
$$\begin{array}{r} 35 \\ + 24 \\ \hline 59 \end{array}$$

c)
$$\begin{array}{r} 3 \\ + 22 \\ \hline 25 \end{array}$$

d)
$$\begin{array}{r} 66 \\ + 2 \\ \hline 68 \end{array}$$

e)
$$\begin{array}{r} 35 \\ + 43 \\ \hline 78 \end{array}$$

f)
$$\begin{array}{r} 24 \\ + 23 \\ \hline 47 \end{array}$$

g)
$$\begin{array}{r} 62 \\ + 6 \\ \hline 68 \end{array}$$

h)
$$\begin{array}{r} 73 \\ + 16 \\ \hline 89 \end{array}$$

i)
$$\begin{array}{r} 51 \\ + 42 \\ \hline 93 \end{array}$$

j)
$$\begin{array}{r} 46 \\ + 53 \\ \hline 99 \end{array}$$

2 Calcula.

a) $30 + 40 = 70$

b) $60 + 20 = 80$

c) $10 + 40 = 50$

d) $20 + 20 = 40$

e) $50 + 50 = 100$

3 Calcula de manera más fácil.

a) $42 + 34 + 6 = 82$

b) $3 + 21 + 17 = 41$

c) $11 + 50 + 29 = 90$

d) $27 + 15 + 35 = 77$

e) $12 + 27 + 18 = 57$

2 Escribe.

a) **4** decenas y **5** unidades.

b) **7** unidades menos que **100**.

3 Hay **23** niños y **22** niñas. ¿Cuántos niños hay en total?

+ =

Respuesta: niños.

4 Completa con $>$ o $<$.

a)

b)

c)

1 Calcula.

a)
$$\begin{array}{r} 70 \\ + 10 \\ \hline 80 \end{array}$$

b)
$$\begin{array}{r} 20 \\ + 70 \\ \hline 90 \end{array}$$

c)
$$\begin{array}{r} 71 \\ + 2 \\ \hline 73 \end{array}$$

d)
$$\begin{array}{r} 82 \\ + 6 \\ \hline 88 \end{array}$$

e)
$$\begin{array}{r} 20 \\ + 29 \\ \hline 49 \end{array}$$

f)
$$\begin{array}{r} 83 \\ + 14 \\ \hline 97 \end{array}$$

g)
$$\begin{array}{r} 74 \\ + 21 \\ \hline 95 \end{array}$$

h)
$$\begin{array}{r} 60 \\ + 30 \\ \hline 90 \end{array}$$

i)
$$\begin{array}{r} 34 \\ + 5 \\ \hline 39 \end{array}$$

k)
$$\begin{array}{r} 65 \\ + 23 \\ \hline 88 \end{array}$$

Página

30

La resta en forma vertical

Tests de Estudiantes
Pág. 61
Pág. 63
15 minutos

1 Calcula.

$$\begin{array}{r} 65 \\ -41 \\ \hline 24 \end{array}$$

$$\begin{array}{r} 90 \\ -40 \\ \hline 50 \end{array}$$

$$\begin{array}{r} 68 \\ -14 \\ \hline 54 \end{array}$$

$$\begin{array}{r} 47 \\ -30 \\ \hline 17 \end{array}$$

$$\begin{array}{r} 86 \\ -4 \\ \hline 82 \end{array}$$

$$\begin{array}{r} 57 \\ -27 \\ \hline 30 \end{array}$$

$$\begin{array}{r} 79 \\ -36 \\ \hline 43 \end{array}$$

$$\begin{array}{r} 80 \\ -20 \\ \hline 60 \end{array}$$

$$\begin{array}{r} 99 \\ -52 \\ \hline 47 \end{array}$$

$$\begin{array}{r} 28 \\ -15 \\ \hline 13 \end{array}$$

2 Calcula.

$$\begin{array}{r} 97 \\ -4 \\ \hline 93 \end{array}$$

$$\begin{array}{r} 89 \\ -49 \\ \hline 40 \end{array}$$

$$\begin{array}{r} 78 \\ -52 \\ \hline 26 \end{array}$$

$$\begin{array}{r} 56 \\ -10 \\ \hline 46 \end{array}$$

$$\begin{array}{r} 94 \\ -61 \\ \hline 33 \end{array}$$

$$\begin{array}{r} 73 \\ -21 \\ \hline 52 \end{array}$$

$$\begin{array}{r} 96 \\ -13 \\ \hline 83 \end{array}$$

$$\begin{array}{r} 55 \\ -35 \\ \hline 20 \end{array}$$

$$\begin{array}{r} 87 \\ -53 \\ \hline 34 \end{array}$$

$$\begin{array}{r} 49 \\ -37 \\ \hline 12 \end{array}$$

¿Cómo restar $27 - 13$?

$$\begin{array}{r} 27 \\ -13 \\ \hline \end{array}$$

$$2-1=1$$

$$7-3=4$$

Ordenamos los números en vertical según su unidad.



Página

31

La resta en forma vertical

Tests de Estudiantes
Pág. 64
15 minutos

1 Calcula.

$$\begin{array}{r} 63 \\ -12 \\ \hline 51 \end{array}$$

$$\begin{array}{r} 52 \\ -21 \\ \hline 31 \end{array}$$

$$\begin{array}{r} 96 \\ -54 \\ \hline 42 \end{array}$$

$$\begin{array}{r} 47 \\ -23 \\ \hline 24 \end{array}$$

$$\begin{array}{r} 98 \\ -65 \\ \hline 33 \end{array}$$

$$\begin{array}{r} 86 \\ -26 \\ \hline 60 \end{array}$$

$$\begin{array}{r} 77 \\ -36 \\ \hline 41 \end{array}$$

$$\begin{array}{r} 89 \\ -49 \\ \hline 40 \end{array}$$

$$\begin{array}{r} 79 \\ -58 \\ \hline 21 \end{array}$$

$$\begin{array}{r} 61 \\ -11 \\ \hline 50 \end{array}$$

$$\begin{array}{r} 73 \\ -12 \\ \hline 61 \end{array}$$

$$\begin{array}{r} 96 \\ -81 \\ \hline 15 \end{array}$$

$$\begin{array}{r} 69 \\ -27 \\ \hline 42 \end{array}$$

$$\begin{array}{r} 88 \\ -76 \\ \hline 12 \end{array}$$

$$\begin{array}{r} 99 \\ -90 \\ \hline 9 \end{array}$$

$$\begin{array}{r} 68 \\ -37 \\ \hline 31 \end{array}$$


$$\begin{array}{r} 89 \\ -56 \\ \hline 33 \end{array}$$

$$\begin{array}{r} 36 \\ -6 \\ \hline 30 \end{array}$$

$$\begin{array}{r} 93 \\ -33 \\ \hline 60 \end{array}$$

$$\begin{array}{r} 55 \\ -50 \\ \hline 5 \end{array}$$

La resta en forma vertical



1 Calcula y revisa el resultado con una suma.

$$\text{a) } 90 - 20 = \boxed{70} \quad \boxed{70} + \boxed{20} = \boxed{90}$$

$$\text{b) } 60 - 30 = \boxed{30} \quad \boxed{30} + \boxed{30} = \boxed{60}$$

$$\text{c) } 40 - 10 = \boxed{30} \quad \boxed{30} + \boxed{10} = \boxed{40}$$

$$\text{d) } 80 - 60 = \boxed{20} \quad \boxed{20} + \boxed{60} = \boxed{80}$$

$$\text{e) } 60 - 10 = \boxed{50} \quad \boxed{50} + \boxed{10} = \boxed{60}$$

$$\text{f) } 50 - 30 = \boxed{20} \quad \boxed{20} + \boxed{30} = \boxed{50}$$

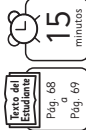
$$\text{g) } 60 - 20 = \boxed{40} \quad \boxed{40} + \boxed{20} = \boxed{60}$$

$$\text{h) } 80 - 70 = \boxed{10} \quad \boxed{10} + \boxed{70} = \boxed{80}$$

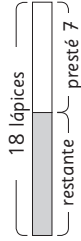
$$\text{i) } 70 - 20 = \boxed{50} \quad \boxed{50} + \boxed{20} = \boxed{70}$$

$$\text{j) } 90 - 10 = \boxed{80} \quad \boxed{80} + \boxed{10} = \boxed{90}$$

La resta en forma vertical



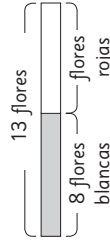
1 Hay 18 lápices, presté 7. ¿Cuántos lápices me quedan?



$$18 - 7 = 11$$

Respuesta: 11 lápices.

2 Hay 13 flores rojas y blancas. Hay 8 flores blancas, ¿Cuántas rojas hay?




$$13 - 8 = 5$$

Respuesta: 5 flores.



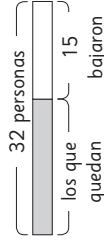
3 Hay 24 frutillas. Me comí 6. ¿Cuántas me quedan?



$$24 - 6 = 18$$

Respuesta: 18 frutillas.

4 Hay 32 personas en el bus. Se bajan 15. ¿Cuántas quedan en el bus?



$$32 - 15 = 17$$

Respuesta: 17 personas.

1 Calcula.

a) $56 - 22$

5	6
-	22
3	4

b) $89 - 13$

8	9
-	13
7	6

c) $64 - 31$

6	4
-	31
3	3

d) $96 - 44$

9	6
-	44
5	2

e) $75 - 5$

7	5
-	5
7	0

2 Calcula.

a) $80 - 20 = 60$

b) $100 - 40 = 60$

3 Los niños de 2° básico de la escuela de Sofía son **88** en total. Son **38** niños. ¿Cuántas niñas hay?

$88 - 38 = 50$

Respuesta: **50** niñas.

4 En el colegio de Carla hay dos cursos de 2° básico.

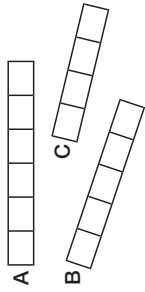
En **2A** hay **33** niños y en el **2B** hay **35** niños.

¿Cuántos alumnos en total hay en 2° básico?

$33 + 35 = 68$

Respuesta: **68** alumnos.

1 Compara y responde.


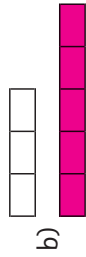
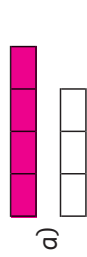


a) ¿Cuál es el más largo? **A**

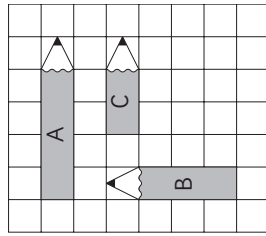
b) ¿Cuál es el más corto? **C**

3 ¿Cuál es más largo?

Píntalo.



2 ¿Cuántos cuadrados mide?

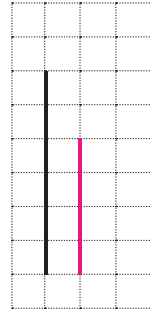


A **5** cuadrados

B **4** cuadrados

C **3** cuadrados

4 Dibuja una línea más corta.



1 ¿Qué largo tienen las líneas a) y b)?



a) _____
b) _____

a) **2** cm b) **7** cm

2 Mide el largo de las líneas a), b) y c).

a) _____ **6** cm
b) _____ **8** cm
c) _____ **1** cm

3 Dibuja una línea de:


a) **4** cm _____
b) **5** cm _____
c) **6** cm _____

4 Escribe la unidad de medida que se usa para medir el largo y el ancho de un cuaderno.

centímetros
.....
.....
.....

¡Utiliza tu regla!

Para medir la longitud de un objeto podemos usar distintas unidades de medidas. El centímetro es una de ellas.



1 Para medir una cinta usé tres veces una regla de **30** cm.

a) ¿Cuántos centímetros mide la cinta?

90 cm

2 Medí el largo de una ventana con tres reglas de **20** cm y una de **10** cm.

a) ¿Cuánto mide el largo de la ventana?

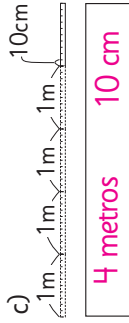
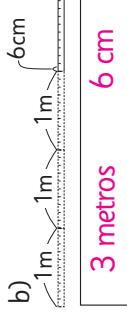
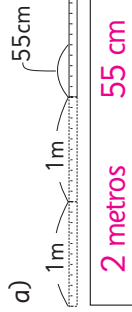
70 cm

3 Medí el largo de mi libro con 2 reglas de **20** cm y una de **10** cm.

a) ¿Cuánto mide el largo de mi cuaderno?

50 cm

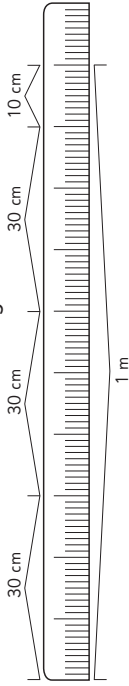
4 Mide en metros y en centímetros.



1 m = 100 cm



A **100** cm le decimos **1** metro y se escribe **1** m.



Longitud

1 Calcula.

a) $7\text{ cm} + 5\text{ cm}$

12 cm

b) $8\text{ cm} + 6\text{ cm}$

14 cm

c) $15\text{ cm} + 10\text{ cm}$

25 cm

d) $13\text{ cm} - 8\text{ cm}$

5 cm

e) $25\text{ cm} - 12\text{ cm}$

13 cm

3 Calcula.

a) $5\text{ m} + 4\text{ m}$

9 m

b) $3\text{ m} + 8\text{ m} + 2\text{ m}$

13 m

c) $17\text{ m} + 3\text{ m}$

20 m

d) $20\text{ m} - 3\text{ m}$

17 m

e) $13\text{ m} - 6\text{ m}$

7 m

2 Tengo 3 maceteros

ubicados en fila. Cada uno mide **24 cm** de largo.


¿Cuántos cm miden los 3 juntos?

72 cm

4 Un elástico de **8 cm** se estiró hasta una longitud de **12 cm**.

¿Cuántos cm más se estiró el elástico?


4 cm



Tablas y gráficos

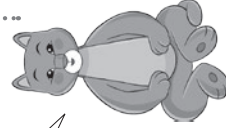
1 Hay distintos tipos de animales.

a) Escribe en la tabla cuántos animales hay.



Gato	Conejo	Perro	Hámster
3	5	6	2

Las tablas muestran información de manera clara y simple.



b) Colorea los cuadros según la cantidad de cada animal.

Gato	Conejo	Perro	Hámster

c) ¿Cuál es la diferencia en cantidad entre los perros y los gatos?

3 animales.

d) ¿Cuántos hámsteres menos que conejos hay?


3 hámsteres.

Los gráficos permiten facilitar la comparación.

Tablas y gráficos

- 1** Sergio hizo un listado con la cantidad de verduras que cosechó en el patio de su casa. Estas fueron: **22** tomates, **29** pepinos y **12** berenjenas.

Verduras cosechadas



- a) Representa la cantidad de cada una de las verduras en el siguiente gráfico pintando los cuadros.

b) ¿Cuál fue la verdura que más se cosechó?

Pepino

c) ¿Cuál fue la verdura que menos se cosechó?

Berenjena

d) ¿Cuántos tomates menos que pepinos se cosecharon?

7 tomates

En el gráfico se ve mejor la diferencia entre cantidades.

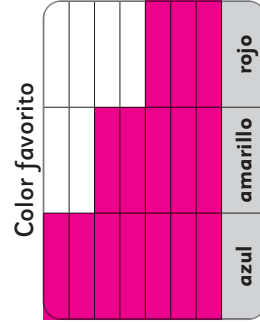
Podemos usar diferentes colores para las verduras.



40

¿Qué aprendí?

- 2** Hay **75** cm de cinta. ¿Cuántos centímetros me quedan si uso **33** cm?
- $$\begin{array}{r} 75 \\ - 33 \\ \hline 42 \end{array}$$
- Respuesta: **42** cm.
- 3** Le preguntamos a **15** niños de un curso cuál es su color favorito.
- 7** niños respondieron “azul”,
5 niños respondieron “amarillo” y
3 niños respondieron “rojo”.
- Completa el siguiente gráfico.



- 1** Calcula.

a)
$$\begin{array}{r} 43 \\ + 51 \\ \hline 94 \end{array}$$

f)
$$\begin{array}{r} 55 \\ - 13 \\ \hline 42 \end{array}$$

b)
$$\begin{array}{r} 62 \\ + 4 \\ \hline 66 \end{array}$$

g)
$$\begin{array}{r} 66 \\ - 36 \\ \hline 30 \end{array}$$

c)
$$\begin{array}{r} 33 \\ + 15 \\ \hline 48 \end{array}$$

h)
$$\begin{array}{r} 74 \\ - 13 \\ \hline 61 \end{array}$$

d)
$$\begin{array}{r} 74 \\ + 3 \\ \hline 77 \end{array}$$

j)
$$\begin{array}{r} 91 \\ - 21 \\ \hline 70 \end{array}$$

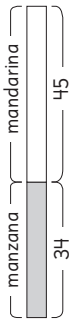
e)
$$\begin{array}{r} 56 \\ + 43 \\ \hline 99 \end{array}$$

k)
$$\begin{array}{r} 54 \\ - 3 \\ \hline 51 \end{array}$$

Suma y resta

1 Hay **34** manzanas y **45** mandarinas.

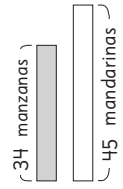
a) ¿Cuántas frutas hay en total?



$34 + 45$

Respuesta: **79** frutas.

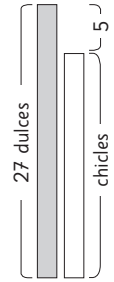
b) ¿Cuál es la diferencia entre ambas frutas?



$45 - 34$

Respuesta: **11** frutas.

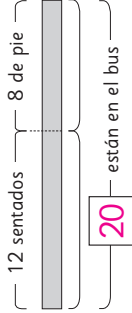
2 Tengo **27** dulces. Hay **5** chicos menos que dulces. ¿Cuántos chicos tengo?



$27 - 5$

Respuesta: **22** chicos.

3 Un bus tiene **12** asientos y están todos ocupados. Además, hay **8** personas de pie. ¿Cuántas personas hay en el bus?



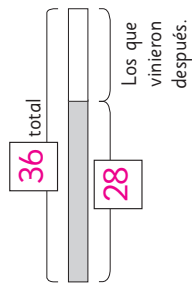
$12 + 8$

Respuesta: **20** personas.

Suma y resta

1 Un estacionamiento tiene **28** autos. Llegaron algunos más y ahora hay **36**.

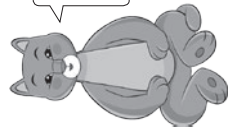
a) Completa con los datos que conoces.




b) ¿Cuántos autos vinieron después?

$36 - 28 = 8$

Respuesta: **8** autos.



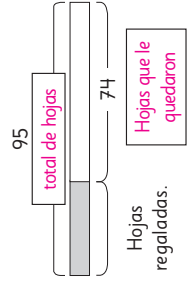
Dice:
"llegaron algunos más" ¿será que se puede sumar?



Dice "regaló", así que ¿será una resta?

2 Eugenio tenía **95** hojas de colores. Le regaló algunas a sus amigos y le quedaron **74**.

a) Completa con los datos que conoces.



b) ¿Cuántas hojas regaló?

$95 - 74 = 21$

Respuesta: **21** hojas.

1 Tenemos **15** cintas azules y **23** cintas rojas.

a) ¿Cuántas cintas hay en total?

Respuesta: **38** cintas.

b) Si usamos **5** cintas rojas. ¿Cuántas cintas quedan en total?

Respuesta: **33** cintas.

c) Si usamos **7** cintas azules y **9** cintas rojas, ¿cuántas usé en total? ¿Cuántas cintas me quedan?

Cinta usada: **7** + **9** = **16**

Cinta restante: **38** - **16** = **22**

Respuesta: **16** cinta usada.

Respuesta: **22** cinta restante.

44

1 Completa los números que faltan en los recortes de tablas de **100**.

1	2
11	12
21	

48	49	50
58	59	60
68	69	70

7		
17		
25	26	27
36		
46		

5	6
15	16

76		
84	85	86
94	95	96

3	4
13	14
23	24
33	

19	20	
29	30	
38	39	40

63	64	65
73	74	75
83		
92	93	

75		
85	86	87
95		

22		
31	32	42
51	52	53
62		

41	
51	
61	
71	72
81	82
91	

14	15	16	17	18	19
25					

45

Juego 2 - parte 1

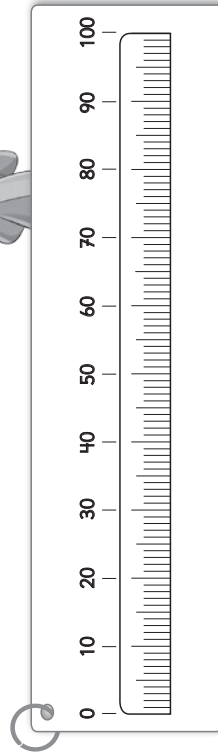


Instrucciones:

1. Recorta las tarjetas rectangulares de las páginas **47** y **49**. Ordénalas boca abajo, formando una torre. Ubícalas a un costado de tu mesa.
2. Recorta las tarjetas del Juego 2 - parte 2 de las páginas **51** y **53**. Distribúyelas sobre tu mesa con el número hacia arriba.
3. Saca una tarjeta de la torre y realiza el cálculo mental.
4. Mira los números de las tarjetas que están sobre la mesa y elige el resultado que corresponda.
5. Juega las veces que sean necesarias para ejercitar tu cálculo mental. ¡Tú puedes!



Utiliza la recta numérica si es necesario.



$$95 - 90$$

5

$$45 - 30$$

15

$$20 + 25$$

45

$$25 + 10$$

35

$$40 + 25$$

65

$$10 + 15$$

25

$$75 + 10$$

85

$$80 + 10$$

90

$$70 - 40$$

30

$$65 - 10$$

55



$$60 - 20$$

40

$$10 + 10$$

20

$$50 + 10$$

60

$$20 - 10$$

10

$$80 - 30$$

50

$$50 + 50$$

100

$$60 + 35$$

95

$$50 + 30$$

80

$$75 - 5$$

70

$$85 - 10$$

75

49



Juego 2 - parte 2

Página 51

$$5$$

95 - 90

$$10$$

20 - 10

$$15$$

45 - 30

$$25$$

10 + 15

$$30$$

70 - 40

$$35$$

25 + 10

$$45$$

20 + 25

$$50$$

80 - 30

$$55$$

65 - 10

$$65$$

40 + 25

$$70$$

75 - 5

$$75$$

85 - 10

51

Página 53 **Juego 2 - parte 2** 20 minutos

20
 $10 + 10$

40
 $60 - 20$

60
 $50 + 10$

80
 $50 + 30$

85
 $75 + 10$

90
 $80 + 10$

95
 $60 + 35$

100
 $50 + 50$

Página 55 **Juego 3 - parte 1** 20 minutos

1 Recorta las piezas y juega al dominó con un compañero. Debes partir por la ficha "inicio" y terminar con la ficha "fin".

Inicio • 75 - 23
52

52 • 47 - 22
25

63 • 79 - 47
32

32 • 68 - 34
34

64 • 78 - 52
26

26 • 86 - 35
51

33 • 69 - 24
45

45 • 77 - 42
35

76 • 85 - 23
62

71 • 84 - 63
21

53 • 75 - 34
41

55 • 87 - 26
61

Juego 3 - parte 2

25	•	88 - 25	63
----	---	---------	----

34	•	95 - 31	64
----	---	---------	----

62	•	87 - 51	36
----	---	---------	----

41	•	68 - 46	22
----	---	---------	----

21	•	93 - 21	72
----	---	---------	----

61	•	99 - 26	73
----	---	---------	----

51	•	59 - 26	33
----	---	---------	----

35	•	99 - 23	76
----	---	---------	----

36	•	97 - 44	53
----	---	---------	----

22	•	95 - 24	71
----	---	---------	----

72	•	97 - 42	55
----	---	---------	----

73	•	Fin	
----	---	-----	--

Juego 4

1 Forma objetos usando 1, 2 o más círculos. Puedes agregarle líneas, otras figuras o unir círculos.

Ejemplo: Bicicleta, reloj, fútbol, triciclo, plato, vaso, anillo, aro, neumático o auto con neumáticos, galleta, manubrio, dulces, smiley, patines, emoji, espejo, enchufe, tarro de conserva, berlines, frutas, sol, luna, la tierra, mesa, chinche, virus corona, monedas.



Página **60** **Juego 5** 15 minutos


1 Busca **3** números que esconden un secreto. Encuéntralas.

Los números que buscas:		Secreto
1	Tienen 6 unidades.	6 16 26
2	Tienen 5 decenas.	50 53 57
3	Están todos en la fila 8 .	72 77 78
4	Están todos en la columna 3 .	3 23 73
5	Son vecinos de al lado del número 24 .	23 25 14
6	Cualquiera que viva debajo y encima del número 73 .	83 63 23
7	Están en la primera fila.	1 8 10
8	Están separados por dos números.	22 25 28

1	2	3	4	5	6	7	8	9	10
11	12	13	14	15	16	17	18	19	20
21	22	23	24	25	26	27	28	29	30
31	32	33	34	35	36	37	38	39	40
41	42	43	44	45	46	47	48	49	50
51	52	53	54	55	56	57	58	59	60
61	62	63	64	65	66	67	68	69	70
71	72	73	74	75	76	77	78	79	80
81	82	83	84	85	86	87	88	89	90
91	92	93	94	95	96	97	98	99	100

Página **61** **Juego 6** 10 minutos

- Instrucciones:**
- Primero recorta las tarjetas con flechas y pónlas sobre la mesa boca abajo.
 - Cada jugador necesita una ficha de un color o forma diferente, puedes usar cualquier objeto que funcione como ficha.
 - Este juego es para **2** personas. Ambos parten del casillero **45** del tablero. De forma sucesiva, cada jugador saca una tarjeta.
 - Mueve la ficha en la dirección que indica la flecha de la tarjeta. Solo es permitido mover la ficha de forma vertical u horizontal. Por ejemplo, si un jugador saca una flecha que indica la punta hacia abajo, el jugador debe mover su ficha horizontalmente hacia abajo.
 - Gana el o la jugadora que después de 10 vueltas esté en el casillero de más alto valor. ¡A jugar!



Tablero juego 6

Ejemplo: Jugador saca la siguiente tarjeta, por lo que debe mover la ficha horizontalmente hacia abajo, quedando en el puesto 55.



34	35	36
44	45	46
54	55	56

1	2	3	4	5	6	7	8	9	10
11	12	13	14	15	16	17	18	19	20
21	22	23	24	25	26	27	28	29	30
31	32	33	34	35	36	37	38	39	40
41	42	43	44	45	46	47	48	49	50
51	52	53	54	55	56	57	58	59	60
61	62	63	64	65	66	67	68	69	70
71	72	73	74	75	76	77	78	79	80
81	82	83	84	85	86	87	88	89	90
91	92	93	94	95	96	97	98	99	100

63

Juego 7

1 Prueba tus conocimientos.
¿Qué números se esconden detrás de los dibujos?
Anótalos en los espacios debajo de la tabla de 100.




	2	_____		92	_____		66	_____		47	_____		18	_____
	51	_____		24	_____		74	_____		98	_____		80	_____

64





Anexos

Anexo 1: Colorear

Colorear



Colorear



Anexo 2:

Banco de preguntas y sus respuestas

Adjuntamos este banco de preguntas con una serie de actividades como apoyo para construir una evaluación conforme a lo que han aprendido sus estudiantes. Asimismo, las puede combinar con otras actividades que ya posee y/o ha aplicado anteriormente.

Banco de preguntas

Ana, Luisa y Alberto jugaron a saltar la cuerda.

Luisa, **34** saltos.

Ana, **31** saltos.

Alberto, **22** saltos.



1 Completa la tabla para representar los saltos de Ana, Luisa y Alberto.

Niños	Con bloques	Descomponer	Con números
Luisa			34
Ana			31
Alberto			22

2 Lee y resuelve.

Preguntas	Operación	Respuesta
a) ¿Cuántos saltos dieron en total Luisa y Alberto?		Luisa y Alberto dieron 56 saltos en total.
b) ¿Cuántos saltos más dio Luisa que Ana?		Luisa dio 3 saltos más que Ana.

Ana, Luisa y Alberto jugaron nuevamente a saltar la cuerda.

Luisa, **30** saltos.

Ana, **34** saltos.

Alberto, **22** saltos.



3 Completa la tabla para representar los saltos de Ana, Luisa y Alberto.

Niños	Con bloques	Descomponer	Con números
Luisa			30
Ana			34
Alberto			22

4 Marca con un la respuesta correcta.

<p>a) El número de saltos que tiene veinte decenas corresponde a:</p> <p><input type="checkbox"/> Ana</p> <p><input type="checkbox"/> Luisa</p> <p><input checked="" type="checkbox"/> Alberto</p>	<p>b) El número de saltos que tiene cuatro unidades corresponde a:</p> <p><input checked="" type="checkbox"/> Ana</p> <p><input type="checkbox"/> Luisa</p> <p><input type="checkbox"/> Alberto</p>
--	---

Respuestas

Banco de preguntas

Ana, Luisa y Alberto jugaron a saltar la cuerda.

Luisa, **34** saltos.

Ana, **31** saltos.

Alberto, **22** saltos.



1 Completa la tabla para representar los saltos de Ana, Luisa y Alberto.

Niños	Con bloques	Descomponer	Con números
Luisa		$\begin{array}{l} 34 \\ \swarrow \searrow \\ 30 \\ 4 \end{array}$	34
Ana		$\begin{array}{l} 31 \\ \swarrow \searrow \\ 30 \\ 1 \end{array}$	31
Alberto		$\begin{array}{l} 22 \\ \swarrow \searrow \\ 20 \\ 2 \end{array}$	22

2 Lee y resuelve.

Preguntas	Operación	Respuesta
a) ¿Cuántos saltos dieron en total Luisa y Alberto?	$\begin{array}{r} 34 \\ + 22 \\ \hline 56 \end{array}$	Luisa y Alberto dieron 56 saltos en total.
b) ¿Cuántos saltos más dio Luisa que Ana?	$\begin{array}{r} 34 \\ - 31 \\ \hline 03 \end{array}$	Luisa dio 3 saltos más que Ana.

Ana, Luisa y Alberto jugaron nuevamente a saltar la cuerda.

Luisa, **30** saltos.

Ana, **34** saltos.

Alberto, **22** saltos.



3 Completa la tabla para representar los saltos de Ana, Luisa y Alberto.

Niños	Con bloques	Descomponer	Con números
Luisa			30
Ana			34
Alberto			22


4 Marca con un \checkmark la respuesta correcta.

<p>a) El número de saltos que tiene veinte decenas corresponde a:</p> <p><input type="checkbox"/> Ana</p> <p><input type="checkbox"/> Luisa</p> <p><input checked="" type="checkbox"/> Alberto</p>	<p>b) El número de saltos que tiene cuatro unidades corresponde a:</p> <p><input checked="" type="checkbox"/> Ana</p> <p><input type="checkbox"/> Luisa</p> <p><input type="checkbox"/> Alberto</p>
--	---

Anexo 3: ¿Qué aprendí? tickets de salida

¿Qué aprendí? tickets de salida

¿Cuántos hay?



OA 1

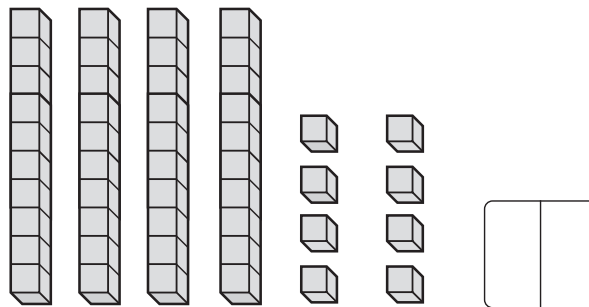
página

5

Tomo 1



¿Cuántos cubos hay?



OA 1

página

7

Tomo 1



Completa.

7 decenas es igual a

9 decenas y 1 unidad es igual a

5 unidades y 3 decenas es igual a

OA 7

página

8

Tomo 1



¿Cuántos hay?

8 grupos de 10 es igual a

10 grupos de 10 es igual a

OA 1

página

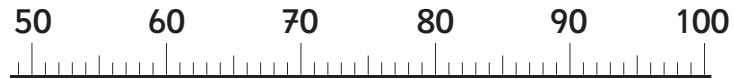
9

Tomo 1



¿Qué aprendí? tickets de salida

Ubica en la recta los números 65 y 88.



OA 3

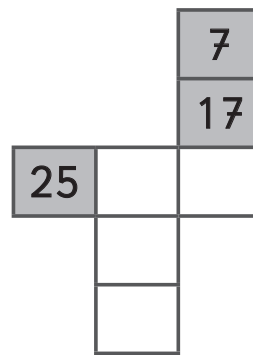
página

11

Tomo 1



Completa.



OA 3

página

14

Tomo 1



Completa con $>$ o $<$.

$45 \square 54$

$90 \square 99$

$30 \square 33$

OA 3

página

15

Tomo 1



Suma.

$56 + 2 = \square$

$56 + 3 = \square$

$53 + 5 = \square$

OA 9

página

17

Tomo 1



¿Qué aprendí? tickets de salida

Resta.

$$70 - 10 = \square \quad 67 - 7 = \square \quad 89 - 4 = \square$$

OA 9

página

20

Tomo 1



Completa.

$$9 \text{ decenas} - 2 \text{ decenas} = \square$$

OA 9

página

21

Tomo 1



Escribe 2 ejemplos de tu vida cotidiana en que utilices números.

1. _____ 2. _____

OA 2


página

23

Tomo 1



¿Cuántos hay?



lápices.

OA 7

página

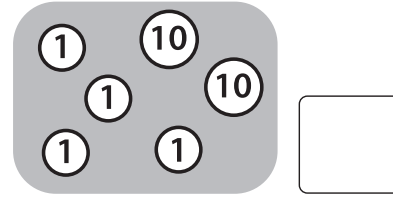
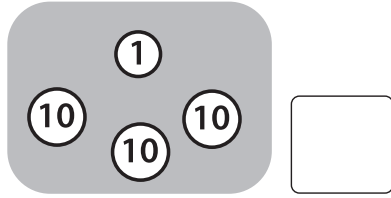
25

Tomo 1



¿Qué aprendí? tickets de salida

¿Cuántas monedas de juguete hay?



OA 9

página

27

Tomo 1



Javiera tiene 14 calugas, y Matías tiene 25 calugas.
¿Cuántas calugas tienen en total?

Expresión numérica:

OA 9

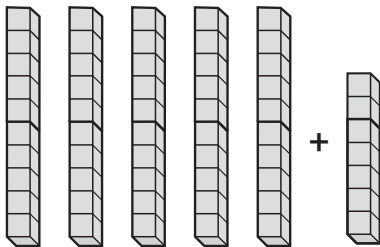
página

28

Tomo 1



¿Cuántos hay?



Expresión:

OA 9

página

29

Tomo 1



¿Cómo sumas $13 + 54$?

barras de 10 y cubos dan .

$13 + 54 =$

OA 9

página

30

Tomo 1



¿Qué aprendí? tickets de salida

Completa.

$$46 - 14 = \square \quad 67 - 11 = \square \quad 100 - 30 = \square$$

OA 9

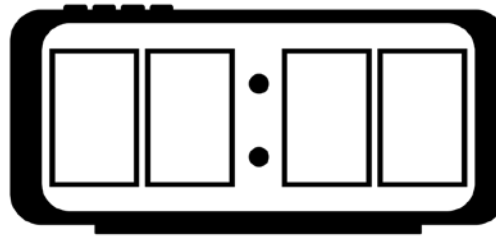
página

33

Tomo 1



¿A qué hora te levantas?



OA 18

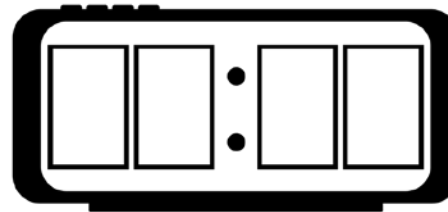
página

36

Tomo 1



Raúl salió del colegio y se demoró media hora en llegar a su casa. Llegó a las 3:30 de la tarde a su casa.
¿A qué hora salió del colegio?



OA 18

página

37

Tomo 1



Paula salió de su casa a las 7:00 de la mañana y llegó al colegio a las 8:00.

¿Cuántas horas demoró en llegar?

¿Cuántos minutos?

OA 18

página

39

Tomo 1



¿Qué aprendí? tickets de salida

Completa.

¿Qué hora es 2 horas después de las 13:00 horas?

¿Qué hora es 3 horas antes de las 18:00?

OA 18

página

40

Tomo 1



Completa.

Una hora tiene minutos.

Un día tiene horas.

OA 18

página

42

Tomo 1



Completa.

¿Qué hora es 4 horas después de las 2 en punto de la mañana?

OA 18

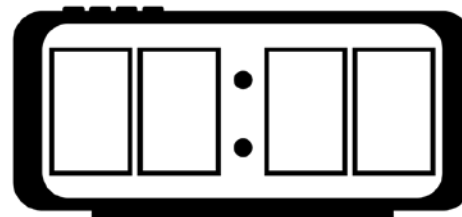
página

43

Tomo 1



Sergio llegó hoy a su trabajo cuando faltaban 30 minutos para las 9:00 de la mañana. ¿A qué hora llegó Sergio a su trabajo?



OA 18

página

44

Tomo 1



¿Qué aprendí? tickets de salida

Suma verticalmente $37 + 42$.

+		

OA 9

página

48

Tomo 1



¿Cuál es el correcto? Marca.

$$\begin{array}{r} 2 \\ + 41 \\ \hline \end{array}$$

$$\begin{array}{r} 2 \\ + 41 \\ \hline \end{array}$$

OA 9

página

49

Tomo 1



Hay 35 cartulinas rojas y 64 azules.
¿Cuántas hay en total?

cartulinas.

OA 9

página

50

Tomo 1



Corrige el error.

$$\begin{array}{r} 56 \\ + 3 \\ \hline 89 \end{array}$$

$$\begin{array}{r} + \\ \hline \end{array}$$

OA 9

página

51

Tomo 1



¿Qué aprendí? tickets de salida

Suma.

$$\begin{array}{r} 32 \\ + 27 \\ \hline \end{array}$$

OA 9

página

52

Tomo 1



Javier tenía 54 láminas y su primo le regaló 12 más.
¿Cuántas tiene ahora?

láminas.

OA 9

página

53

Tomo 1



Encuentra el resultado de
forma vertical de $13 + 51$

$$\begin{array}{r} 3 \\ + 51 \\ \hline \end{array}$$

OA 9

página

54

Tomo 1



Suma $43 + 51$.

$$\begin{array}{r} 3 \\ + 51 \\ \hline \end{array}$$

OA 9

página

55

Tomo 1



¿Qué aprendí? tickets de salida

Calcula de manera simple.

$4 + 3 + 65 =$

$56 + 8 + 2 =$

OA 9

página

57

Tomo 1



Resuelve.

$43 + 35$

+

<hr/>		

$81 + 8$

+

<hr/>		

OA 9

página

58

Tomo 1



¿Qué observas en el resultado de $41 + 14$?
Fíjate en las decenas y unidades.

OA 9

página

60

Tomo 1



Resta.

$49 - 5$

-

<hr/>		

OA 9

página

62

Tomo 1



¿Qué aprendí? tickets de salida

Amalia tenía 43 calcomanías y regaló 12.
¿Cuántas tiene ahora?

Ahora tiene calcomanías.

-		

OA 9

página

63

Tomo 1



El curso de Ana tiene 39 alumnos.
¿Cuántos deben faltar para que en el curso estén 30 niños presentes?

alumnos.

OA 9

página

64

Tomo 1



$7 + 5 = 12$. Escribe una resta usando esos mismos números.

$$\square - \square = \square$$

OA 10

página

65

Tomo 1



Hay 17 perros. 6 de ellos son cachorros y los demás son adultos. ¿Cuántos perros adultos hay?

Expresión:

Respuesta:

adultos.

OA 9

página

67

Tomo 1



¿Qué aprendí? tickets de salida

Resta usando la forma vertical.

$$48 - 32$$

$$98 - 96$$

OA 9

página

68

Tomo 1



Corrige.

$$\begin{array}{r} 96 \\ - 16 \\ \hline 86 \end{array}$$

$$\begin{array}{r} 6 \\ - 6 \\ \hline 6 \end{array}$$

OA 9

página

69

Tomo 1



Completa.

$$\begin{array}{r} 9 \square \\ - \square 6 \\ \hline 61 \end{array}$$

OA 9

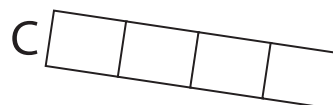
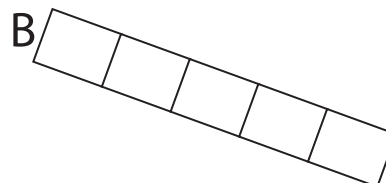

página

70

Tomo 1



Encierra el más largo.



OA 19

página

72


Tomo 1



¿Qué aprendí? tickets de salida

¿Cuántos cuadrados de una hoja de cuaderno mide tu lápiz grafito?

OA 19



cuadrados.

página


73

Tomo 1



¿Cuánto mide?

OA 19



cm

página

74

Tomo 1



Dibuja un línea de 5 cm.

OA 19

página

76

Tomo 1



Completa.

1 m = cm

OA 19

página

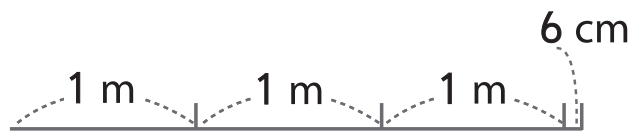
77

Tomo 1



¿Qué aprendí? tickets de salida

¿Cuánto mide?



m y cm.

OA 19

página

78

Tomo 1



Calcula.

$$13 \text{ cm} + 43 \text{ cm} = \boxed{}$$

$$2 \text{ cm} + 30 \text{ cm} = \boxed{}$$

OA 19

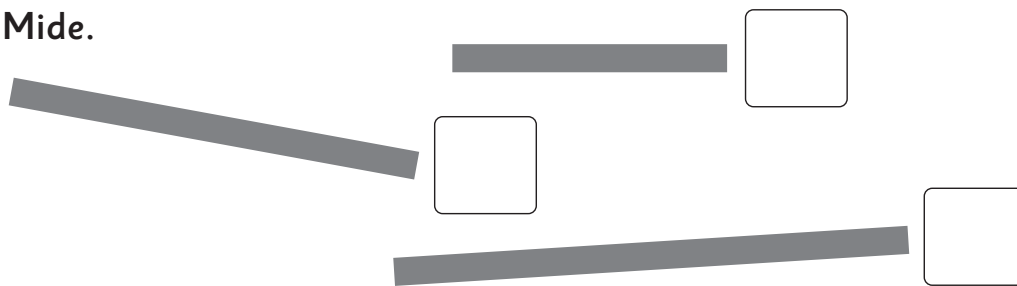
página

80

Tomo 1



Mide.



OA 19

página

81

Tomo 1



Ordena estas medidas desde la más larga hasta la más corta.

3 m

34 cm

3 cm

4 m

OA 19

página

82

Tomo 1



¿Qué aprendí? tickets de salida

Completa con la unidad de medida apropiada para medir.

Largo de la cancha:

Largo del cuaderno:

OA 19

página

85

Tomo 1



Completa esta tabla de conteo considerando los objetos de tu estuche.

Objeto	Lápiz	Goma	Tijera
Cantidad de objetos			

OA 21

página

87

Tomo 1



¿Cuántos objetos tenía esta niña en su estuche?

Objeto	Lápiz	Goma	Tijera
Cantidad de objetos	13	3	1

objetos.

OA 21

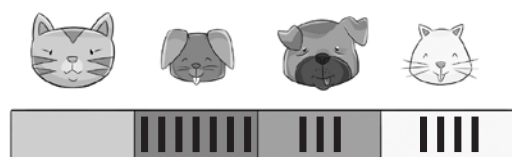
página

88

Tomo 1



Un grupo de niños respondió cuál era su animal favorito. Los resultados fueron:



¿Cuántos niños respondieron?

OA 20

página


89

Tomo 1



¿Qué aprendí? tickets de salida

En el siguiente gráfico, ¿qué color fue el más elegido?



gris claro gris negro

El color más elegido fue:

OA 20

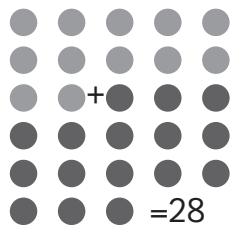
página

90

Tomo 1



Observa y completa.



$$\square + \square = 28$$

OA 9

página

93

Tomo 1



Hay 34 manzanas y 45 mandarinas.
¿Cuántas frutas hay en total?



Hay frutas.

OA 9

página

94

Tomo 1



Gloria tiene 34 nueces y Sergio tiene 5 más que ella.
¿Cuántas nueces tiene Sergio?

nueces.

OA 9

página

95

Tomo 1



¿Qué aprendí? tickets de salida

Tengo 34 lápices en mi casa y 23 en el colegio.
¿Cuántos lápices tengo en total?

OA 9

lápices.

página

96

Tomo 1



Un bus lleva 38 pasajeros. Subieron más personas y
ahora hay 43 pasajeros. ¿Cuántos subieron?

OA 9

Subieron pasajeros.

página

97

Tomo 1



Tenemos 15 cintas azules y
23 cintas rojas. ¿Cuántas
cintas hay en total?

OA 9

Respuesta: cintas.

Si usamos 5 cintas rojas.
¿Cuántas cintas rojas y azules
quedan en total?

Respuesta: cintas.

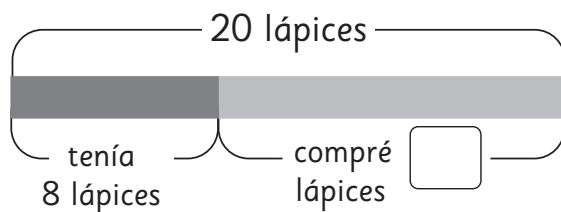
página

98

Tomo 1



Observa y crea un problema.



OA 9

página

100

Tomo 1



¿Qué aprendí? tickets de salida

En la fila de Susana hay 7 personas delante de ella y 5 personas detrás de ella.
¿Cuántas personas hay en la fila?

OA 9

personas.

página

101

Tomo 1



Solucionario ¿Qué aprendí? tickets de salida

¿Qué aprendí? página 5

20

¿Qué aprendí? página 7

48

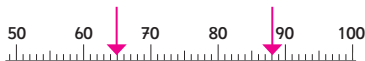
¿Qué aprendí? página 8

70, 91 y 35, respectivamente.

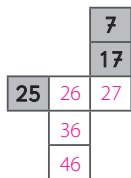
¿Qué aprendí? página 9

80 y 100, respectivamente.

¿Qué aprendí? página 11



¿Qué aprendí? página 14



¿Qué aprendí? página 15

$<$, $<$ y $<$, respectivamente.

¿Qué aprendí? página 17

58, 59 y 58, respectivamente.

¿Qué aprendí? página 20

60, 60 y 85, respectivamente.

¿Qué aprendí? página 21

70

¿Qué aprendí? página 23

Respuesta variada, por ejemplo: hora, precios, cantidades, etc.

¿Qué aprendí? página 25

32

¿Qué aprendí? página 27

31 y 24, respectivamente.

¿Qué aprendí? página 28

$$14 + 25 = 39$$

¿Qué aprendí? página 29

$$50 + 7 = 57$$

¿Qué aprendí? página 30

6 barras de 10 y 7 cubos dan 67.

$$13 + 54 = 67$$

¿Qué aprendí? página 33

32, 56 y 70, respectivamente.

¿Qué aprendí? página 36

Respuesta variada, por ejemplo: 6 : 30, 7 : 00, etc.

¿Qué aprendí? página 37

3:00

¿Qué aprendí? página 39

1 hora

60 minutos

¿Qué aprendí? página 40

15:00 y 15:00, respectivamente

¿Qué aprendí? página 42

60 minutos

24 horas

¿Qué aprendí? página 43

6:00 (6 de la mañana)

¿Qué aprendí? página 44

8: 30

¿Qué aprendí? página 48

79

¿Qué aprendí? página 49

Encerrar el segundo recuadro.

¿Qué aprendí? página 50

99 cartulinas.

¿Qué aprendí? página 51

$$\begin{array}{r} 56 \\ + 3 \\ \hline 59 \end{array}$$

¿Qué aprendí? página 52

59

¿Qué aprendí? página 53

66 láminas.

¿Qué aprendí? página 54

$$\begin{array}{r} 13 \\ + 51 \\ \hline 64 \end{array}$$

¿Qué aprendí? página 55

$$\begin{array}{r} 43 \\ + 51 \\ \hline 94 \end{array}$$

¿Qué aprendí? página 57

72 y 66, respectivamente.

¿Qué aprendí? página 58

$$\begin{array}{r} 43 \\ + 35 \\ \hline 78 \end{array} \quad \begin{array}{r} 81 \\ + 8 \\ \hline 89 \end{array}$$

¿Qué aprendí? página 60

Respuesta variada, por ejemplo: el resultado de la suma es 55, por tanto, las decenas y las unidades tienen dígito 5.

¿Qué aprendí? página 62

$$\begin{array}{r} 49 \\ - 5 \\ \hline 44 \end{array}$$

¿Qué aprendí? página 63

$$\begin{array}{r} 43 \\ - 12 \\ \hline 31 \end{array}$$

Ahora tiene **31** calcomanías.

¿Qué aprendí? página 64

9 alumnos.

¿Qué aprendí? página 65

$$12 - 5 = 7 \text{ o } 12 - 7 = 5$$

¿Qué aprendí? página 67

$$17 - 6 = 11$$

11 adultos.

¿Qué aprendí? página 68

$$\begin{array}{r} 48 \\ - 32 \\ \hline 16 \end{array} \quad \begin{array}{r} 98 \\ - 96 \\ \hline 2 \end{array}$$

¿Qué aprendí? página 69

$$\begin{array}{r} 96 \\ - 16 \\ \hline 80 \end{array}$$

¿Qué aprendí? página 70

$$\begin{array}{r} 97 \\ - 36 \\ \hline 61 \end{array}$$

¿Qué aprendí? página 72

Encerrar A.

¿Qué aprendí? página 73

Respuesta variada, por ejemplo: 20 cuadrados.

¿Qué aprendí? página 74

8 cm aproximadamente.

¿Qué aprendí? 76

Dibujar línea de 5 cm



¿Qué aprendí? página 77

100 cm.

¿Qué aprendí? página 78

3 m y 6 cm.

¿Qué aprendí? página 80

56 cm y 32 cm, respectivamente.

¿Qué aprendí? página 81

4 cm, 6 cm y 7 cm, aproximadamente.

¿Qué aprendí? página 82

4 m, 3 m, 34 cm, 3 cm.

¿Qué aprendí? página 85

Metros o m y centímetro o cm, respectivamente.

¿Qué aprendí? página 87

Respuesta variada, por ejemplo:

Objeto	Lápiz	Goma	Tijera
Cantidad de objetos	10	1	1

¿Qué aprendí? página 88

17 objetos.

¿Qué aprendí? página 89

14 niños.

¿Qué aprendí? página 90

El color más elegido fue: Gris

¿Qué aprendí? página 93

$12 + 16 = 28$

¿Qué aprendí? página 94

Hay 79 frutas.

¿Qué aprendí? página 95

39 nueces.

¿Qué aprendí? página 96

57 lápices.

¿Qué aprendí? página 97

Subieron 5 pasajeros.

¿Qué aprendí? página 98

38 cintas y 33 cintas, respectivamente.

¿Qué aprendí? página 100

Respuesta variada, por ejemplo: Tenía 8 lápices, compré algunos y ahora tengo 20 lápices en total. ¿Cuántos lápices compré?

¿Qué aprendí? página 101

13 personas.

Anexo 4:

Material didáctico recortable

Simbología

 Material prepicado

 Material recortable

Material Multibase

Sumo Primero • 2° básico



Se solicita ayuda de un adulto para desprender/recortar este material y guardarlo en una bolsa, cajita o sobre, con el nombre del estudiante.






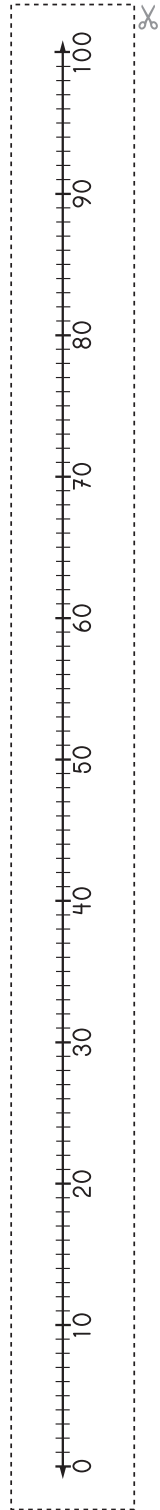
Tabla Posicional

Decenas


Unidades

Material Multibase Centena

Sumo Primero • 2° básico



1	2	3	4	5	6	7	8	9	10
11	12	13	14	15	16	17	18	19	20
21	22	23	24	25	26	27	28	29	30
31	32	33	34	35	36	37	38	39	40
41	42	43	44	45	46	47	48	49	50
51	52	53	54	55	56	57	58	59	60
61	62	63	64	65	66	67	68	69	70
71	72	73	74	75	76	77	78	79	80
81	82	83	84	85	86	87	88	89	90
91	92	93	94	95	96	97	98	99	100



2023

Calendario 2023

enero						
lun	mar	mie	jue	vie	sáb	dom
			1			
2	3	4	5	6	7	8
9	10	11	12	13	14	15
16	17	18	19	20	21	22
23	24	25	26	27	28	29
30	31					

abril						
lun	mar	mie	jue	vie	sáb	dom
			1	2		
3	4	5	6	7	8	9
10	11	12	13	14	15	16
17	18	19	20	21	22	23
24	25	26	27	28	29	30

julio						
lun	mar	mie	jue	vie	sáb	dom
			1	2		
3	4	5	6	7	8	9
10	11	12	13	14	15	16
17	18	19	20	21	22	23
24	25	26	27	28	29	30
31						

octubre						
lun	mar	mie	jue	vie	sáb	dom
			1			
2	3	4	5	6	7	8
9	10	11	12	13	14	15
16	17	18	19	20	21	22
23	24	25	26	27	28	29
30	31					

febrero						
lun	mar	mie	jue	vie	sáb	dom
			1	2	3	4
5						
6	7	8	9	10	11	12
13	14	15	16	17	18	19
20	21	22	23	24	25	26
27	28					

mayo						
lun	mar	mie	jue	vie	sáb	dom
			1	2	3	4
5	6	7	8	9	10	11
12	13	14	15	16	17	18
19	20	21	22	23	24	25
26	27	28	29	30	31	

agosto						
lun	mar	mie	jue	vie	sáb	dom
			1	2	3	4
5	6	7	8	9	10	11
12	13	14	15	16	17	18
19	20	21	22	23	24	25
26	27	28	29	30	31	

noviembre						
lun	mar	mie	jue	vie	sáb	dom
			1	2	3	4
5						
6	7	8	9	10	11	12
13	14	15	16	17	18	19
20	21	22	23	24	25	26
27	28	29	30			

marzo						
lun	mar	mie	jue	vie	sáb	dom
			1	2	3	4
5						
6	7	8	9	10	11	12
13	14	15	16	17	18	19
20	21	22	23	24	25	26
27	28	29	30	31		

junio						
lun	mar	mie	jue	vie	sáb	dom
			1	2	3	4
5	6	7	8	9	10	11
12	13	14	15	16	17	18
19	20	21	22	23	24	25
26	27	28	29	30		

septiembre						
lun	mar	mie	jue	vie	sáb	dom
			1	2	3	
4	5	6	7	8	9	10
11	12	13	14	15	16	17
18	19	20	21	22	23	24
25	26	27	28	29	30	

diciembre						
lun	mar	mie	jue	vie	sáb	dom
			1	2	3	
4	5	6	7	8	9	10
11	12	13	14	15	16	17
18	19	20	21	22	23	24
25	26	27	28	29	30	31

