

nombre

curso





fecha

ACTIVIDADES: NÚMEROS ORDINALES HASTA EL DÉCIMO













1. Los niños van a la fiesta de Margarita. Observe la imagen:




a) Complete según la posición en que se encuentran los niños (de derecha a izquierda):

	Va en primer lugar	Va.....
	Va en..... lugar	Va..... 2°
	Va en..... lugar	Va.....
	Va en lugar	Va.....


b) Encierre en un círculo la respuesta correcta:

a)	En el séptimo lugar va:			
b)	En el quinto lugar va:			
c)	En el noveno lugar va:			
d)	En el décimo lugar va:			

2. Enumere los pisos del edificio:

	<p>Marque con una X una ventana del quinto piso.</p>
	<p>Encierre con una línea una ventana del tercer piso.</p>
	<p>Dibuje una estrella en el octavo piso.</p>
	<p>Pinte una ventana del sexto piso.</p>

3. Observe estas imágenes:



Yo llegué primero



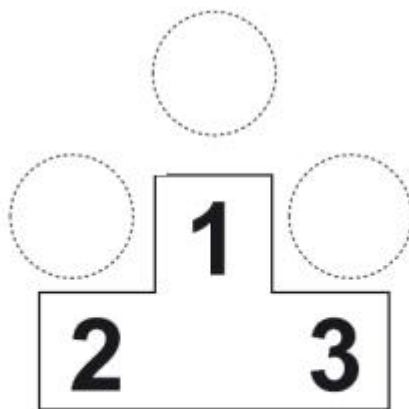
Yo llegué tercero



Yo llegué segundo



Una los niños de la competencia con el podio de acuerdo al orden en que llegaron:



4. Dibuje las tres actividades que más le gusta realizar con su grupo de amigos. Ordénelas según su preferencia:

1°	2°	3°

5. Si en la lista del curso estoy entre el séptimo y noveno lugar. ¿En qué lugar me encuentro? Encierre la respuesta en un círculo.



Quinto

Octavo

Décimo