

Actividades

1

Lee la instrucción y completa haciendo el cálculo mentalmente:

Doble de:
342

Mitad de:
648

Triple de:
213

Doble de:
4.343


2


Plantea la operación y calcula:


Problema:	Operación:	Resultado:
¿Qué número es el doble de 724?		
La mitad de un número es 432, ¿cuál es el número?		
¿Qué número es el triple de 312?		


3


Resuelve los siguientes problemas:

	En la heladería "Heladín" el precio de un barquillo simple es \$300 y en la heladería "Barquillín" cuesta el triple.	¿Cuánto cuesta un barquillo simple en la heladería "Heladín"? \$
---	--	---

 <p>Vestido \$800 Precio normal</p>	<p>Paulina compró un vestido en liquidación, que le costó la cuarta parte del precio normal.</p>	<p>¿Cuánto le costó el vestido a Paulina?</p> <p>\$</p>
--	--	---

	<p>El estanque de bencina del auto de Pedro se completa con 44 litros. Él gasta diariamente la mitad del estanque.</p>	<p>¿Cuántos litros de bencina gasta diariamente Pedro?</p> <p>\$</p>
---	--	--

	<p>Un automovilista recorre 99 kilómetros en 60 minutos. Un ciclista hace el mismo recorrido demorando el triple del tiempo.</p>	<p>¿En cuánto tiempo el ciclista recorre 99 kilómetros?</p> <p>\$</p>
--	--	---

 <p>Radio \$990 Precio normal</p>	<p>En liquidación, una tienda de artículos eléctricos, ha bajado a mitad de precio el valor de una radio.</p>	<p>¿Qué precio tiene actualmente la radio, sabiendo que su precio normal era \$990?</p> <p>\$</p>
--	---	---