

1

Completa:

Número en símbolos	Número en palabras
476	
	Cuatrocientos ochenta
407	
	Trescientos cuatro
	Quinientos

2

¿Con qué monedas puedes pagar un jugo de frutas que cuesta \$325?



• Completa la tabla con otras maneras de pagar:

Monedas de \$100	Monedas de \$10	Monedas de \$1
3	1	15

• ¿En qué caso usaste menos monedas para pagar?

3

¿Qué monedas usarías para pagar un lápiz goma que cuesta \$479, con la **menor cantidad** de monedas de \$100, \$10 y \$1? Completa:

..... monedas de \$100 + monedas de \$10 + monedas de \$1

7

Completa:

Tenía \$365

Vendí un helado en \$100

Ahora tengo \$.....






Completa:

Tenía \$430

Echo otros \$10

Ahora tengo \$.....



Completa:

Tenía \$435

Echo otro peso

Ahora tengo \$.....



8

- Pablo tenía ahorrado \$ 245 y su abuelita le regaló \$10. ¿Cuánto dinero tiene ahora?
- Su papá le regaló otros \$30. ¿Cuánto dinero tiene Pablo ahora?