

1

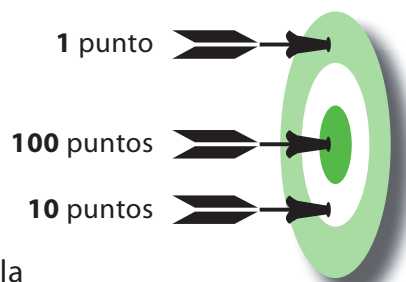
Calcula mentalmente y completa:

$740 + 10 =$	$850 + 30 =$	$930 + 50 =$	$620 + 70 =$
--------------	--------------	--------------	--------------

2

Andrea y Diego están jugando al tiro al blanco con dardos que llevan un imán en la punta.

- Gana 1 punto si el dardo cae en la región exterior.
- Gana 100 puntos si el dardo cae en el disco central.
- Gana 10 puntos si el dardo cae en la región blanca.



Observa las marcas que dejaron los dardos y calcula la cantidad de puntos que ganó cada niño:

<p>Andrea ganó puntos</p>	<p>Diego ganó puntos</p>
-------------------------------------	------------------------------------

Completa:

El juego lo ganó

.....

Explica.

En el segundo juego participan Valentina y Nicolás:

Nombre	Puntaje
Nicolás	684
Valentina	681

Completa:

El juego lo ganó

.....

Explica.

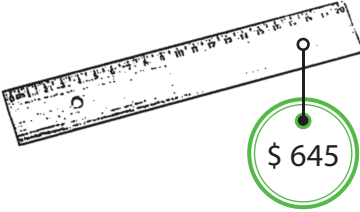
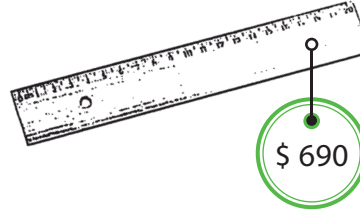
3

<p>Valentina</p> <p>Mi estuche me costó \$ 948</p> 	<p>Tiarere</p> <p>Mi estuche lo pagué con estas monedas</p> 
--------------------------------------------------------------------------------------------------------------------------------------	------------------------------------------------------------------------------------------------------------------------------------------------

- ¿Quién pagó más por su estuche?
- Explica.

4



Pablo necesita comprar una regla y se ha dado cuenta que la misma regla está en dos librerías:

<p>Librería "El Pincel"</p> 	<p>Librería "Baratito"</p> 
-----------------------------------------------------------------------------------------------------------------	-----------------------------------------------------------------------------------------------------------------

- ¿Dónde le conviene a Pablo comprar la regla?
- Explica.

5

Marca con una cruz la niña que tiene más láminas:

<p>Tengo 847 láminas</p>  <input type="checkbox"/>	<p>Tengo 819 láminas</p>  <input type="checkbox"/>
------------------------------------------------------------------------------------------------------------------------------------------	--------------------------------------------------------------------------------------------------------------------------------------------