

1

.....	+	=




2

.....	+	=

3

.....	+	=

4


						
.....	+	10	=		
También:		10	+	=

5

						
.....	+	=		
También:		+	=

6

Si juntamos estos lápices



con 22 lápices, ¿cuántos hay?