

DÍA 38: LA HORA Y EL TIEMPO.

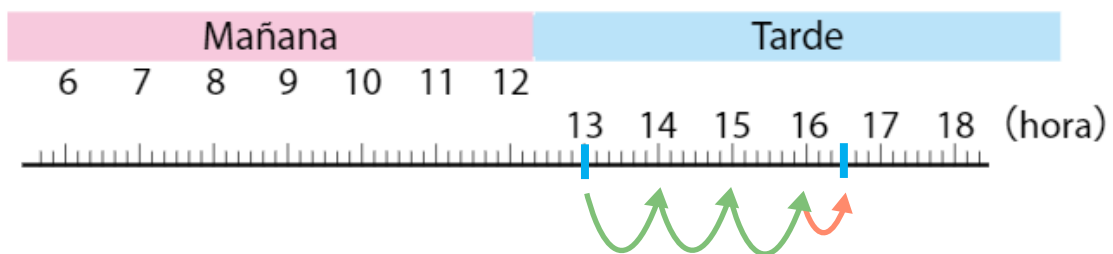
Problemas sobre el tiempo transcurrido.

¿Cuánto tiempo hay entre la 13:00 y 16:30 de la tarde?

Paso 1: **Marcamos en el diagrama la hora o horas dadas.**

Paso 2: **Avanzamos en horas.**

Paso 3: **Avanzamos en medias horas.**



Tiempo transcurrido: 3 horas y 30 minutos.
3 horas y media.

1. Responde usando este diagrama.

a) ¿Qué hora es 3 horas después de las 11 en punto de la mañana?

:

b) ¿Qué hora es 2 horas antes de las 13 en punto de la tarde?

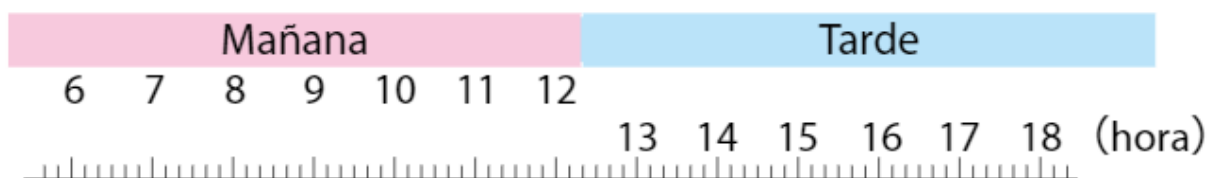
:

c) ¿Cuánto tiempo hay entre las 9:30 y las 12:00 de la mañana?

horas y minutos.

Resuelve.

2. Pilar fue de compras con su mamá. Salieron a las 14:30, volvieron a las 16:00. ¿Cuánto tiempo estuvieron comprando?



Respuesta: horas y minutos.

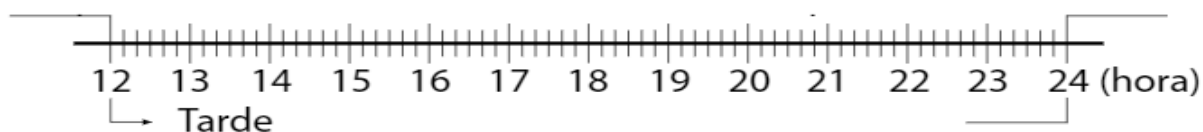
3. Rodrigo escribió en su diario lo que hizo después del colegio.

Después del colegio, visité a mi abuela. Luego, cuando volví a casa, ya habían pasado dos horas desde que salí del colegio.

En mi casa, estudié 1 hora, ayudé a preparar la cena 30 minutos, cené 30 minutos.

Cuando miré la hora, eran exactamente las 20 en punto.

Usa el diagrama para responder.



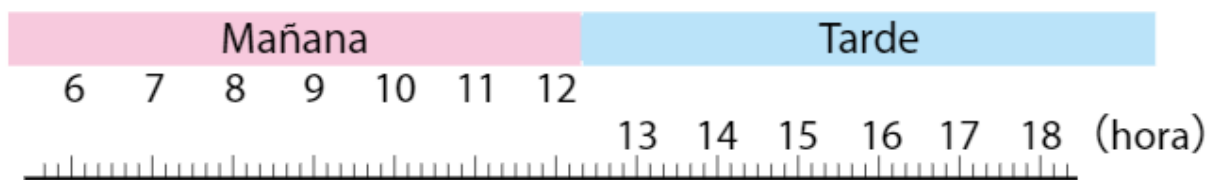
a) ¿A qué hora empezó a estudiar Rodrigo?

:

b) ¿A qué hora salió Rodrigo del colegio?

:

Usando el diagrama, responde la pregunta 4 y 5.



4. María fue a dar un paseo de 1 hora y media y llegó a las 16 horas a su casa ¿A qué hora salió María a pasear?

a) 14:30

b) 15:30

c) 14:00

5. ¿Qué hora es media hora antes de las 11:00 horas?

a) 11:30

b) 10:30

c) 12:30