

# Solucionario

## Cuadernillo 1° básico Sumo Primero







**Chile**  
en marcha





**DÍA 25: COMPARAMOS CON DIBUJOS LOS NÚMEROS HASTA 10.**

**Marca con una X el conjunto que tenga más elementos.**

 <input type="checkbox"/>	 <input checked="" type="checkbox"/>
---	---

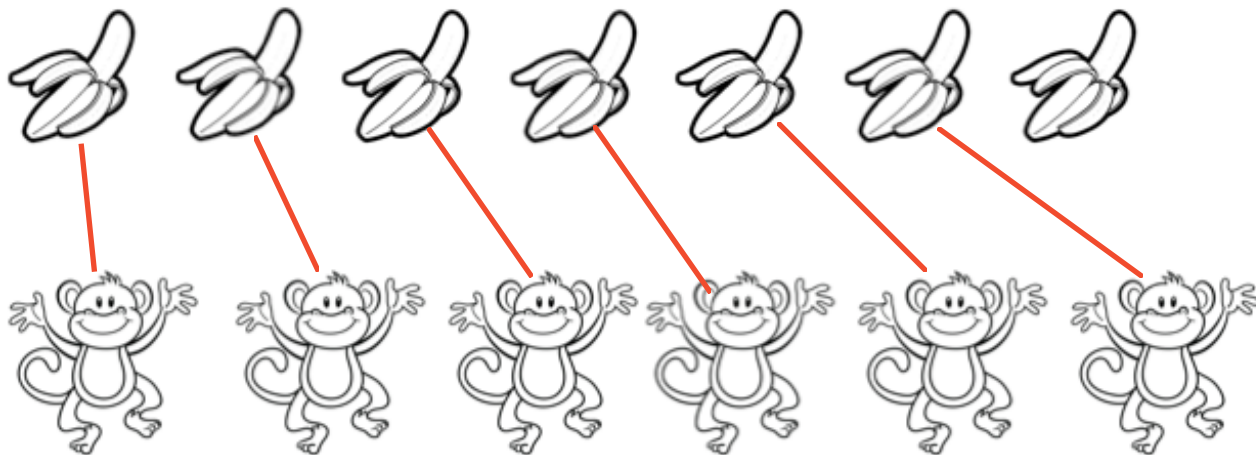
 <input checked="" type="checkbox"/>	 <input type="checkbox"/>
--	--

 <input type="checkbox"/>	 <input checked="" type="checkbox"/>
---	---

## DÍA 26: COMPARAMOS HACIENDO CORRESPONDENCIA 1 A 1.

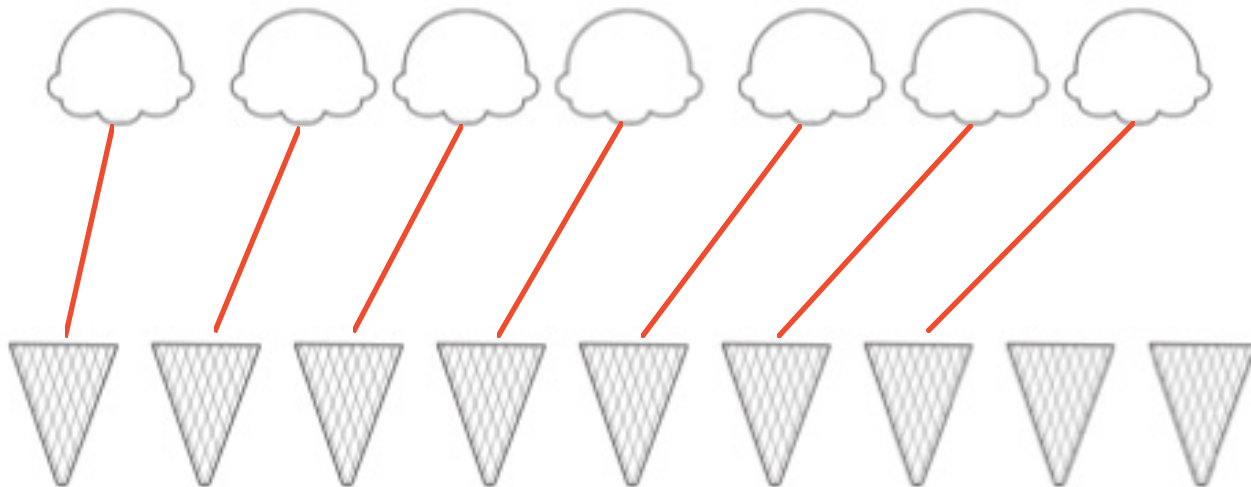
Une y luego completa los espacios.

Une cada monito con un plátano.



¿Hay más monos o plátanos? Plátanos  
¿Cómo lo descubriste? Coméntalo con un adulto.

Une cada bolita de helado con un cono.



¿Hay más bolitas o conos? Conos  
¿Cómo lo descubriste? Coméntalo con un adulto.

# DÍA 27: ORDENAMOS LOS NÚMEROS HASTA 10

Recorta los números y pégalos en la recta numérica siguiendo el orden de los números.

1	2	3	4	5
---	---	---	---	---

6	7	8	9	10
---	---	---	---	----



1	2	3	4	5
---	---	---	---	---

6	7	8	9	10
---	---	---	---	----

## DÍA 28: UNIMOS LOS PUNTOS.

Une los puntos para descubrir la figura oculta. Luego, colorea como tú quieras.

